

ИНТЕЛЛЕКТУАЛЬНАЯ ИГРА

Русского географического общества



ТУР 1

Задание

1

Определите
субъекты
Российской
Федерации
по гербу



1



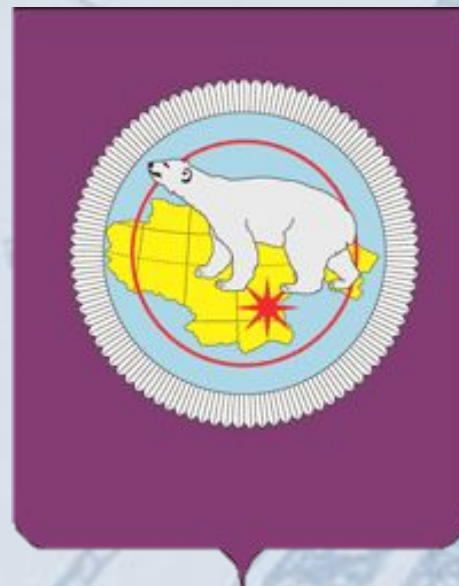
2



3



4



5



1. Камчатский край




2. Республика Крым



3. Приморский край



4. Челябинская область



5. Чукотский Автономный округ

ТУР 1

Задание
2

Определите *народ* по
описанию
национальной кухни

1. Отличительная особенность блюд крестьянской кухни данного народа — практически не встречается такой приём как жарка. Как правило, пища готовилась в печи, поэтому очень широко используются варка, тушение, томление. Также для кухни характерна заготовка овощей и плодов при помощи квашения, соления и мочения. Однако для современных вариантов блюд жарка является равноправным процессом приготовления наряду с остальными. В частности, жарке подвергаются блины и оладьи, яйца, многие виды мясных блюд.

2. Данный народ – прирожденные скотоводы, что и обусловило особенности их питания. В зимнее время в рационе преобладает говядина и конина, а в летнее – баранина. В несколько меньшей степени используется свинина. Охота и рыболовство предоставляют в распоряжение местных кулинаров дичь и рыбу ценных пород (сиг, таймень, байкальский омуль). Практически все меню занимают натуральные продукты, иногда, как в случае со строганиной, в сыром виде. Самое популярное блюдо данной национальной кухни – буузы, или позы, которые готовятся с кониной, говядиной или бараниной с добавлением лука и внутреннего жира.

1. Русские




2. Буряты



ТУР 2

Назовите **субъекты**
Российской Федерации, в
которых расположены
данные объекты всемирного
наследия ЮНЕСКО



1



2



3



4

1



**Архангельская область,
Спасо-Преображенский
Соловецкий ставропигиальный
мужской монастырь**

2



**Ленинградская
область,
Геодезическая дуга
Струве**

3



**Калининградская область,
Куршская коса**

4



**Республика Якутия
(Саха),
Ленские столбы**

ТУР 3

Назовите изображённых **животных**, основные их **места обитания** в России, а также основную **причину** сокращения популяций



1



2



- **Амурский тигр**
- **Хабаровский, Приморский края**
- **Браконьерство, уничтожение среды обитания**



- **Снежный барс (Ирбис)**
- **Красноярский край, республика Хакасия, Тува, Алтай (горы Саяны)**
- **Браконьерство, уничтожение среды обитания**

A faded, light blue map of Russia is the background. It shows the outline of the country and some internal regional boundaries. Cyrillic text is overlaid on the map, including the word 'ОСЕВУА' in the center and 'ГОЛУ' in the lower-left quadrant. The text is semi-transparent and serves as a watermark or background for the slide.

ТУР 4

Определите *субъект*
Российской Федерации
по изображению



1



2



3



4



5



6



**1. Республика
Бурятия**



**2. Республика
Татарстан**



**3. Белгородская
область**



**4. Вологодская
область**



**5. Республика Тува
(возможно:
Калмыкия)**



**6. Камчатский
край**

ТУР 5

Прослушайте аудиозапись и дайте название **способу исполнения**, а также назовите **не менее 2 регионов**, где можно встретить такой способ исполнения

1.



2.





1. Горловое пение

Республика Якутия,
Бурятия,
Тыва, Алтайский край и др.



2. Семейское (старобрядческое) многоголосное пение

Республика Бурятия, Брянская
область,
Забайкальский край, Амурская
область и др.

The background is a faded map of the Black Sea region, showing coastlines, islands, and a grid. Cyrillic text is visible on the map, including "ОСЕВЯЛ" and "МАРАТ".

ТУР 6

Прослушайте описания и
ответьте на поставленные
вопросы

«...Осада! приступ! злые волны,
Как воры, лезут в окна. Челны
С разбега стекла бьют кормой.
Лотки под мокрой пеленой,
Обломки хижин, бревны, кровли,
Товар запасливой торговли,
Пожитки бледной нищеты,
Грозой снесенные мосты,
Гроба с размытого кладбища
Плывут по улицам!

Народ
Зрит божий гнев и казни ждет.
Увы! всё гибнет: кров и пища!
Покойный царь еще Россией
Со славой правил. На балкон,
Печален, смутен, вышел он
И молвил: «С божией стихией
Царям не совладеть». Он сел
И в думе скорбными очами
На злое бедствие глядел...»

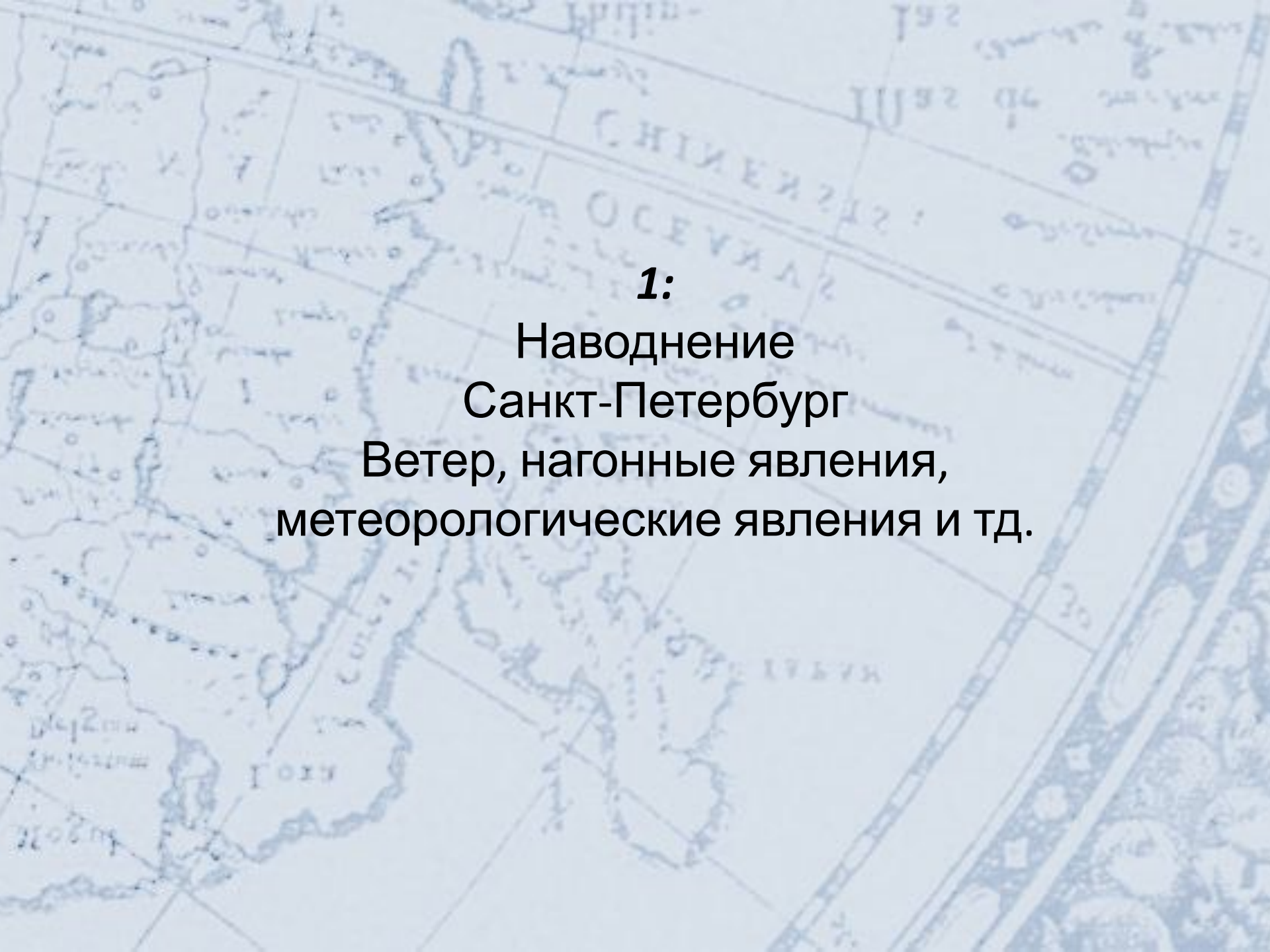
Назовите описываемое явление. Назовите город, в котором оно произошло. Назовите основные причины возникновения описываемого явления.

«От сего тамошние жители совсем разорились, а многие бедственно скончали живот свой. В некоторых местах луга холмами и поля морскими заливами сделались...

В то время мы плыли из Охоцка к большерецкому устью, а вышед на берег октября 14 дня, довольно могли чувствовать трясение, которое случилось временем столь велико, что на ногах стоять было не без трудности, а продолжалось оно до самой весны, однако больше на островах, и по берегу Восточного моря, нежели в местах, отдаленных от моря.

Большерецкие казаки, которые были в то время там, сказывали мне, что они по бывшем первом разе трясения на горы бежать устремились вместе с местными жителями, оставив все свои вещи»

Назовите описываемое явление. Назовите год описываемого в данном фрагменте явления. Назовите основные причины возникновения данного явления.



1:
Наводнение
Санкт-Петербург
Ветер, нагонные явления,
метеорологические явления и тд.



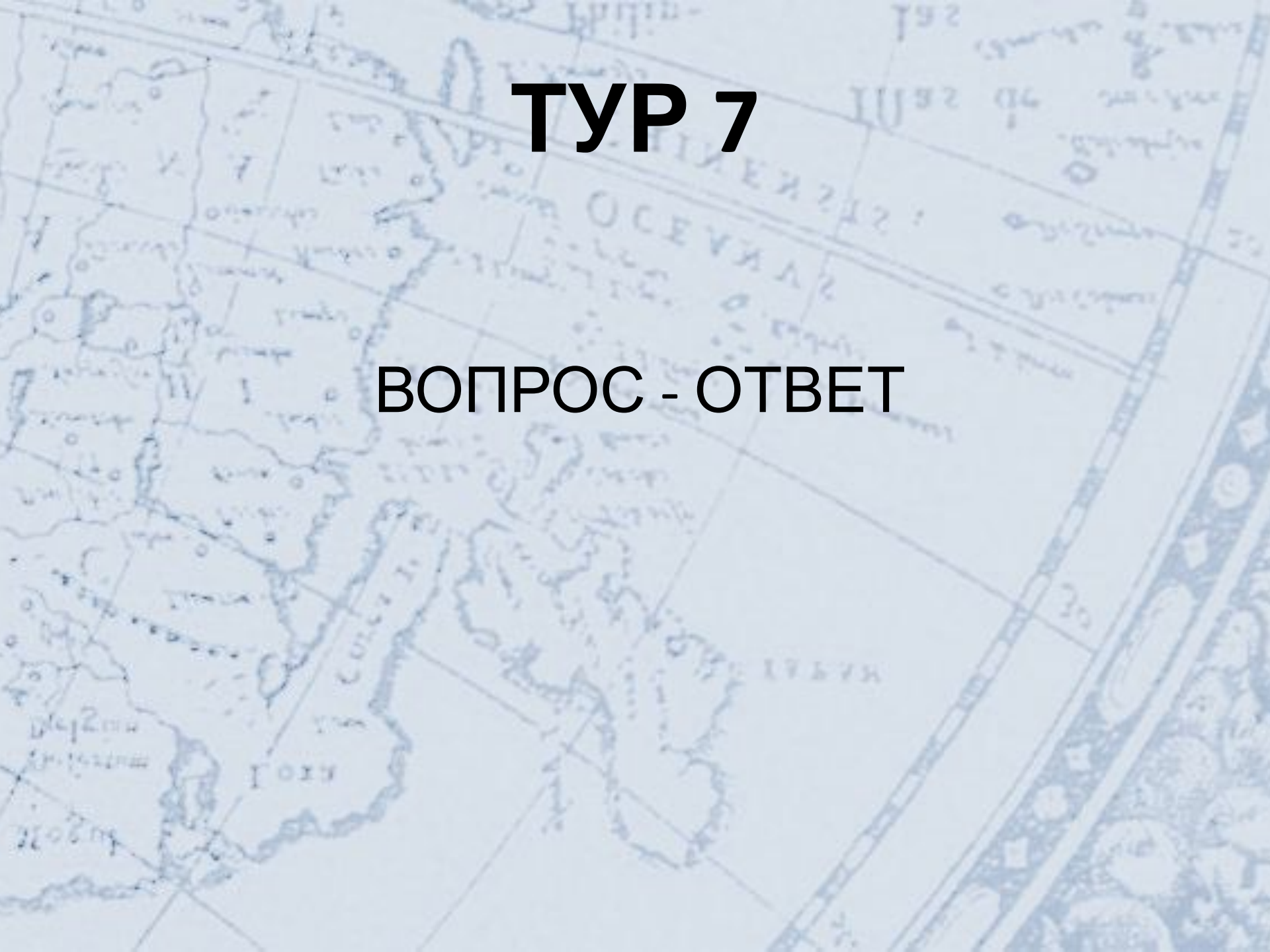
2:

Цунами
1737 год

Землетрясения (подвижки земной коры, субдукция литосферных плит и т.д.), оползни, извержения вулканов, метеорологические явления

ТУР 7

ВОПРОС - ОТВЕТ



Вопрос 1

Назовите
продукт, регион,
где его производят,
а также
заповедник,
расположенный на
территории двух
регионов, включая
данный.



Вопрос

2

Перед вами две фотографии музея и фотография общего вида местности.

Назовите *регион* России, где расположен этот музей.



A faded, light blue map of Russia serves as the background. The map shows the outline of the country and some internal regional boundaries. Overlaid on the map is the text of the question in bold black font. The text is centered and reads: 'Вопрос 3' followed by 'Где и когда был основан первый заповедник в России?'.

Вопрос

3

**Где и когда был
основан первый
заповедник в России?**

A faded, light blue map of the Caucasus region, showing the Black Sea to the west and the Caspian Sea to the east. The map features a grid of latitude and longitude lines and various geographical labels in Cyrillic script, including "С. НИИЕЙ 212", "ОСЕУЯЛ", and "ГОЛУ".

Вопрос

4

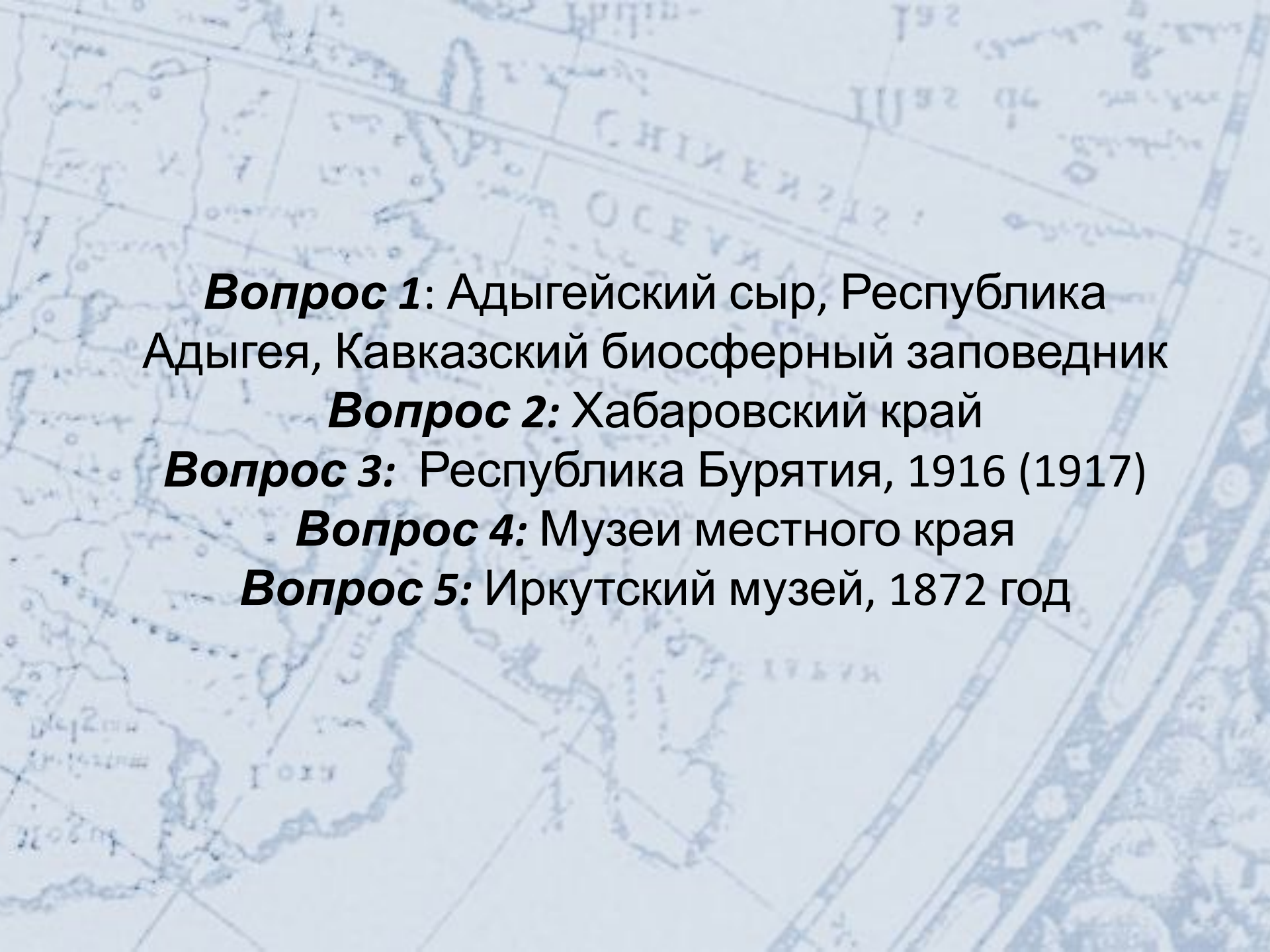
**Какое название до середины
1930-ых годов носили
Краеведческие музеи?**



Вопрос

5

**Когда и где был основан
первый
«Краеведческий музей»?**



Вопрос 1: Адыгейский сыр, Республика Адыгея, Кавказский биосферный заповедник

Вопрос 2: Хабаровский край

Вопрос 3: Республика Бурятия, 1916 (1917)

Вопрос 4: Музеи местного края

Вопрос 5: Иркутский музей, 1872 год

ТУР 8

«Соберём Россию вместе!»

ИНТЕЛЛЕКТУАЛЬНАЯ ИГРА

Русского географического общества

