


Проверочная работа по биологии 6 класс природные зоны



(широколиственные
леса)

учитель МОУ "СОШ № 124"
Перевалова С.В.


Из предложенных растений выберите только те, которые произрастают в тундре.

Наведите курсор мыши на рисунок, если ничего не происходит, значит вы выбрали не верный рисунок.

Широколиственный лес






Берёза



Широколиственный лес

Дуб

Берёза





Широколиственный лес

Ольха

Дуб

Берёза







Широколиственный лес

Вяз

Дуб

Берёза

Ольха



Широколиственный лес

Вяз



Дуб






Берёза



Клён



Ольха



Широколиственный лес



Вяз




Дуб



Берёза





Ольха



Липа



Клён



Широколиственный лес




Вяз




Дуб



Берёза




Ольха



Липа



Клён



В каждом ряду одно растение
лишнее.

Найдите это растение!

1.



2.



3.



1.



2.



3.



1.



2.



3.



1.



2.



3.

