

# Сложение вида

+ 2, + 3


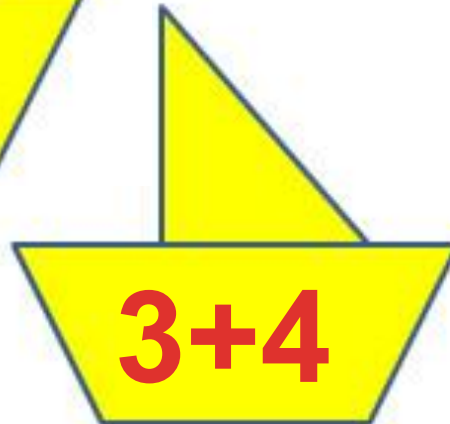
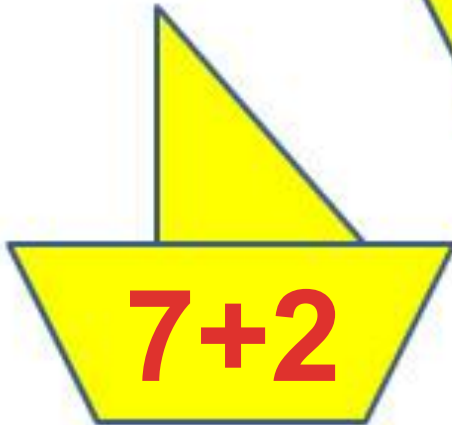
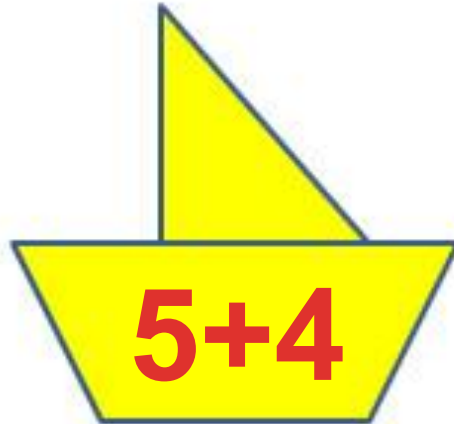
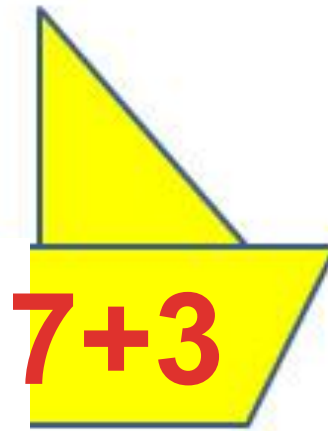
стр. 66

Урок № 106



*Школа России*  
*Математика 1 класс*





Приведи кораблики  
к 9 причалу.


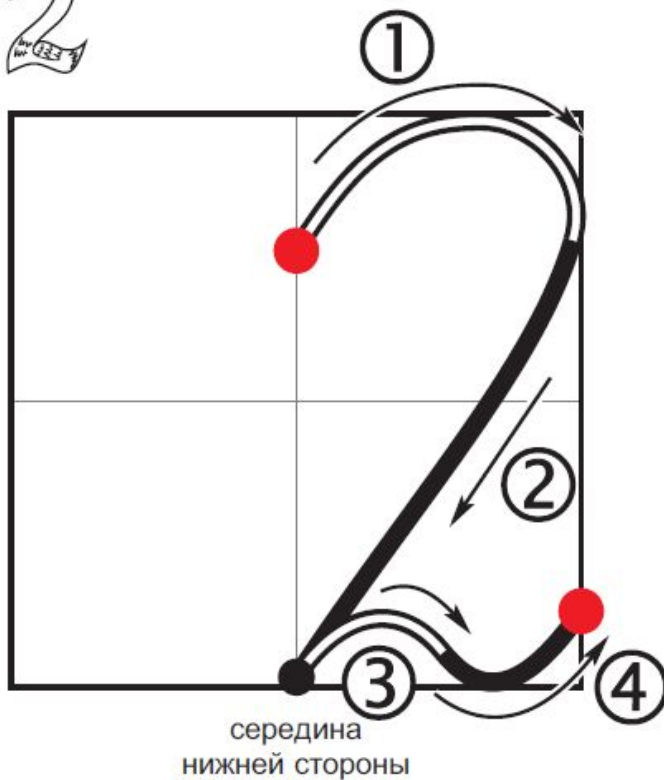
# 24 апреля

## Классная работа

2

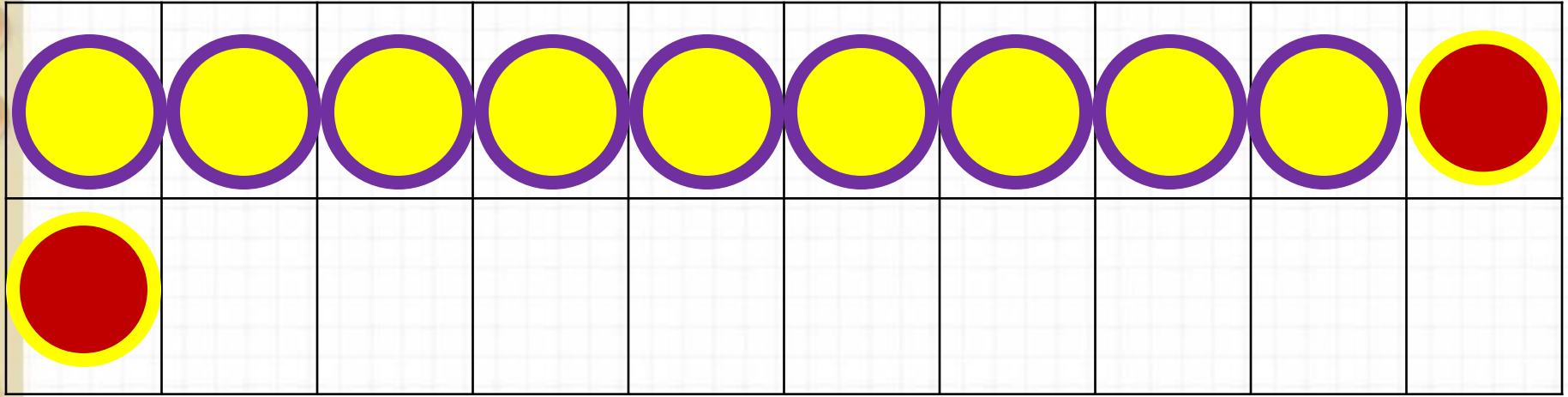


Пишем цифру 2



РЕЧЕВАЯ ФОРМУЛА:

- ✓ Крышечка ①
- ✓ Наклонная ②
- ✓ Крышечка ③
- ✓ Корзиночка ④.

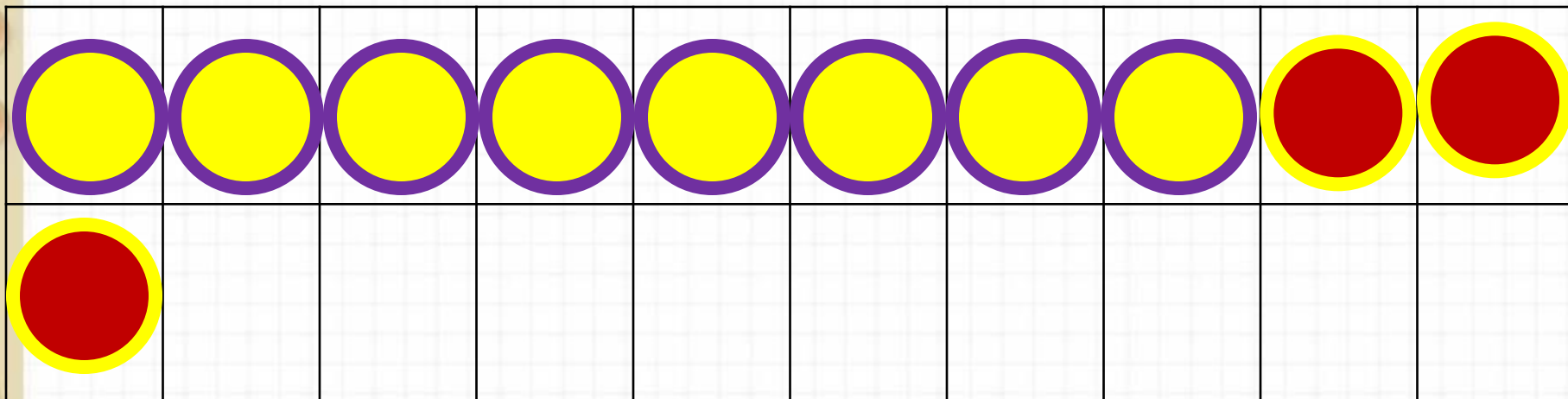


$$9 +$$

$$9 + 1$$

2

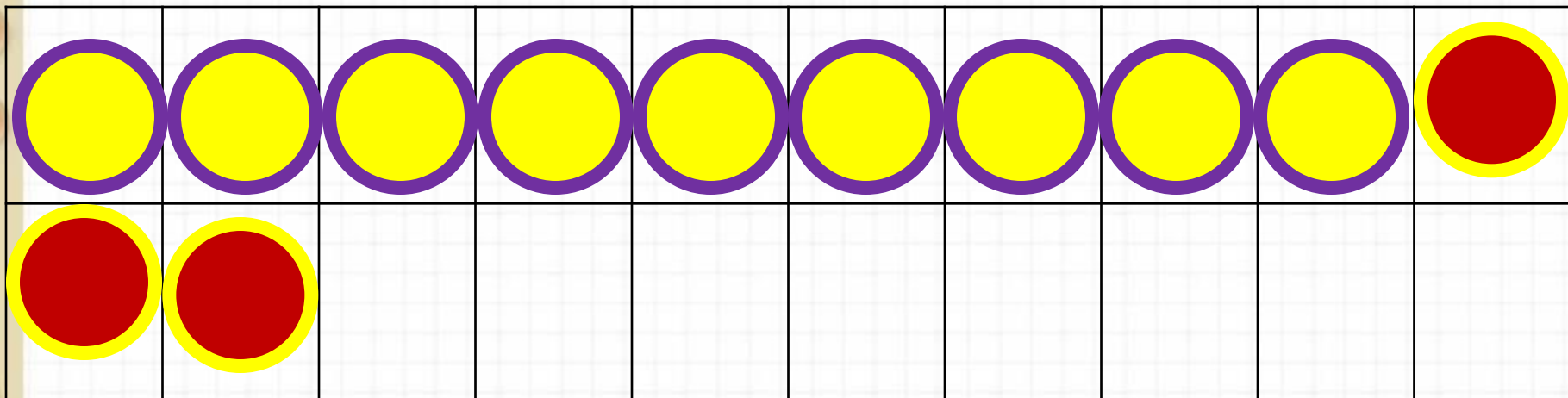
+1



$$8 +$$

$$8 + 2 +$$

Какие числа будем учиться прибавлять?



$$9 +$$

?

$$9 + 1 +$$

?

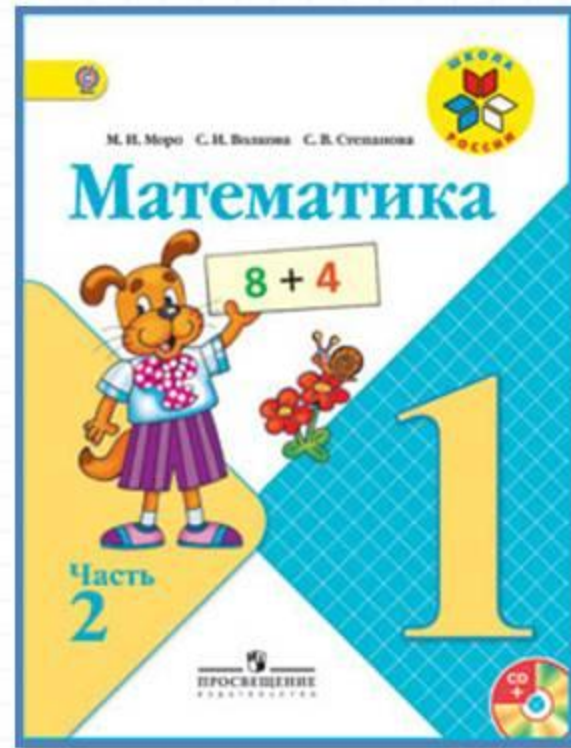
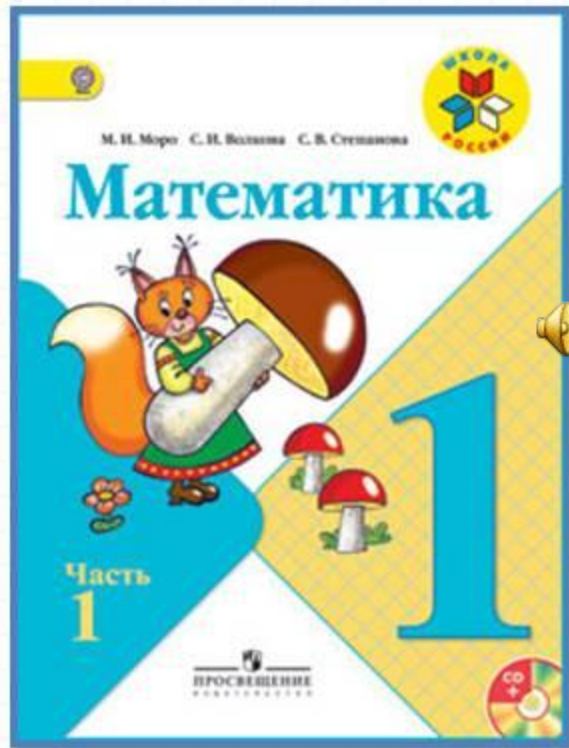
**Запомни!**

$$9 + 2 = 11$$

$$8 + 3 = 11$$

$$9 + 3 = 12$$

# Работа по учебнику



стр. 66



1.  $8 - 5 - 2$

$10 - 7 - 2$

$10 - 8 - 2$

$0 + 9 - 8$

$8 + 2 - 4$

$6 + 0 - 5$

$8 - 6 + 10$

$7 - 5 + 10$

$9 - 7 + 10$



2. Зина купила 6 тетрадей в клетку, а тетрадей в линейку на 2 меньше. Сколько всего тетрадей купила Зина?



*В кл. – 6 т.*

*? т.*

*В л. - ? на 2 т. М.*

1)  $6 - 2 = 4$  (т.) – в линейку

2)  $6 + 4 = 10$  (т.) – всего

Ответ: всего 10  
тетрадей.

# Работа в тетради

стр. 34

Потренируйся  
самостоятельно

