



День Зелёного огонька

**Конкурс-соревнование
по правилам дорожного
движения для учащихся
младших классов**

Назовите этот знак. К какой группе он относится ?



Правильный ответ



***Движение на велосипедах
запрещено!***

***Знак
запрещающий***

Назовите этот знак. К какой группе он относится ?




Правильный ответ



Велосипедная дорожка

Знак разрешающий

Назовите этот знак. К какой группе он относится ?



Правильный ответ



*Место остановки
автобуса и (или)
троллейбуса*

*Знак **информационно-
указательный***

Назовите этот знак. К какой группе он относится ?



Правильный ответ



Дети

Знак предупреждающий

Назовите этот знак. К какой группе он относится ?



Правильный ответ



Пешеходный переход

***Знак информационно-
указательный***

Назовите этот знак. К какой группе он относится ?



Правильный ответ




Жилая зона

Знак информационно-указательный

Отгадайте загадку

*Что за чудо - синий дом,
Окна светлые кругом.
Носит обувь из резины
И питается бензином?*

Правильный ответ- автомобиль



Отгадайте загадку

*Кто идет по тротуару,
Мимо сквера и бульвара,
В садик, в школу, на завод,
Скажем дружно ???*

Правильный ответ- пешеход



Отгадайте загадку

*Тут колес всего лишь пара,
Но зато есть тормоз, фара,
Отражатель – **красный**
свет.*

Это что?



Правильный ответ- велосипед



Отгадайте загадку

*Алфавит вез самосвал,
Буквы в пути растерял.
Что же значит, например,
У дороги буква «Р»?*


Правильный ответ- место стоянки транспорта



Отгадайте загадку

*Он имеет по три глаза,
По три с каждой стороны,
И хотя еще ни разу
Не смотрел он всеми сразу-
Все глаза ему нужны.
Он висит тут с давних пор
И на всех глядит в упор.
Что же это?*

Правильный ответ- светофор



Отгадайте загадку

*Он в фуражке, сапогах,
Держит палочку в руках.
Своим жезлом полосатым
Быстро крутит, ну и ну!
Пешеходы и машины
Подчиняются ему!*

Правильный ответ- регулировщик



Оцените ситуацию





Правильный ответ

Опасно выходить на проезжую часть дороги из-за стоящих машин, препятствий, сооружений, зелёных насаждений.

Оцените ситуацию





Правильный ответ

*Переход дороги в
неположенном месте
перед близко идущим
транспортом*

Оцените ситуацию




Правильный ответ



*Игры на проезжей части
дороги и вблизи неё
опасны*

Оцените ситуацию



Правильный ответ



***Неправильный выбор
места перехода дороги
при высадке из
общественного
транспорта***

Оцените ситуацию




Правильный ответ



*Игры вблизи трамвайной
линии и проезжей части
дороги опасны*

Оцените ситуацию




Правильный ответ



***Катание на роликовых
коньках, велосипедах,
самокатах и т.п. по
дорогам запрещено***

Составитель: Селивёрстова Елена Александровна



**учитель начальных
классов,
1 категории,
МОУ №477,
г.Челябинск**