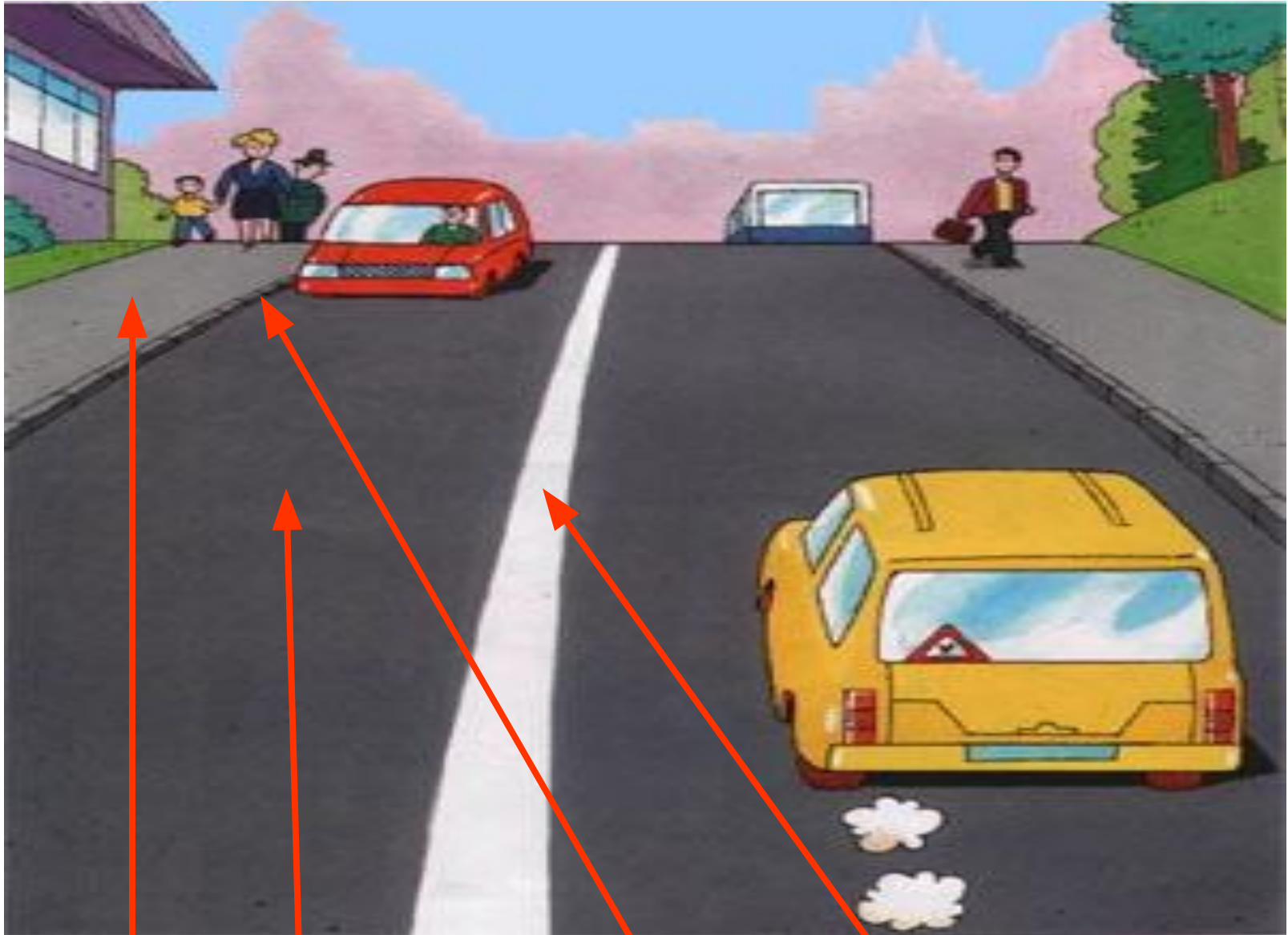


Правила дорожного движения



Задание 1: Рассмотрите рисунок городской дороги. Соедини линиями названия элементов дороги и их изображения на рисунке.




1. тротуар 2. проезжая часть 3. бордюр 4. разделительная полоса

Задание 2: Посмотри на картинку. Какой стороны нужно придерживаться, когда идешь по тротуару или пешеходной дорожке?



а) правой

б) левой



Задание 3: Впиши названия участников дорожного движения на рисунках
пешеход-1 водитель-2 пассажир-3



а) Мужчина 1
идет с собачкой.

б) 2
едет на машине.

в) Женщина 3



г) Мальчик тоже 1
Он идет и везёт игрушку-машинку.



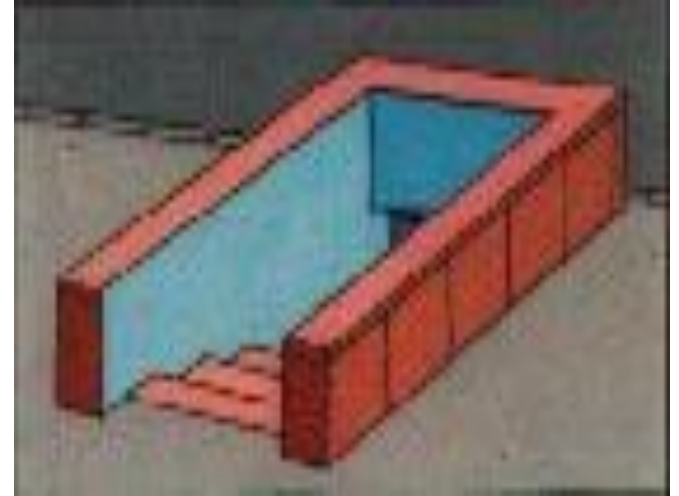
д) А этот мальчик едет.
Он 2 велосипеда

Задание 4: Поставь названия переходов и их изображения.
а) надземный переход б) подземный переход в) пешеходный переход

1 **В**





2 **Б**



3 **А**



Задание 5: Внимательно посмотри на рисунок. Как назвать одним словом то, что изображено на рисунке _____ . Соедини линиями названия транспорта с их изображением на рисунке. Это легковой автомобиль, трамвай, автобус, грузовой автомобиль.




Задание 6: Обозначь сигналы светофора нужным цветом. Поставь нужную цифру. Соедини линиями названия светофоров и их изображения

красный - 1
транспортный
желтый - 2
зеленый - 3
пешеходный

а)

б)

1



2



Задание 7: Дорогу надо переходить только на _____ сигнал светофора?

1. Красный

2. Желтый

3. Зеленый

Задание 8: Переходить проезжую часть дороги

необходимо _____

1. прямо

2. наискосок

Задание 9: Помоги мальчику перейти через проезжую часть. Расставь цифры в нужной последовательности и впиши их в контрольную строку.



1. посмотреть налево
2. посмотреть направо
3. остановиться перед проезжей частью
4. перейти остальную часть дороги
5. дойти до середины, если нет машин

--	--	--	--	--	--

Задание 10: Впиши в прямоугольники правильные названия элементов дороги: **обочина-1** **тротуар-2** **пешеходная дорожка-3**



Стрелкой показано это:

а) _____



б) _____



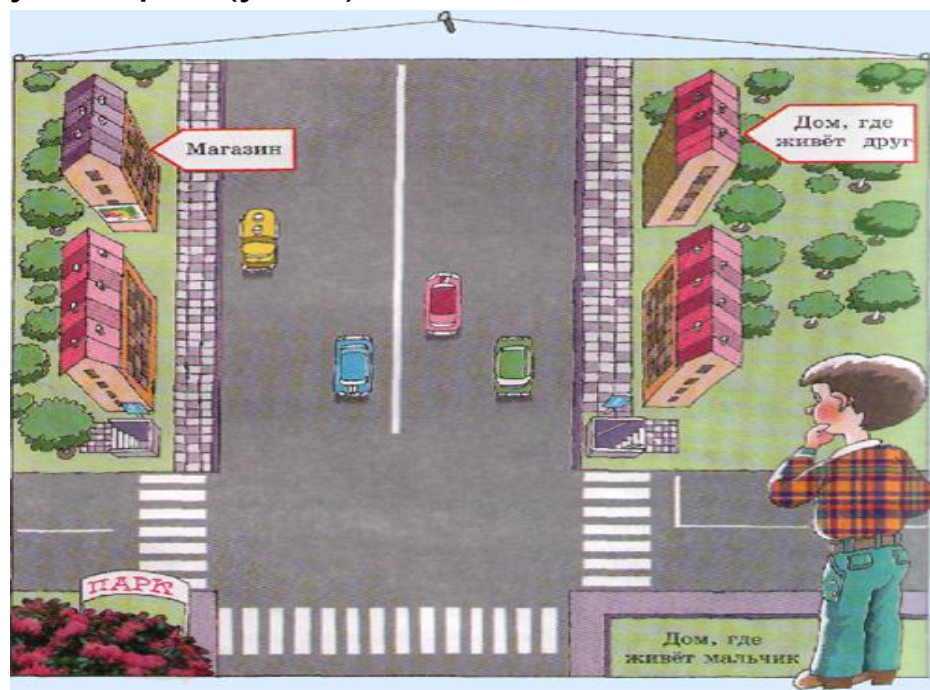
в) _____

Задание 11: Где можно играть?

1. ВО ДВОРЕ
2. НА ПРОЕЗЖЕЙ ЧАСТИ
3. НА СТАДИОНЕ
4. НА ШОССЕ
5. НА ДЕТСКОЙ ПЛОЩАДКЕ
6. НА УЛИЦАХ И ДОРОГАХ
7. НА СПОРТИВНОЙ ПЛОЩАДКЕ

Задание 12: Место пересечения двух дорог (улиц)?

- а) пешеходный переход
- б) надземный переход
- в) перекресток



Задание 13: Посмотри внимательно на дорожные знаки и каждому поставь свое название:

1. Пешеходная дорожка
2. Движение пешеходов запрещено
3. Подземный пешеходный переход
4. Надземный пешеходный переход
5. Пешеходный переход (знак для водителей)
6. Пешеходный переход (знак для пешеходов)
7. Дети
8. Движение на велосипедах запрещено
9. Железнодорожный переезд со шлагбаумом
10. Железнодорожный переезд без шлагбаума.

а)



б)



в)



г)



д)



е)



ж)



з)



к)



л)




Задание 18: С какого возраста можно ездить на велосипеде около проезжей части?

- 1. с 3 лет
- 2. с 10 лет
- 3. с 14 лет



Задание 19: Рассмотрите рисунок и обведите карандашом опасные места по дороге в школу.





Молодцы!