




# «На улицах и дорогах»

## Викторина



# Весёлый задачник

По направлению к городу ехало 3 автомобиля, а навстречу им ехало 5 автобусов. Сколько машин ехало в город?



# Выбери правильный ответ

## Является ли пассажир участником дорожного движения?

А – Является.

В – Не является.

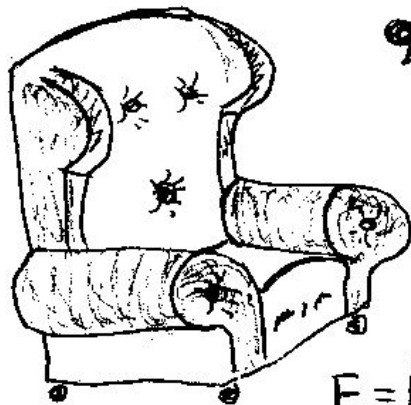
С – Не является, т.к. находится в транспорте.

Ребус

# перекрёсток



O=E



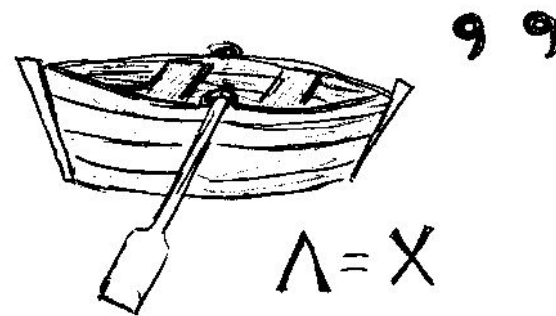

E=E



321

# Ребус

## переход




# Выбери правильный ответ

Опасна ли данная ситуация?

А - Не опасна, так как водитель троллейбуса видит мальчика, переходящего дорогу.

В - Не опасна, так как легковая машина за троллейбусом очень далеко и мальчик успеет перейти дорогу.

С - Опасна, так как мальчик и водитель легковой машины не видят друг друга.



# Сигналы светофора

Сигналы светофора

Ребятам надо знать.

И правила движения

Конечно, соблюдать!

\*\*\* свет – ты подожди.

\*\*\* свет – ты приготовься,

А \*\*\* – поспеши

И переходить не бойся!




# Загадки



Что за чудо синий дом,  
Окна светлые кругом,  
Носит обувь из резины  
И питается бензином.

В поле лестница лежит,  
Дом по лестнице бежит.



Опоясал каменный ремень  
Сотни городов и деревень.





# Загадки

Заболел живот у Ромы,  
Не дойти ему до дома.  
В ситуации такой  
Нужно знак найти, какой?

1



2



3



# Выбери правильный ответ

Какие меры предосторожности должен предпринять пешеход, начиная переход дороги между двумя стоящими автомобилями?

А - Убедиться, что нет приближающихся слева и справа транспортных средств.

В - Переходить дорогу медленно.

С - Переходить дорогу как можно быстрее.



# Расшифруй



т	р	о	т	у	а	р
---	---	---	---	---	---	---

**Молодцы!**

---