

Своя игра



Посчитай -ка	Числа в сказках	Острый глаз	Хитрые задачи	Ребусы
<u>10</u>	<u>10</u>	<u>10</u>	<u>10</u>	<u>10</u>
<u>20</u>	<u>20</u>	<u>20</u>	<u>20</u>	<u>20</u>
<u>30</u>	<u>30</u>	<u>30</u>	<u>30</u>	<u>30</u>

10

12	15	40	15	18	30	15
M	O	P	O	3	K	O

M $10+2$

3

P $33+7$

$25-7$

K $51-21$

O $7+8$



20

34	30	51	80	34
К	О	Н	Е	К

50	30	14	26	11	51	30	34
Г	О	Р	Б	У	Н	О	К

Р $5+9$

К $49-15$

У $28-17$

Н $45+6$

О $19+11$

Е $31+49$

Г $37+13$

Б $33-7$



30

К	р	а	с	н	а
60	70	73	71	81	73
62					

я						
53	73	40	72	42	50	73

Ш 22+11

Щ 48+14

Н 42+39

Ч 26+16

С

П 34+37

К 32+18

А

57+16

Ч 27+13

57+15




10

Сколько козлят было у многодетной козы?



20

Сколько бойцов было у Али-Бабы?



30 Сколько лет жил старик со старухой у моря в сказке А.С. Пушкина «Сказка о рыбаке и рыбке»?




Они жили в ветхой землянке
Ровно тридцать лет и три года



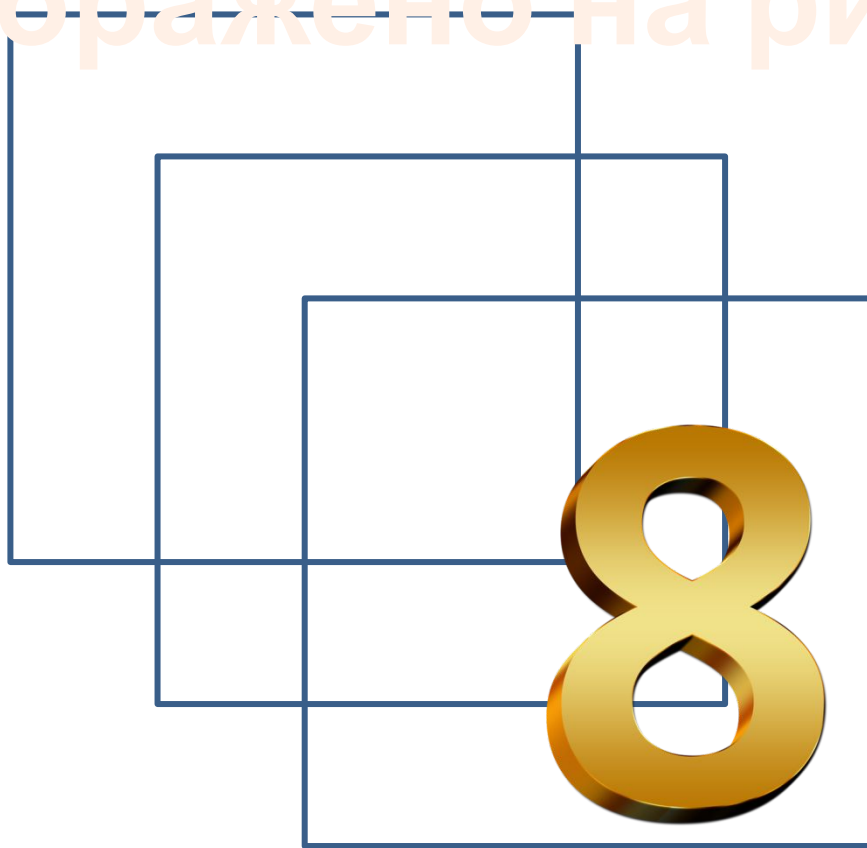
10

Сколько квадратов
изображено на
рисунке?




20

Сколько
четырёхугольников
изображено на рисунке?



30

Сколько
треугольников
изображено на
рисунке?



12



10

На березе росло 50 яблок.
Подул сильный ветер, и 10
яблок упало. Сколько осталось?



20

Над рекой летели птицы: голубь,
щука, 2 синицы, 3 стрижа и 5 ежей.
Сколько птиц, ответь скорей!



30

Пришёл мельник на мельницу. В каждом углу по 3 мешка, на каждом мешке по 3 кошки, у каждой кошки по три котёнка, у каждого котёнка — по мышонку. Сколько всего ног?



10

Д




ДВ



20

О




ОДИ

И



30

ЧИ



ЧИСЛ

О

