



Физкультминутк а





Домашнее задание

- ***«Длина экватора 40075,696км.
Сколько времени потребуется
легковому автомобилю,
движущемуся со скоростью 80км/ч
без остановок, преодолеть это
расстояние?»***



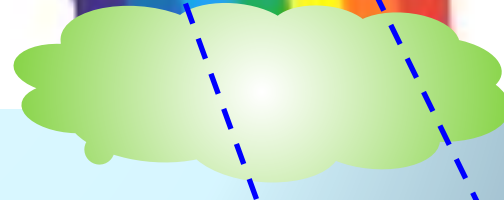
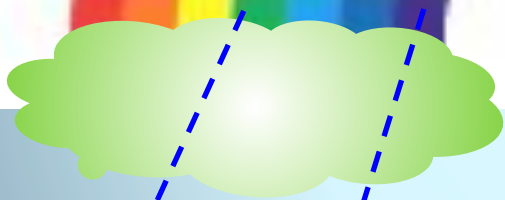
Определите длины всех рыб



- - Мы проплыли много миль, видели интересных животных: летающих рыб, акул длиной 5 ярдов, огромных китов – больше 10 ярдов.
- - А на обед ели большую рыбу длиной 4 фута. Одной рыбы хватило, чтобы накормить всю команду!

Нам необходима таблица
перевода мер длин



- 1 ярд = 3 футам = 91,44 см
- 1 фут = 12 дюймам = 30,48 см
- 1 дюйм = 2,54 см
- 1 миля = 1,609 км







Тест (с выбором ответа)

1. Из шкурок какого зверька шилась королевская мантия?

А) Белка - 45;
-0,45.

Б) Горноста́й – 4,5;

В) Соболь

$$3,75 * 1,2$$

2. Самая большая ядовитая змея – это...

А) Тигровый питон - 4,5; Б) Анаконда – 405; В) Гюрза –
4,05

$$93,15 : 23$$

3. Какой кошке поклонялись древние индейцы?

А) Ягуар – 4,05;

Б) Гепард – 40,5;

В) Рысь – 0,45.


$$(7 - 5,38) * 2,5$$

4. Какую птицу называли птицей – легендой?


А) Венценосный журавль – 1,935;


Б) Священный ибис





Тигровый питон





Урок сегодня завершён,

И каждый должен знать:

Кто поработал хорошо

Получит точно ПЯТЬ.

Спасибо за урок

