

Составь задачу по картинке и реши ее.



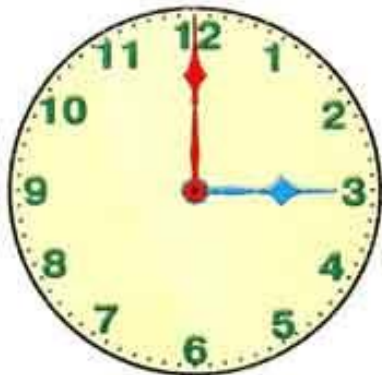
$$2 + 4 = 6$$

Составь задачу по картинке и реши ее.



$$7 - 2 = 5$$

Который час ?





Час

Сутки — это время, за которое Земля совершает оборот вокруг своей оси. Можно сказать, что они состоят из дня и ночи. В сутках 24 часа. В часе 60 минут, а в минуте — 60 секунд.

Нарисуй на каждом циферблате часовую стрелку, показывающую заданное время. Покажи это время на часах с подвижными стрелками.



Сейчас один час.




Сейчас шесть часов.



Сейчас два часа.



Сейчас пять часов.



Сейчас девять часов.

Прочитай предложения. Соедини линиями попарно часы и картинки.



Соня встаёт в 7 часов.



В 8 часов Соня завтракает.



В 9 часов Соня и Часик идут гулять в парк.



А в 11 они возвращаются домой.



1

Который час?



1

2

3

4

5

6

7

8

9





12 : 00

1 : 00

5 : 00



4 : 00

12 : 00

5 : 00



9 : 00

3 : 00

6 : 00



12 : 00

5 : 00

2 : 00



4 : 00

7 : 00

6 : 00




10 : 00

12 : 00


2 : 00

Нарисуй на часах минутную и часовую стрелки так, чтобы они показывали

4 часа




7 часов



10 часов



6 часов



12 часов

