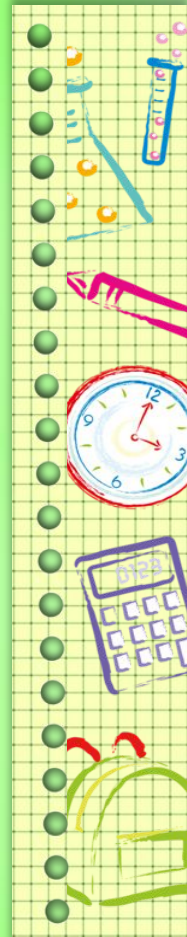


Окружающий мир 4 класс УМК «Школа
России»

Тест №63

Итоговый
за курс 4 класса

Работу выполнила
учитель начальных классов
МОУ СОШ №1 г. Камешково
Владимирской области
Курова Татьяна
Владимировна



Все вопросы и задания разделены на три уровня сложности:

уровень А – базовый,

уровень В – средней сложности,

уровень С – повышенной сложности.

Задания уровней А и В предполагают один верный ответ, в заданиях уровня С может быть как один, так и несколько правильных ответов.

Рекомендации по оцениванию результатов:

Каждое верно выполненное задание

уровня А оценивается в 1 балл,

уровня В – в 2 балла,

уровня С – в 3 балла.

80 – 100% - оценка «5»;

60 – 80% - оценка «4»;

40 – 60% - оценка «3»;

0 - 40% - оценка «2».



Выбери верное утверждение:

A1

Выбери верное утверждение:

1

**Вокруг Земли
вращаются 8 планет.**

1

**В Солнечную систему
входят Земля и Солнце.**

2

**Вокруг Солнца
вращаются 9 планет.**

2

**В Солнечную систему
входят Земля, Солнце и
Луна.**

3

**Вокруг Солнца
вращаются 8 планет.**

3


**В Солнечную систему
входят Солнце и все
вращающиеся вокруг него
тела.**

4

**Солнце вращается вокруг
Земли.**

4

**В Солнечную систему
входят Солнце и крупные
планеты.**



**Где самый богатый
животный и растительный
мир?**

1 в полярных поясах

2 На Северном полюсе

3 в умеренных поясах

4 в тропиках

A2

**Где самый бедный
животный и растительный
мир?**

1 в южном тропическом
поясе

2 в северном
тропическом поясе

3 в полярных поясах

4 в умеренных поясах



Что мы называем историческим источником?

1 учебник по истории

2 исторические статьи в газетах

3 всё то, что может нам рассказать о прошлом

4 исторические книги

Аз

Какая наука узнаёт о прошлом, изучая древние предметы, сооружения?

1 археология

2 история

3 астрономия

4 география



Какая природная зона описана в тексте?

A4

Какая природная зона описана в тексте?

Лето тёплое, но зима суровая. Преобладают хвойные растения, так как они менее требовательны к теплу. Животный мир разнообразен.

(Сделайте клик здесь, чтобы открылись ответы.)

Солнце никогда не поднимается высоко над горизонтом. Из растительности на камнях встречаются лишайники. Животные питаются рыбой.

(Сделайте клик здесь, чтобы открылись ответы.)



Укажи самую низкую
равнину России.

1 Западно-Сибирская

2 Приволжская

3 Среднесибирское
плато

4 Восточно-Европейская

A5

Что называют Каменным
поясом земли Русской?

1 Уральские горы

2 Кавказские горы

3 Алтай

4 Русскую равнину



Какое озеро России включено в Список объектов Всемирного природного наследия?

1

Ладожское

2

Байкал

3

Каспийское

4

Онежское

A6

Какое озеро России из-за огромных размеров часто называют морем?

1

Ладожское

2

Онежское

3

Каспийское

4

Байкал



Что должны делать люди
для охраны водоёмов?

1 не купаться в реках

2 поливать огороды
водой из рек и озёр

3 уничтожать
обитателей водоёмов

4 расчищать берега
водоёмов от мусора

A7

Какое утверждение
неверно?

1 Лес – защитник почвы.

2 Лесов так много, что
вырубить их все
невозможно.

3 Лес очищает воздух.

4 Лес защищает почву от
разрушения.

Укажи основное свойство торфа.

1 прочность

2 твёрдость

3 пластичность

4 горючесть

A8

Какие почвы распространены в нашей стране?

1 чернозёмы

2 луговые

3 болотные

4 подзолистые

Что является названием отрасли животноводства?

1 цветководство

2 металлургия

3 свиноводство

4 полеводство

А9

Какое полезное ископаемое используют для изготовления посуды?

1 глину

2 торф

3 известняк

4 гранит



Какая эпоха длилась
с 1500 по 1900 год?

1 эпоха Древнего мира

2 эпоха Средних веков

3 эпоха Нового времени

4 эпоха Новейшего
времени

A1
0

В какую эпоху возникли
первые цивилизации?

1 в первобытную эпоху

2 в эпоху Древнего мира

3 в эпоху Средних веков

4 в эпоху Нового
времени



Какое растение не является луговым?

1

тысячелистник

2

мятлик

3

тимофеевка

4

тростник

В1

Какая птица помогает защищать урожай от гусениц яблонной плодожорки?

1

сова

2

скворец

3

канюк

4

пустельга



Какое насекомое поедает
листья картофеля?

1 колорадский жук

2 жужелица

3 божья коровка

4 тля

В2


Из чего получают
перловую крупу?

1 из ячменя

2 из кукурузы

3 из ржи

4 из гречихи



Кто организовал первую в России химическую лабораторию?

1

Пётр Первый

2

М.В. Ломоносов

3

Екатерина Вторая

4

Иван Третий

Вз

Кого называют продолжателем дел Петра Первого?

1

Ивана Грозного

2

Екатерину Вторую

3

Александра Второго

4

Николая Второго



Какое название получило
решающее сражение
Отечественной войны 1812
г.?

1 Куликовская битва

2 Бородинская битва

3 Ледовое побоище

4 Ордынское сражение

В4

Укажи порядок
расположения полос на
Государственном флаге
РФ?

1 красная, белая, синяя

2 синяя, красная, белая

3 белая, синяя, красная

4 белая, красная, синяя



Укажи объекты
Всемирного природного
наследия России.

1 водопад Виктория

2 Большой барьерный
риф

3 Алтай

4 озеро Байкал

C1

Укажи объекты
Всемирного культурного
наследия России.

1 Акрополь

2 Московский Кремль

3 исторический центр
Санкт-Петербурга

4 Кижы

Какие полезные ископаемые используют для получения топлива?

1

нефть

2

известняк

3

каменный уголь

4

природный газ

C2

Какие права есть у гражданина Российской Федерации?

1

на образование

2

на труд

3

на отдых

4

на разрушение памятников культуры

Назови государственные праздники России.

1 День России

2 День
Государственного
флага РФ

3 День Конституции

4 День полиции

СЗ

Какие изобретения относятся к эпохе Новейшего времени?

1 фотография

2 телевидение

3 электричество

4 холодильник



**Ключ к тесту:
вариант**

1

A 1	A 2	A 3	A 4	A 5	A 6	A 7	A 8	A 9	A 10	B 1	B 2	B 3	B 4	C 1	C 2	C 3
2	4	3	2	1	2	4	4	3	3	4	1	2	2	3,4	1,3, 4	1,2 3
16.	16.	16.	16.	16.	16.	16.	16.	16	16.	26	2	26.	26.	36.	36.	36

**Ключ к тесту:
вариант**

2

A 1	A 2	A 3	A 4	A 5	A 6	A 7	A 8	A 9	A 10	B 1	B 2	B 3	B 4	C 1	C 2	C 3
3	3	1	1	1	3	2	4	1	2	2	1	2	3	2,3 4	1,2 3	2,4
16.	16.	16.	16.	16.	16.	16.	16.	16	16.	26	2	26.	26.	36.	36.	36

Ссылки на интернет-ресурсы

https://img-fotki.yandex.ru/get/4106/37366204.5ff/0_15aa41_e244a0f6_XL.png

http://weclipart.com/gimg/DF1A8003A13C640F/school-borders-clipart-DJI_BacktoSchool_pencilb_order_art.png

<http://allday1.com/imagedb/4f/1/f34bf592bc47928a2f34c76a5ff42.jpg>

<http://www.freshuu.com/i/2017/01/light-green-wallpaper-high-quality.jpg>

https://img-fotki.yandex.ru/get/53993/200418627.181/0_17ebaa_ef5e8f78_M.png

*Шаблон выполнен
учителем
иностранного языка
МОУ СОШ №1 г. Камешково
Шахториной О. В.*

Литература:

Контрольно-измерительные материалы. Окружающий мир. 3 класс. Автор И.Ф. Яценко

