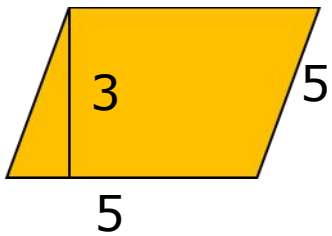


ТЕСТ

Задание №1.

Найдите площадь данного ромба

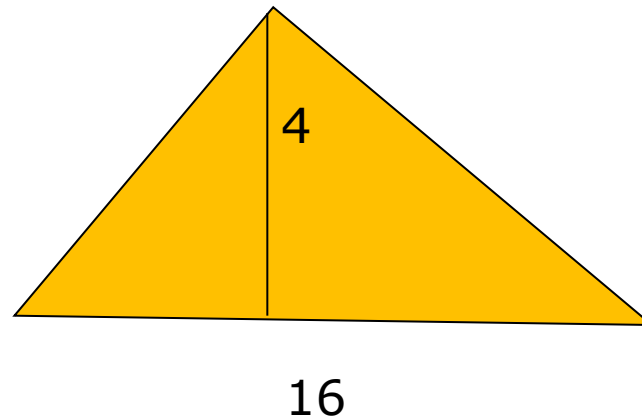


- A) 12
- B) 9
- C) 15
- D) Другой ответ

Задание №2.

Найдите площадь данного треугольника.

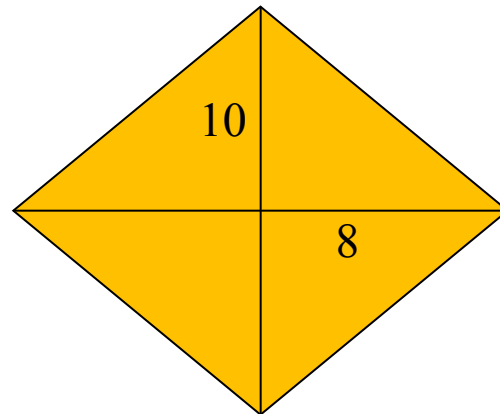
- A) 32
- B) 36
- C) 25
- D) Другой ответ



Задание №3.

Найдите площадь ромба, если $d_1=10$ и $d_2=8$

- A) 80
- B) 40
- C) 5
- D) Другой ответ



Задание №4.

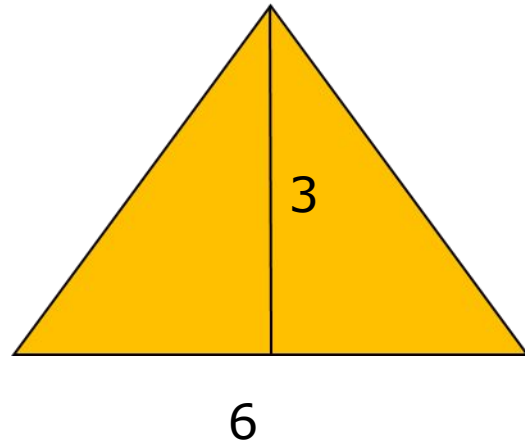
Найдите площадь треугольника

A) 9

B) 18

C) 6

D) Другой ответ



Задание №5.

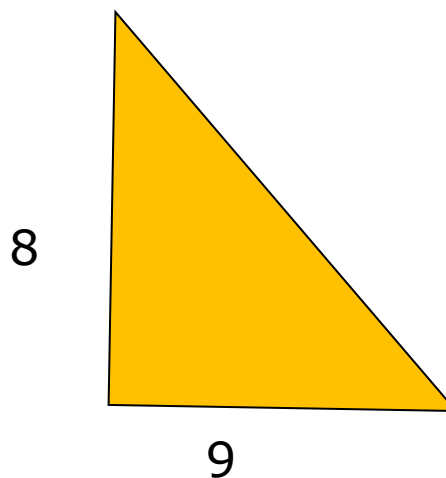
Найдите площадь прямоугольного треугольника

A) 72

B) 18

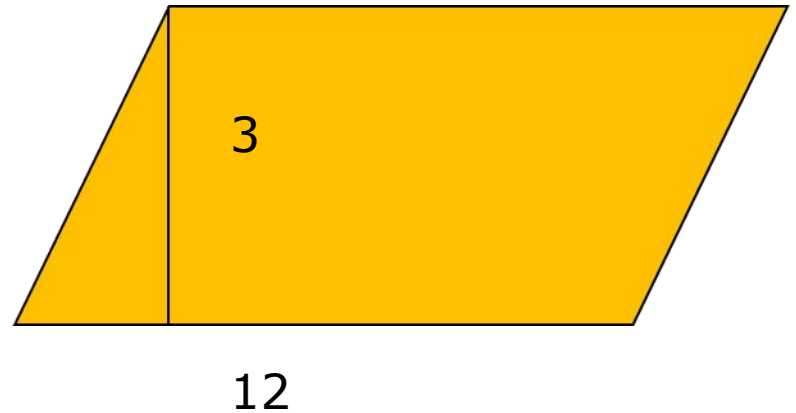
C) 36

D) Другой ответ



Задание №6.

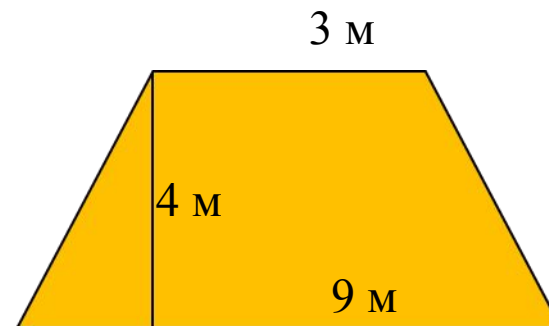
Найти площадь параллелограмма



- A) 36
- B) 18
- C) 12
- D) Другой ответ

Задание №7.

Найти площадь трапеции



- A) 108
- B) 54
- C) 48
- D) Другой ответ

ОТВЕТЫ К ТЕСТУ

1	2	3	4	5	6	7
C	A	B	A	C	A	D

Критерий оценок:

7 – оценка «5»

6 – оценка «4»

5-3 – оценка «3»

2 – оценка «2»



УСПЕХОВ!

