

# **Устный счёт**

## **Состав числа 6**

**Математика, 1 класс**

Найди «соседей» числа



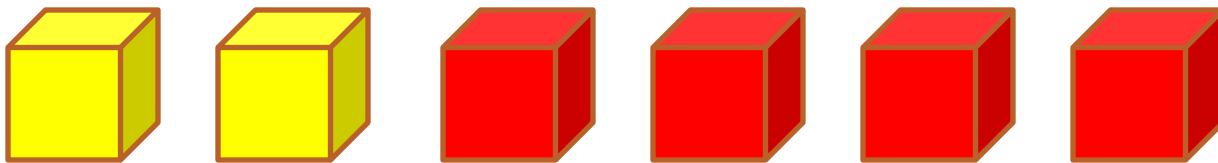
**Расставь числа в порядке  
возрастания**

4 2 1 6 3 5

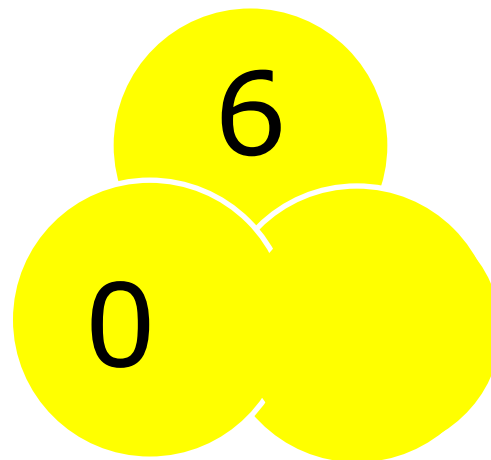
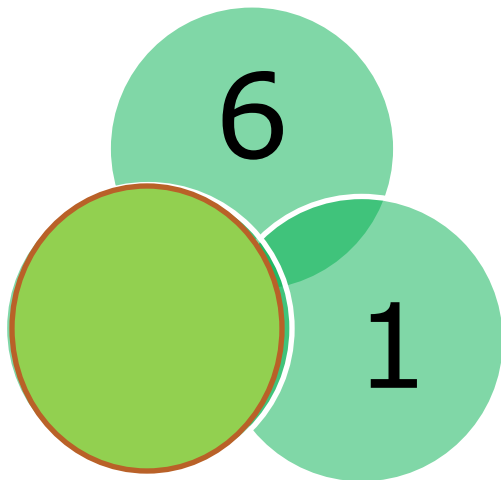

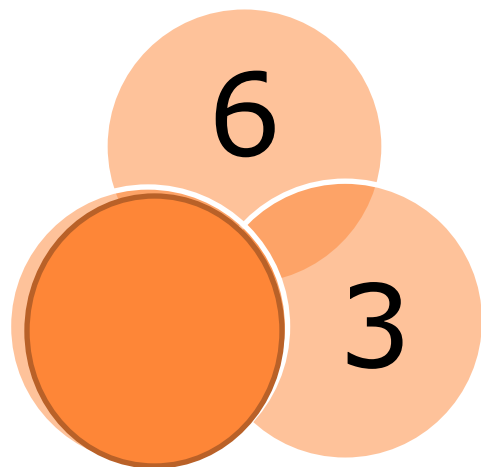
# Реши задачу

Два кубика у Миши,  
Четыре – у Наташи.  
Вы кубики все эти  
Скорей считайте, дети!

$$2 + 4 = 6$$



# Заполни пропуски




## Реши задачу

Во дворе гуляли утки и овцы.  
Мальчик посчитал их лапы. Всего 8  
лап. Сколько было уток и сколько  
было овец?



**Разбей на группы по цвету  
и составь равенства**



# Расшифруй слово

$6 - 6 = 0$  ф

$6 - 1 = 5$  е

$5 + 1 = 6$  к

$5 - 3 = 2$  о

$6 - 3 = 3$  а

$4 - 3 = 1$  т

$2 + 2 = 4$  н

6	2	4	0	5	1	3



# МОЛОДЦЫ!



**Для создания презентации использовались следующие ресурсы:**

1. Петерсон Л. Г., Липатникова И. Г. «Устные упражнения на уроках математики, 1 кл. – М.: «Школа 2000+...», 2003. – 112 с., с илл.
2. Картинки: яблоко, овечка, утка, конфета - <http://liubavyshka.ru/>