

**«Районный фестиваль «Правила дорожного движения –
наши верные друзья!»»**






Интерактивный тест «В стране дорожных правил»

***Выполнил Михайлов Тимур, 11
лет***

МКОУ «Ржавская ООШ»

Руководитель: Чупикова Р.И

Навигация

- Нажми на  когда, подумав, выберешь ответ;
- Нажми на  когда, в случае верного ответа, нужно перейти к следующему заданию;
- Нажми на  когда, в случае неверного ответа, необходимо вернуться к заданию
- На верный ответ указывает  ,
на неверный -  .

Желаю удачи!

1. К какой группе знаков относятся эти знаки?

Запрещающие



Предупреждающие






Предписывающие

МОЛОДЕЦ!





2. На каком из рисунков дети соблюдают правила?



МОЛОДЕЦ!





3. На картинке изображена некоторая ситуация. Как поступить пешеходу?



**уступить место
автомобилю**




**перейти дорогу перед
автомобилем**



**автомобилист обязан
пропустить пешехода**



Верно!





4. На картинке изображена некоторая ситуация. Как пешеходам следует переходить проезжую часть?



**в любом месте,
где есть пешеходный
переход**



**перед и за
регулирующим**



**переходить проезжую
часть запрещено**



Молодец!





5. Когда в этой ситуации можно переходить дорогу без помощи подземного перехода?



если нет движущегося автотранспорта



если пешеходы очень торопятся



только по подземному переходу и никак иначе



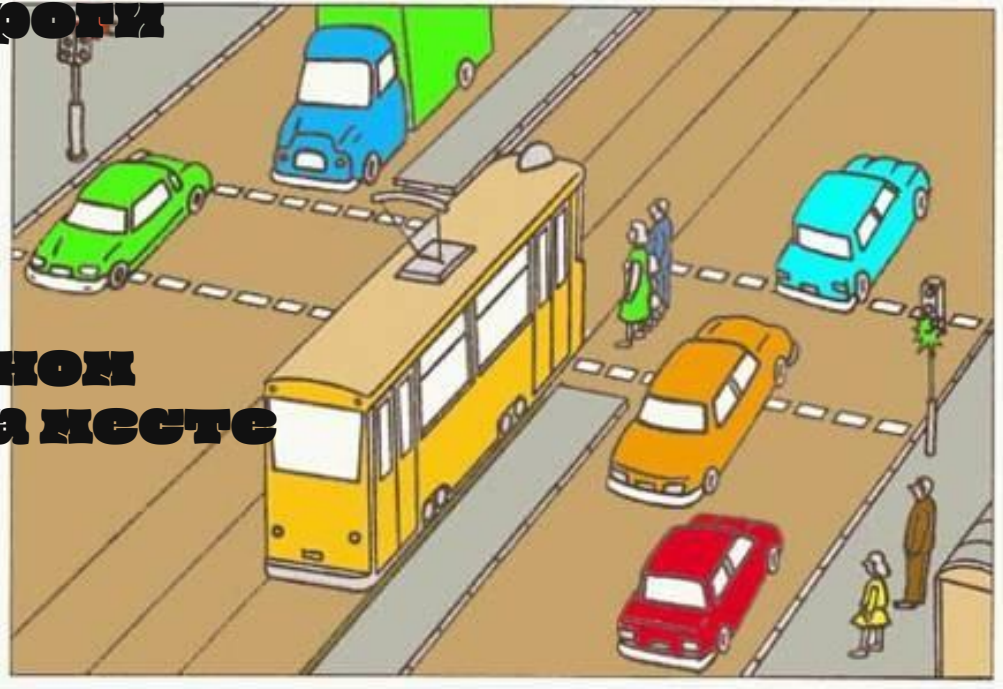
Так держать!





Б. В каком месте следует ожидать общественный транспорт?


на обочине дороги



**в любом удобном
для пешехода месте**

**на остановке,
выходить на
проезжую часть
нельзя**

Верно!





7. Разрешено ли пешеходам
пересекать проезжую часть в зоне
видимости светофора?



да



нет



**только если нет
движущегося
автотранспорта**



Молодец!





8. Если отсутствует пешеходный переход, в каком месте пешеходы могут пересекать проезжую часть?



в участках проезжей части, где мало автомобилей, под прямым углом к бордюру на перекрестках



без разницы, оба ответа верны



Умница!





9. На картинке изображена ситуация. Какой дорожный знак следует разместить в этом случае?



1



2



3



Отлично!





**ИЗОБРАЖЕНЫ
ДОРОЖНЫЕ ЗНАКИ.
КАКОЙ ИЗ НИХ
ОЗНАЧАЕТ ЗАПРЕТ НА
ДВИЖЕНИЕ
ВЕЛОСИПЕДОВ?**



2



3



Молодец!







ИСТОЧНИКИ

- <https://educam.ru/pdd-s-poyasneniyami/>
- <https://www.rastut-goda.ru/preschool-child/7153-pravila-dorozhnogo-dvizhenija-dlja-detej.html>
- <https://pickimage.ru/detskie-risunki/pdd/dlya-detej-v-kartinkax/>