

***« Вода! У тебя нет ни  
вкуса, ни цвета, ни  
запаха, тебя не  
опишешь, тобой  
наслаждаешься, не  
понимая, что ты такое»***

**Антуан де Сент – Экзюпери**


# РЕКА

Жеребнова Оксана Викторовна

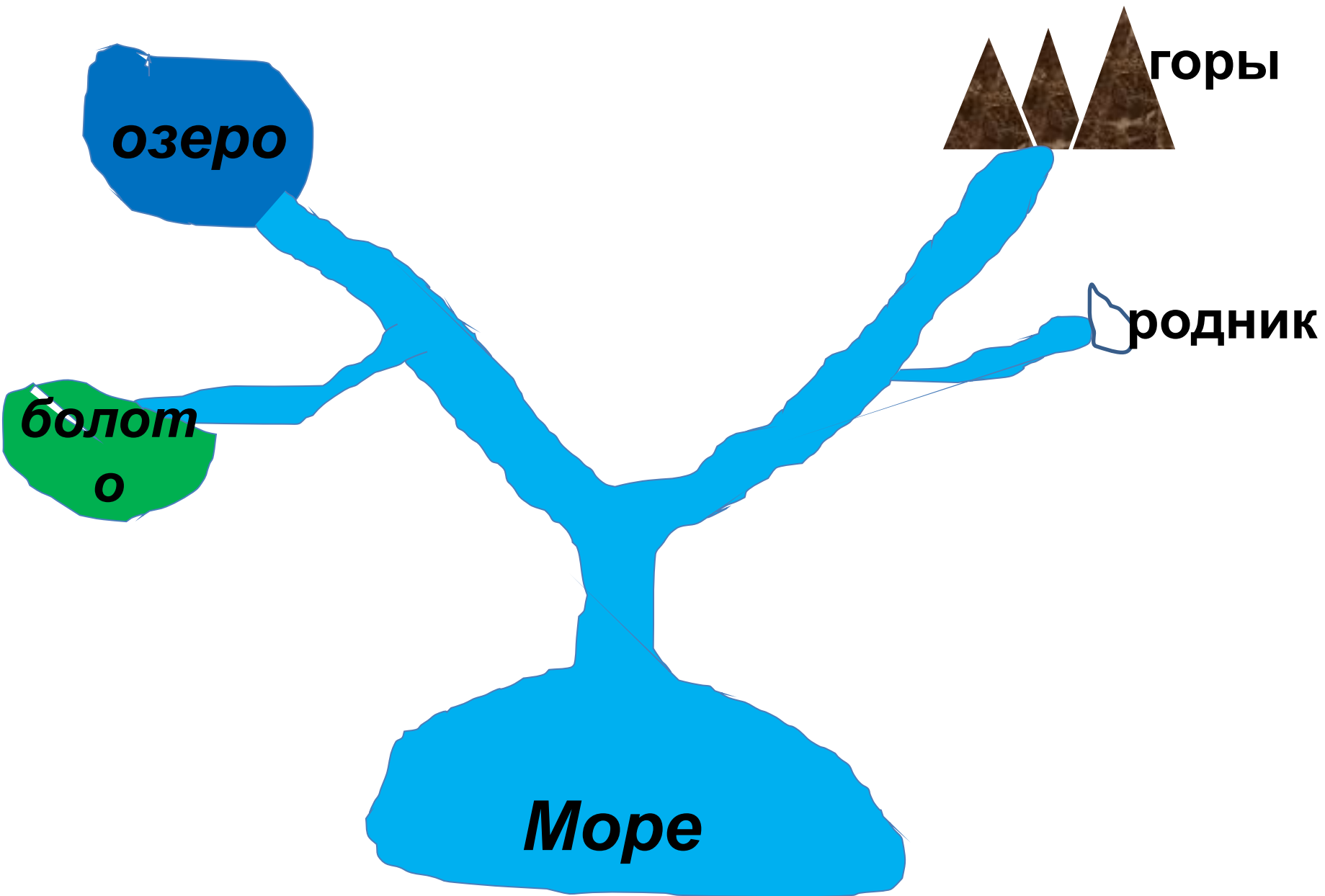


Жеребцова Оксана Викторовна

# Что называется рекой?



**Река – естественный водный поток, текущий в определенном направлении в выработанном им углублении – русле реки.**



# Устье

```
graph TD; A[Устье] --> B[Дельта]; A --> C[Эстуарий];
```

## Дельта

Протоки, на  
которое делится  
главное русло

## Эстуарий

Однорукавное,  
воронкообразное,  
расширяется в  
сторону моря

# ИСТОК РЕКИ ВОЛГИ

ЗДЕСЬ ИЗ КОДЫКА  
У СЕЛИ ВОЛГОВЕРХОВЬЕ  
БЕРЕТ НАЧАЛО  
ВЕЛИКАЯ РУССКАЯ РЕКА  
ВОЛГА

ПЕРВЫЙ ПРИТОК ВОЛГИ - РУЧЕЙ ПЕРСЯНКА  
НИЖЕ ЕГО НА ПРОТЯЖЕНИИ 91 КМ  
ВОЛГА ПРОХОДИТ ОЗЕРА:  
МАЛЫЕ И БОЛЬШОЙ ВЕРХИТ, СТЕРЖ,  
ВСЕЛУГ, ПЕНО, ВОЛГО  
ДЛИНА ВОЛГИ 3690 КМ.  
ИСТОК ОХРАНЯЕТСЯ ГОСУДАРСТВОМ












konkurs/worle.ru









Речная долина

Надпойменная  
терраса

Русло

пойма







[Redacted]



Профиль речной долины  
Верхнее течение



Профиль речной долины  
Среднее течение

Исток

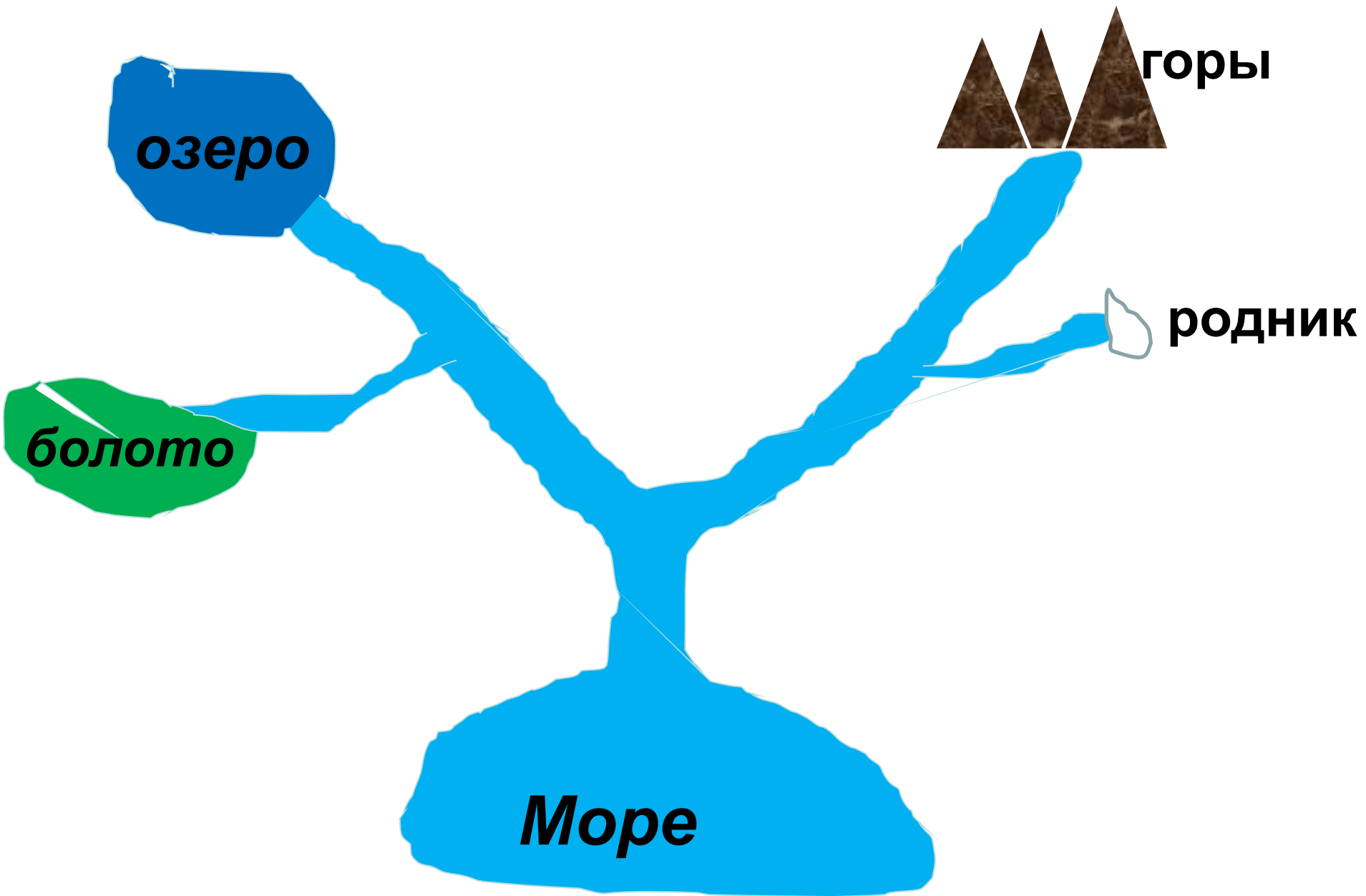
Устье



Нижнее течение  
Профиль речной долины

[Redacted]







# Речная система

Река со всеми ее притоками, называется речной системой.

Речная система и бассейн реки Лена.



*Соедините половинки слов между собой и прочитайте названия четырех рек, которые протекают в северном полушарии*

<b>сури</b>	<b>Ду</b>	<b>Ир</b>	<b>Пр</b>
<b>най</b>	<b>тыш</b>	<b>Дне</b>	<b>Мис</b>

*Миссури, Днепр, Дунай, Иртыш*

*Используя карту России, впишите названия рек, протекающих по территории нашей страны, оканчивающихся на «а»*

			<b>А</b>		
			<b>А</b>		
				<b>А</b>	
					<b>А</b>
					<b>А</b>