

«Увеличение и уменьшение числа в **10** раз, в **100** раз»

3 класс урок №**98**

УМК «Школа России»

Учебник **3** класс **2** часть М. Моро, М.А.

Бантова, Г.В. Бельтюкова

Автор : Гилева Наталия Владимировна


учитель начальных классов

МКОУ «Перегрёбинская СОШ №1»

Октябрьского района Тюменской

области

2018



Устный счёт

Запиши числа в порядке убывания и
расшифруй слово

374	599	800	347	970	709	907
е	д	л	ц	м	о	о

МОЛОДЕЦ



Яйцо можно опустить в кипящую воду ровно на 4 минуты. Как это сделать с помощью песочных часов а 3 минуты и на 7 минут?

Ответ: Поставить сначала вместе часы на **3** мин. и на **7** мин. Когда истекнут **3** минуты опустить яйцо в воду.



Сформулируйте тему урока

500


$$5 * 10 = 50$$

$$50 * 10 = 500$$




Назови номера трёх квартир
на следующем этаже ?

127, 128, 129, ...



Реши задачу № 3 стр. 47



В одной команде	Количество команд	Всего чел.
М. по 8 ч.	9 ком.	? Чел.
Д.		24 дев.

во ? раз больше

- 1) $8 * 9 = 72$ (ч) в 9 командах мальчиков
 - 2) $72 : 24 = 3$ (раза) больше мальчиков
 - 3) $72 - 24 = 48$ (м) больше чем девочек
- Ответ: в 3 раза больше, на 48 больше мальчиков.



Письменно выполните
стр. 47 №4, № 5, 7

$$1 \text{ дм} = 10 \text{ см}$$

$$1 \text{ дм}^2 = 100 \text{ см}^2$$

$$1 \text{ м} = 100 \text{ см}$$



2

Оцени себя



Домашняя работа

№5,6 стр.47,

р.т. стр. 37





1. Логические задачи

<http://shkolabuduschego.ru/shkola/logicheskie-zadachi.html>

2. Шаблон взят на сайте <http://pedsovet.su/>

автор шаблона: Фокина Лидия Петровна

3. Учебник «Математика» 3 класс 2 часть М. А. Моро, М.А. Бантова, Г.В. Бельтюкова, М.: «Просвещение» 2013 год

4 Т.Н. Ситникова, И.Ф. Яценко «Поурочные разработки по математике 3 класс» УМК «Школа России», М.: «Вако» 2013 г.

