

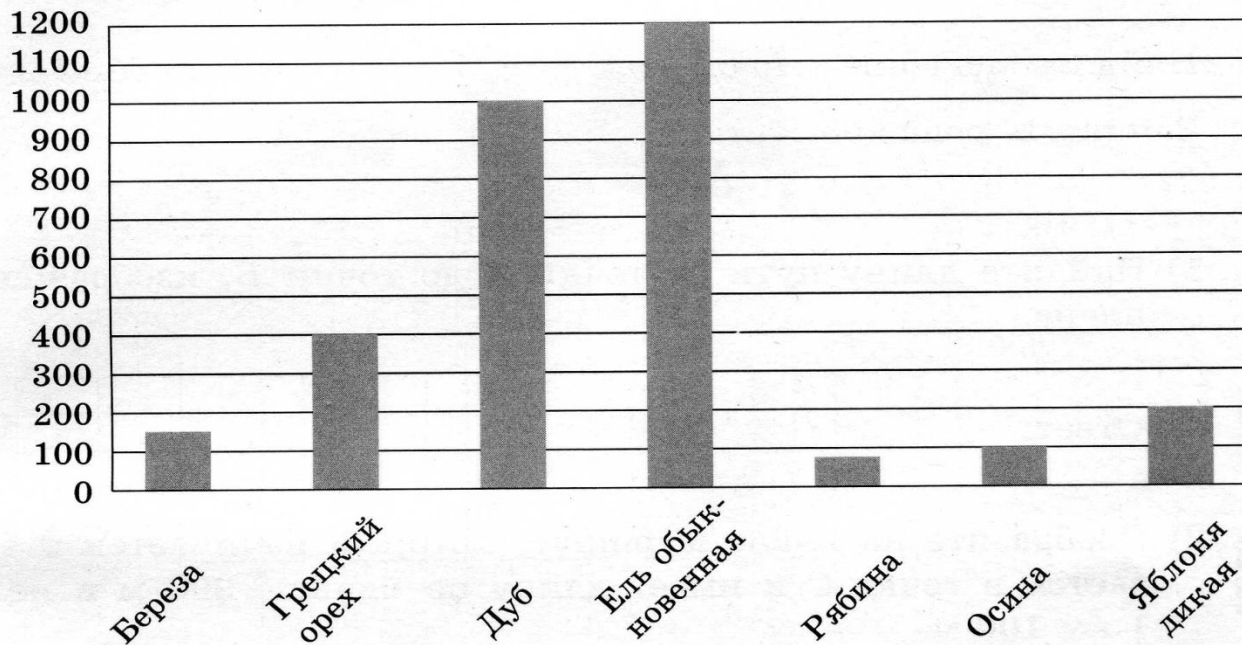
ПОДГОТОВКА К ВПР

ЗАДАНИЕ 11



11. На диаграмме представлена средняя продолжительность жизни некоторых видов деревьев.

Средняя продолжительность жизни деревьев (лет)



Пользуясь диаграммой, ответьте на вопросы.

- 1) Какое из деревьев занимает второе место по продолжительности жизни среди представленных на диаграмме?

Ответ:

Дуб

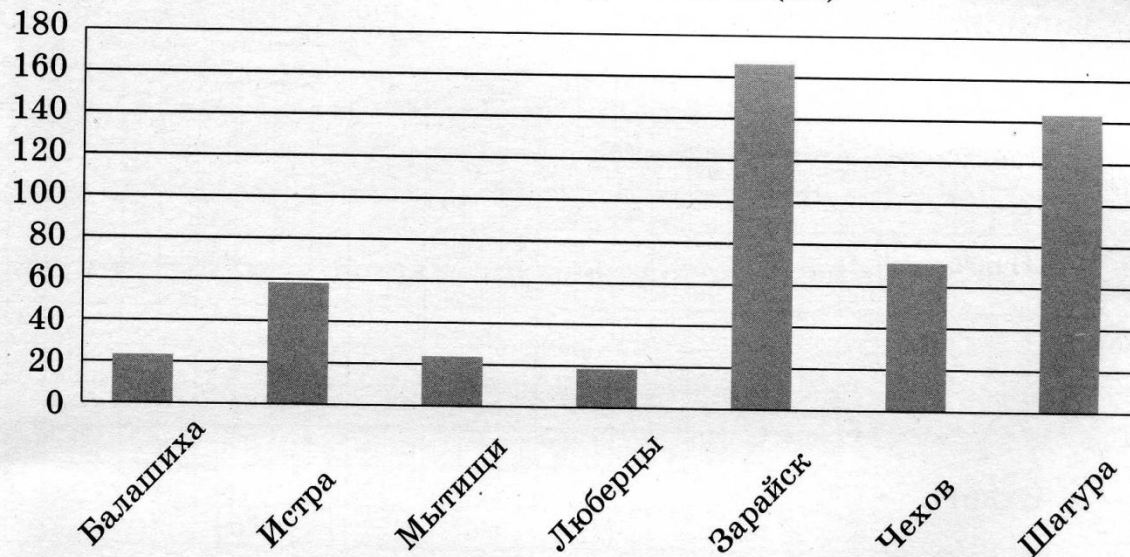
- 2) Продолжительность жизни двух из представленных деревьев отличается в 3 раза. Какие это деревья?

Ответ:

Грецкий орех и ель обыкновенная

11. На диаграмме представлены расстояния между Москвой и некоторыми городами Московской области.

Расстояние до Москвы (км)



Пользуясь диаграммой, ответьте на вопросы.

- 1) Какой из городов больше всего удален от Москвы среди представленных на диаграмме?

Ответ:

Зарайск

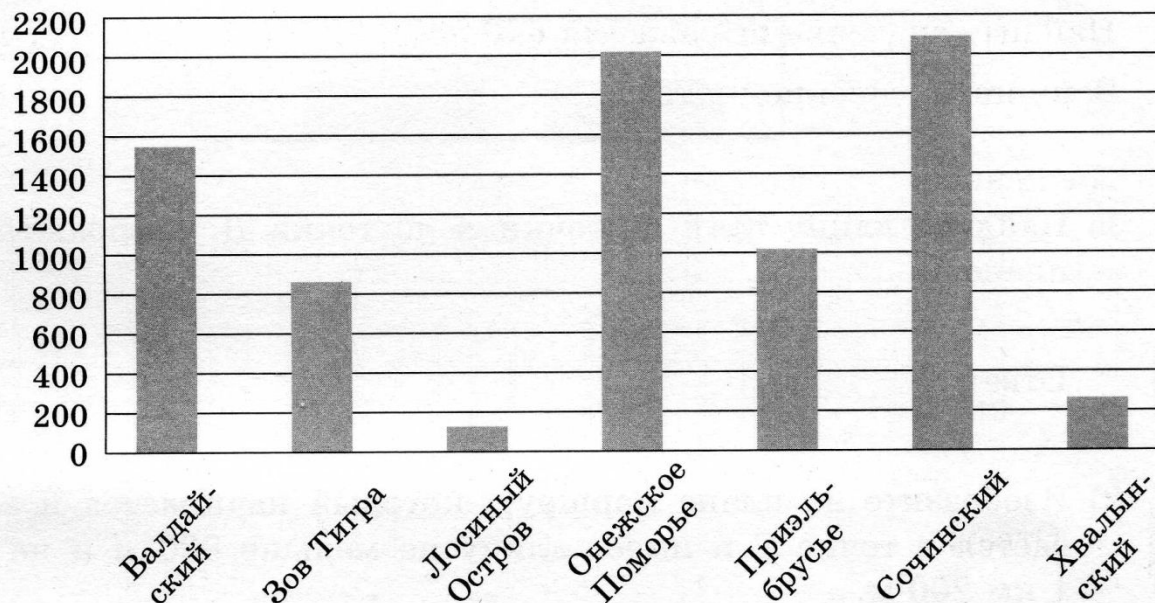
- 2) Расстояния от двух из представленных городов до Москвы отличаются друг от друга в 2 раза. Какие это города?

Ответ:

Чехов и Шатура

11. На диаграмме представлены площади некоторых национальных парков России.

Площади национальных парков России (кв. км)



Пользуясь диаграммой, ответьте на вопросы.

- 1) Какой из национальных парков занимает седьмое место по площади территории среди представленных на диаграмме?

Ответ:

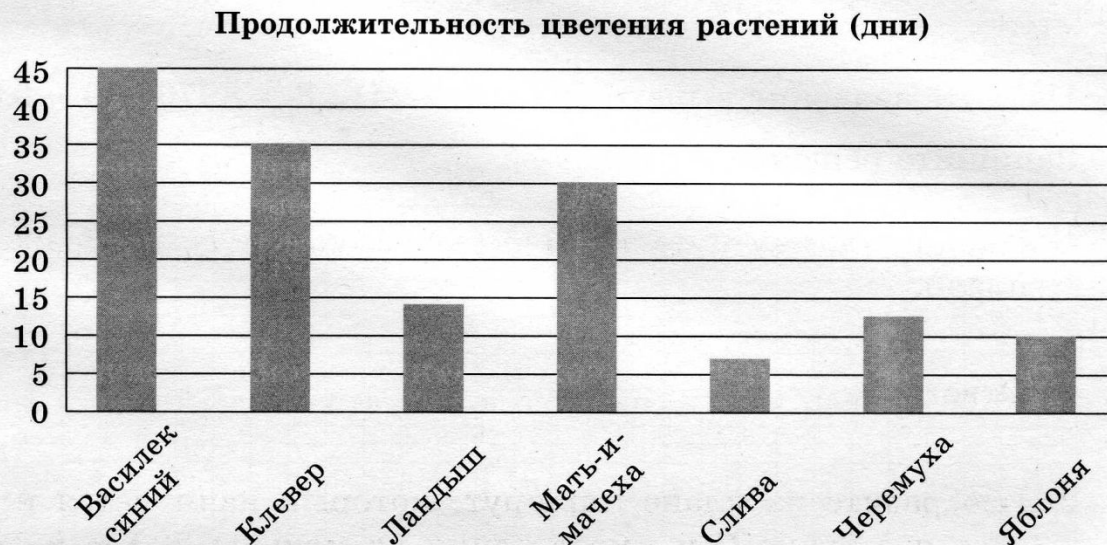
Лосиный Остров

- 2) Площади территории двух из представленных национальных парков отличаются примерно в 4 раза. Какие это парки?

Ответ:

Приэльбрусье и Хвалынский

11. На диаграмме представлена продолжительность цветения некоторых видов растений.



Пользуясь диаграммой, ответьте на вопросы.

- 1) Цветки какого из растений занимают третье место по продолжительности цветения среди представленных на диаграмме?

Ответ:

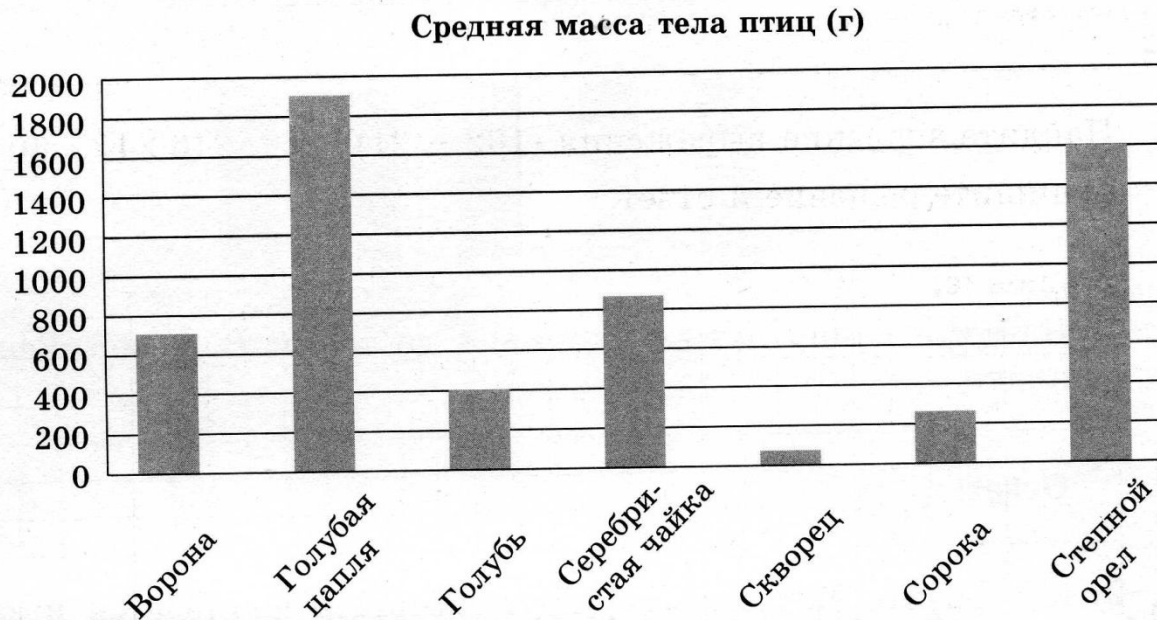
Мать-и-мачеха

- 2) Продолжительность цветения двух из представленных растений отличается в 2 раза. Какие это растения?

Ответ:

Ландыш и слива

11. На диаграмме представлена средняя масса тела некоторых видов птиц.



Пользуясь диаграммой, ответьте на вопросы.

- 1) Какая из птиц занимает четвертое место по массе тела среди представленных на диаграмме?

Ответ:

Ворона

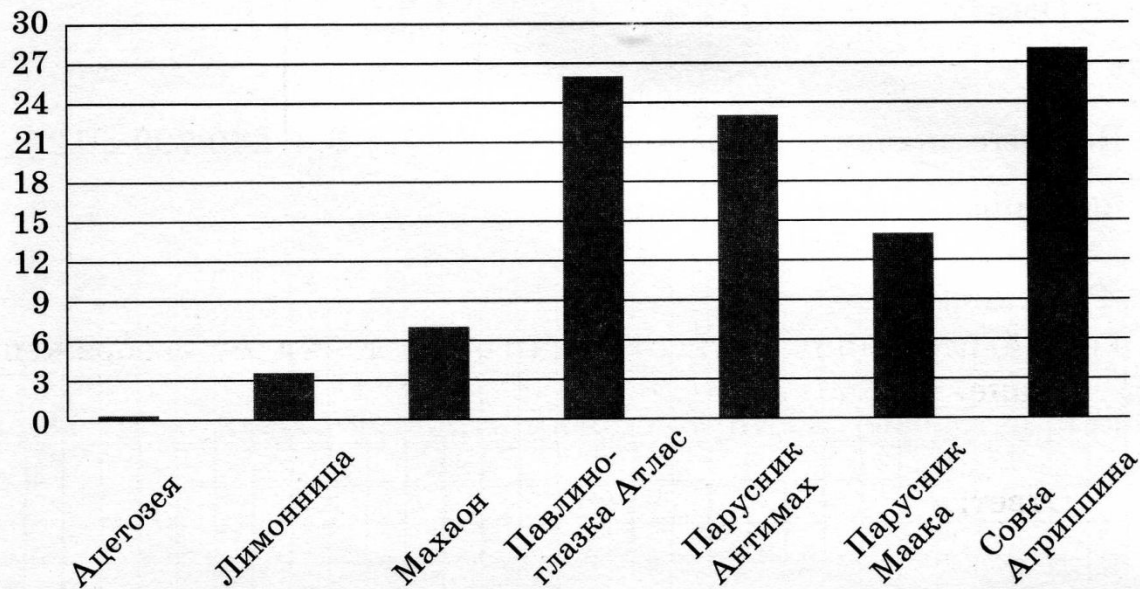
- 2) Средняя масса тела двух из представленных видов птиц отличается в 4 раза. Какие это птицы?

Ответ:

Голубь и степной орел

11. На диаграмме представлены значения размаха крыльев нескольких видов бабочек.

Размах крыльев бабочек (см)



Пользуясь диаграммой, ответьте на вопросы.

- 1) Какая из бабочек занимает шестое место по величине размаха крыльев среди представленных на диаграмме?

Ответ:

ЛИМОННИЦА

- 2) Величины размаха крыльев двух из представленных видов бабочек отличаются в 4 раза. Какие это бабочки?

Ответ:

Махаон и Совка Агриппина