

Отрицани е



Выполнили: студентки 3 курса
Исметова Н.Н.
Насибуллина А.Ф.



1. Темно - ?
2. Прямо - ?
3. Большой - ?
4. Больше - ?

1 Сравни предметы.

а)



Высокий

низкий



Большой

маленький



Узкая

широкая



Прямая

кривая

* б)




большой

маленьки



длинная

короткая



низкая

высоки



добрая

злая

й



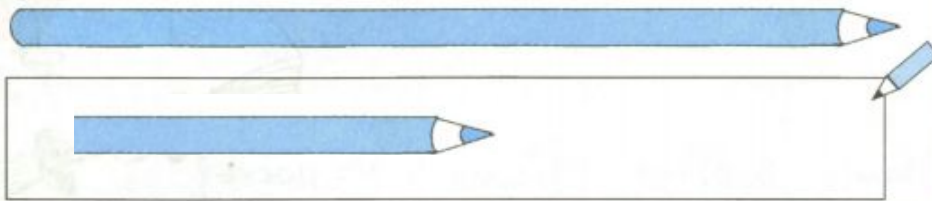
Найди противоположные свойства





2

Нарисуй предметы с противоположными свойствами.

а)



б)



* в)





3

Соедини попарно слова противоположных значений.

ХОРОШО

ТЕМНО

БЫСТРО

СЛАБО

СИЛЬНО

МЕДЛЕННО

ПЛОХО

СВЕТЛО



43





Физминутка





























**Отличн
о!**




4

Помоги Незнайке обвести в тетради цифры. Назови оставшиеся знаки с помощью частицы «не».




5

Помоги Буратино раскрасить на доске четырёхугольники. Назови оставшиеся фигуры с помощью частицы «не».

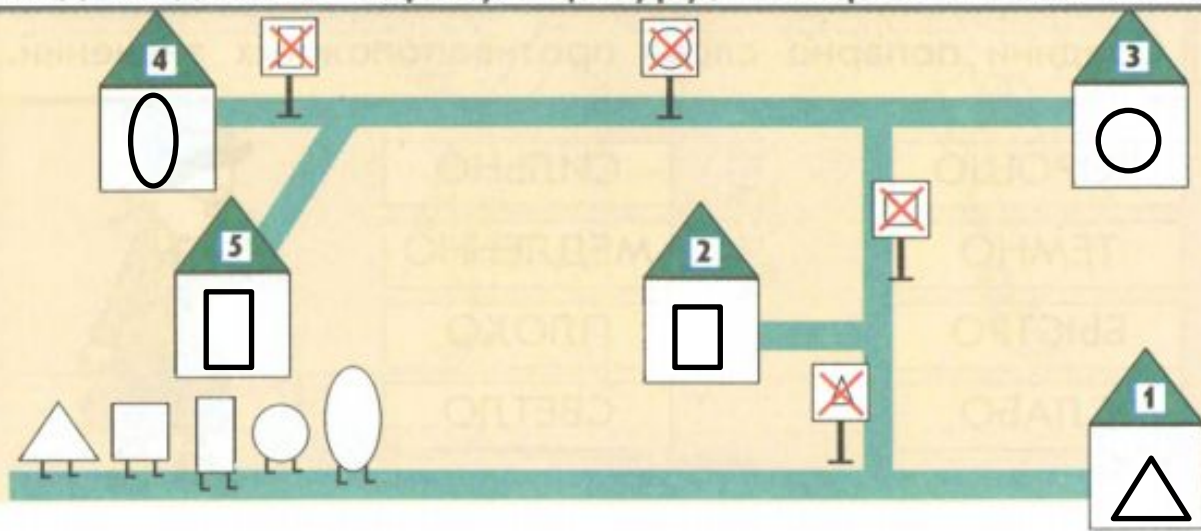


6

Определи лишний предмет. Объясни, употребив частицу «не».



7 Помоги геометрическим фигурам найти свои домики. В каждом домике нарисуй фигуру, которая в нём живёт.



8

Вырежи грибы.

- а) Какие грибы можно положить (наклеить) в корзину?
Назови их одним словом. Наклей их в корзинку.
- б) Какие грибы нельзя положить в корзину?
Назови их одним словом. Наклей их около корзинки.



Домашнее задание

№10, №11 стр.47

10 Исправь, где нужно, ложные подписи на истинные.

а)



МАШИНА




ЗАЯЦ

★ б)



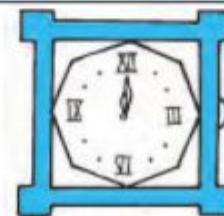
КРАСНЫЙ ФЛАЖОК



СЕРЫЙ ВОЛК



ПРЯМОУГОЛЬНЫЙ КОНВЕРТ



КРУГЛЫЕ ЧАСЫ

11

Нарисуй такие картинки, чтобы подписи под ними были истинными.

а)

ГРИБ

б)

ВОЗДУШНЫЙ ШАРИК

в)

СИНЯЯ ЧАШКА

★ г)

КРУГЛЫЙ ПРЕДМЕТ