

# Домашнее задание

**Параграф 28**

**Выполнить задание в контурной карте стр. 5 № 1-3**





# Географическое положение и история исследования Австралии.

# Определите географическое положение Австралии по плану.

(выполнить в тетради и принести на урок 14.01.21)

Атлас стр. 2-3, стр. 28

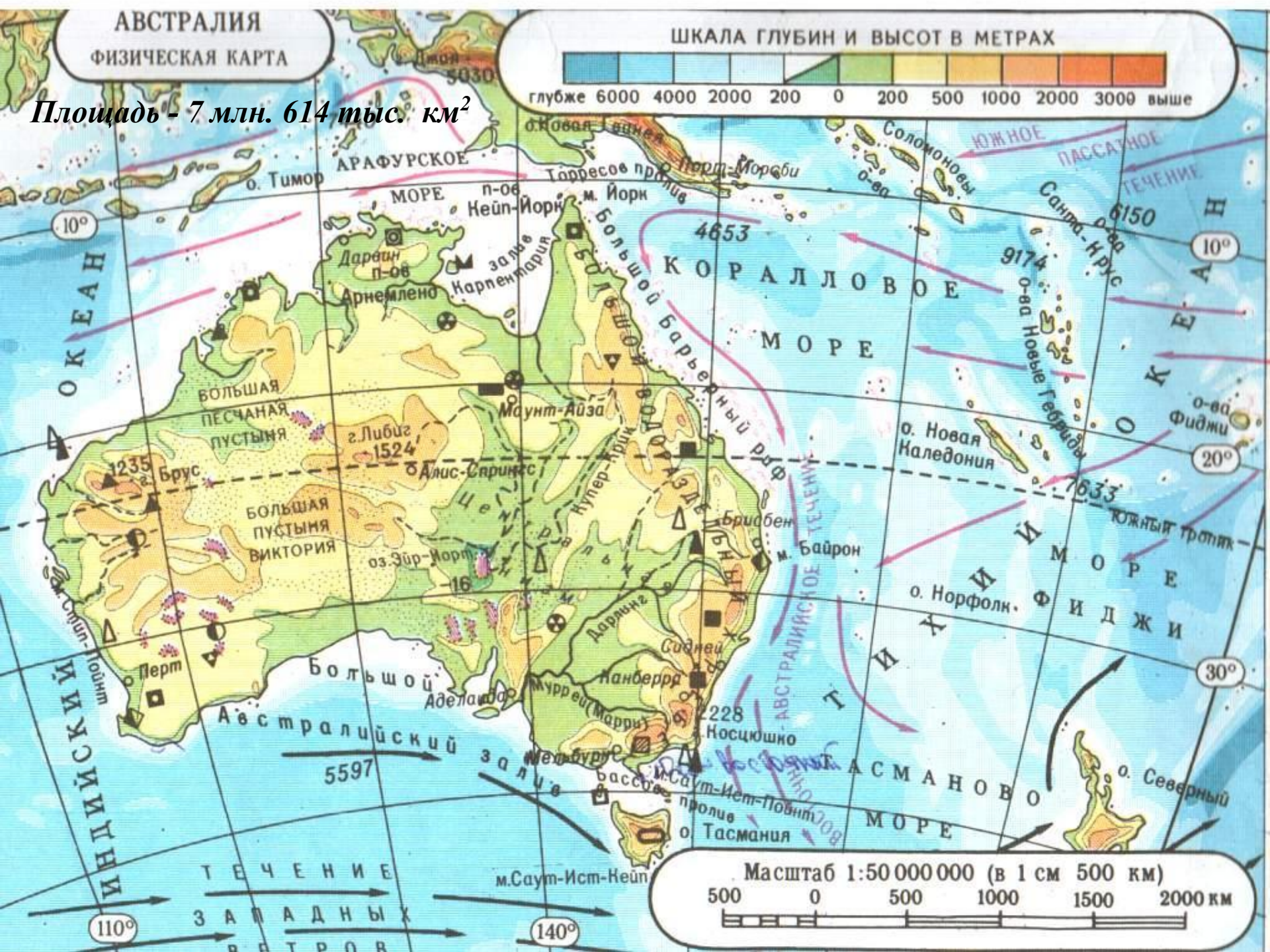
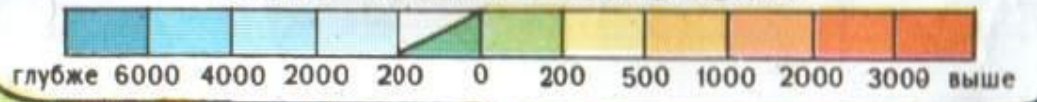
## Географическое положение материка

- Положение по отношению к экватору, нулевому меридиану, тропикам;
- Соседние материки;
- Океаны, моря, омывающие материк;
- Изрезанность береговой линии  
( острова, полуострова, заливы, проливы, моря, омывающие Австралию ;
- Крайние точки.

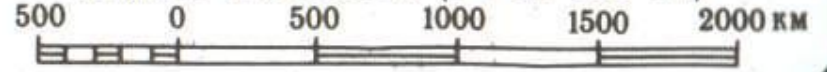
**АВСТРАЛИЯ**  
ФИЗИЧЕСКАЯ КАРТА

Площадь - 7 млн. 614 тыс. км<sup>2</sup>

ШКАЛА ГЛУБИН И ВЫСОТ В МЕТРАХ



Масштаб 1:50 000 000 (в 1 см 500 км)



# Крайние точки Австралии



- Северная - М. Йорк
- Южная - М. Сауст-Ист-Пойнт
- Западная - М. Стип-Пойнт
- Восточная - М. Байрон



Определите координаты

# Крайние точки

Северная - м. Йорк	11 ° ю.ш. 142 ° в.д
Южная - м. Сауст-Ист-Пойнт	39 ° ю.ш 146 ° в.д.
Западная - м. Стип-Пойнт	26 ° ю.ш. 113 ° в.д.
Восточная - м. Байрон	28 ° ю.ш. 153 ° в.д.



# История исследования

( заполнить таблицу, принести на урок 14.01.21)

Исследователь	Территория изучения


# История открытия Австралии

Первооткрывателем Австралии является английский мореплаватель *Джеймс Кук*. Своё открытие он совершил во время кругосветного плавания в 1770 г.



Название «Австралия» появилось на картах на несколько столетий раньше, чем этот материк оказался открыт. Предположения о том, что в Южном полушарии обязательно должен быть огромный материк, высказывались ещё древними греками. Но поскольку никто ничего достоверного о существовании этого Южного материка не знал, контуры его изображались на картах весьма приблизительно, а подпись возле этого расплывчатого пятна гласила: «Terra Australis Incognita» .

В переводе с латыни это означает: «Неизвестная Южная Земля». Эта неизвестная земля занимала на карте огромное пространство. Считалось, что в южных частях трёх океанов: Тихого, Атлантического и Индийского — находится крупнейший материк Земли, площадь которого превышала суммарную площадь всех известных к тому времени материков





# Виллем Янсзон



*Одним из первых исследовал территорию Австралии.*

*На корабле «Дюфкен» в 1605 г он пересек залив Карпентария и исследовал 320 км береговой линии на севере материка.*

# Луис де Торрес



В 1606 г испанский мореплаватель Торрес прошел проливом между Новой Гвинеей и Австралией.

В 1769 он был назван проливом Торреса.

**Найдите пролив на карте !**

# Абель Тасман



Голландский мореплаватель Абель Тасман в 1642-1643 г прошел Южнее Австралии и открыл острова, названные позднее о.Тасмания и Новая Зеландия. Эти острова А. Тасман принял за полуострова материка **Новая Голландия.** (Учебник с.)  
В 1644 г исследовал северо-западное побережье материка.

**Какие географические объекты получили название в честь данного мореплавателя ?**

# Джеймс Кук (1728-1779гг.)



В 1770 г английский мореплаватель Джеймс Кук открыл восточное побережье Австралии, Большой Барьерный риф, завершив открытие Австралии.


**Какие географические объекты названы именем данного мореплавателя ?**

# Роберт О'хара Бёрк



**Ирландский  
путешественник в  
1861 г первым  
пересек Австралию  
с юга на север. На  
обратном пути  
погиб.**

# Джон Стюарт



**Шотландский исследователь Джон Стюарт, дважды пересек материк с юга на север в 1862г. Внес большой вклад в изучение центральных областей.**

# Миклухо-Маклай Николай Николаевич



**Российский ученый в  
1870-х занимался  
изучением быта,  
обычаев, религиозных  
обрядов аборигенов  
(папуасов) Новой  
Гвинеи**

# Подведем итоги!

-С каким материком познакомились?

-Какие особенности материка вы запомнили?

-Кто исследовал материк?





# Домашнее задание

**Параграф 28**

**Выполнить задание в контурной карте стр. 5 № 1-3**

