

Задачи на уменьшение числа на несколько единиц



*Школа России
Математика 1 класс*





Устный счёт

Вставь пропущенные числа.



$$9 - 3 = 6$$

$$4 + 4 = 8$$

$$8 - 3 = 5$$

Прочитай примеры разными способами.



$$3 + 5 = 8$$


$$6 - 5 = 1$$

Было **4** гнома. Стало на **3 больше**. Сколько стало
всего гномов?




$$4 + 3 = 7$$

Было **6** снежинок. Стало на **4** меньше. Сколько стало снежинок?




$$6 - 4 = 2$$

Посмотри и скажи, кто здесь спрятался?



Овца

Новый материал

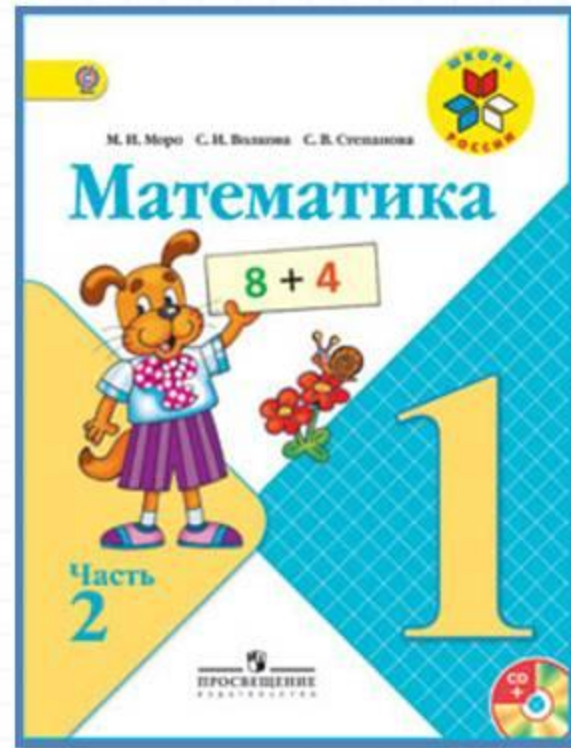




$$6 - 2 = 4$$

Было **6** Дедов Морозов. Стало на **2** меньше. Сколько стало Дедов Морозов?

Работа по учебнику



стр.
6



Объясни по рисунку, как составлены каждая схема и каждое равенство.





Столько же.
Сколько ... ?
 $7 = 7$

На 2 больше, или
столько же и ещё 2.
Сколько ... ? $7 + 2 = \square$



СРАВНИ:

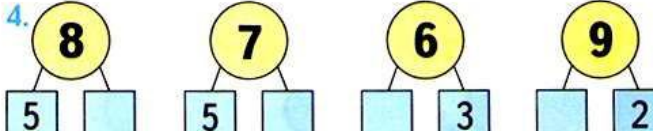


1. Положи в один ряд 5 квадратов, а в другой — столько же кругов. Сделай так, чтобы кругов стало на 2 больше, чем квадратов. Сколько стало кругов?

2. На столе 8 вилок, а ложек на 1 больше. Поставь вопрос и реши задачу.

3. У Лены ,

а у Кати на 3 значка больше. Сколько ...?

4. 

?

$$5 + 2 + 2 =$$

$$9 - 3 - 1 =$$

$$8 - 2 - 2 =$$

$$3 + 3 + 1 =$$

$$10 - 2 - 2 =$$

$$6 + 1 + 2 =$$

Объясни по рисунку, как составлены каждая схема и каждое равенство.



Столько же.
Сколько ... ?
 $7 = 7$




На 2 больше, или
столько же и ещё 2.
Сколько ... ? $7 + 2 = \square$

1. Положи в один ряд 5 квадратов, а в другой — столько же кругов. Сделай так, чтобы кругов стало на 2 больше, чем квадратов. Сколько стало кругов?
2. На столе 8 вилок, а ложек на 1 больше. Поставь вопрос и реши задачу.

Работа в тетради

стр.
4



Рефлексия

Сегодня на уроке я:

- научился...
- было интересно...
- было трудно...
- мои ощущения...
- этот урок дал мне для жизни...
- больше всего понравились задания...



