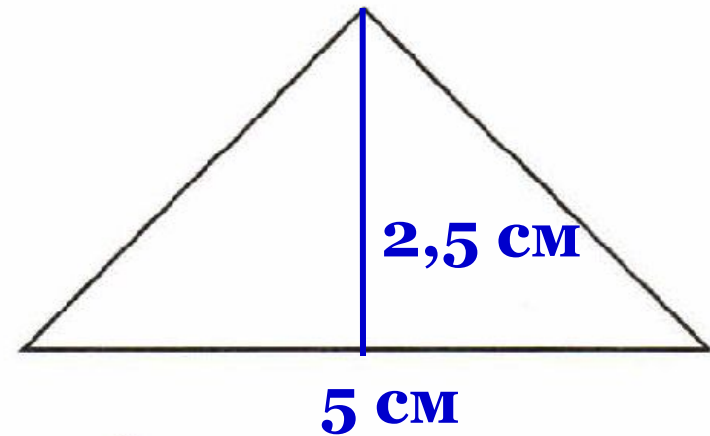
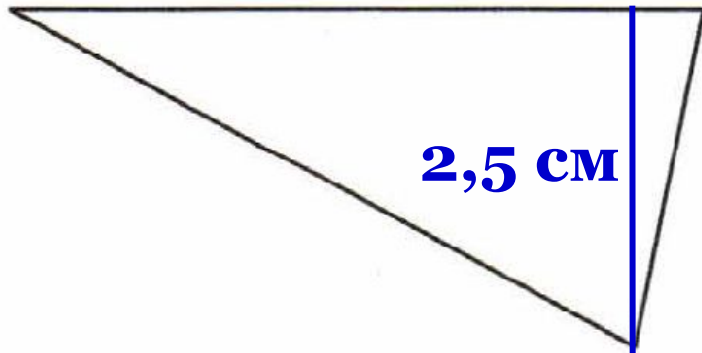
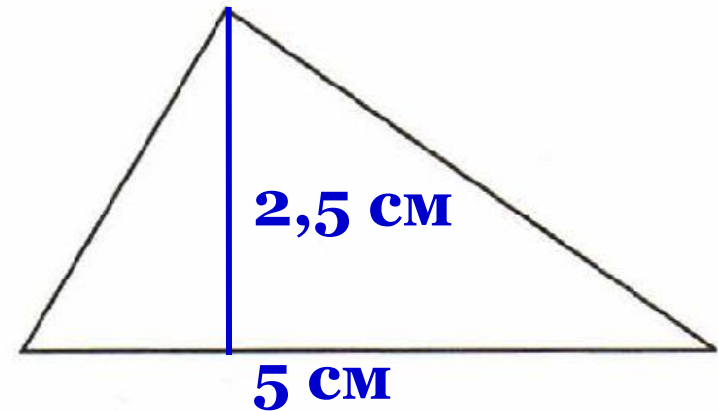
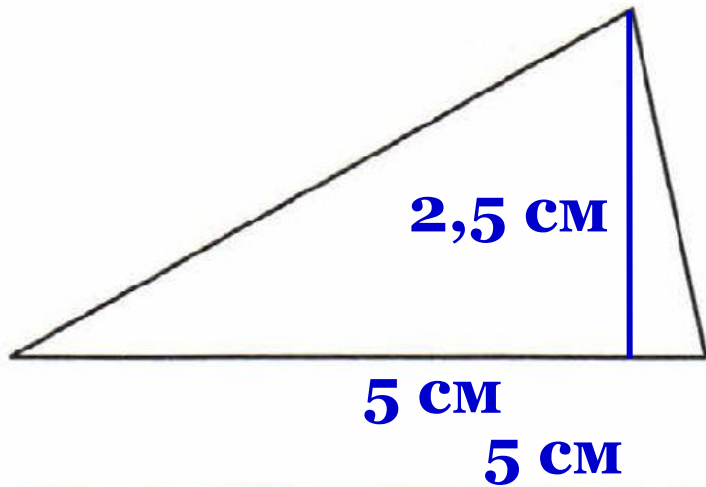


Проверка домашнего задания

52.6. Выполните необходимые измерения и найдите периметры и площади фигур:



Что общего в изображённых треугольниках?

Какое предположение можно сделать по результатам работы?

$$S = (2,5 \cdot 5) : 2 = 12,5 : 2 = 6,25 \text{ см}^2$$

52.7. Постарайтесь вычисления выполнить устно и раскрасьте фигуру, как указано ниже:

$15,3 : 3$ — синий;

$15,3 : 5$ — голубой;

$8,2 : 2$ — сиреневый;

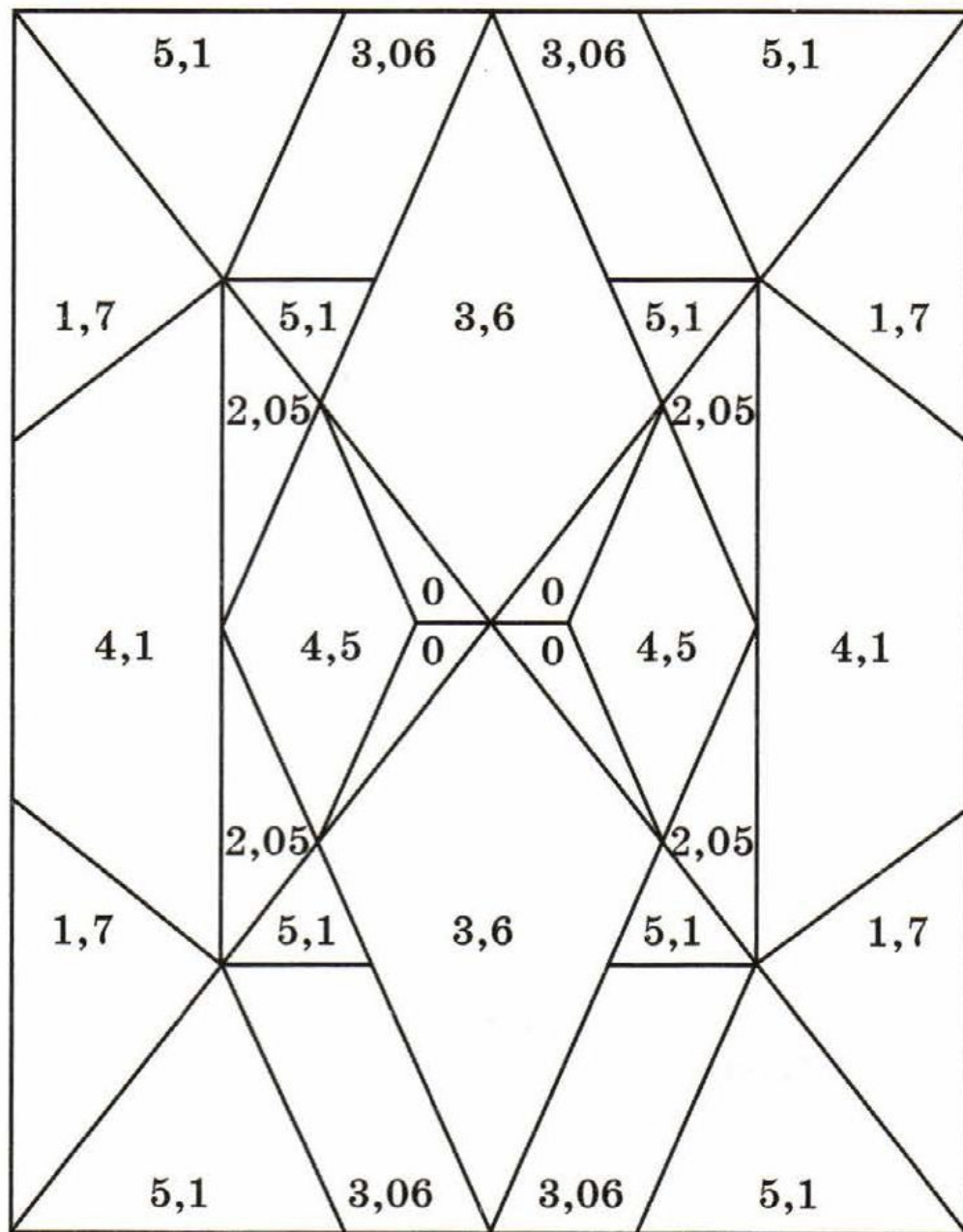
$8,2 : 4$ — жёлтый;

$7,2 : 2$ — красный;

$9 : 2$ — оранжевый;

$0 : 5$ — жёлтый;

$5,1 : 3$ — зелёный.



На рисунке получились различные геометрические фигуры. Запишите, каким цветом раскрашены:

остроугольные треугольники СИНИМ

тупоугольные треугольники ЖЁЛТЫМ

прямоугольные треугольники ЗЕЛЁНЫМ

трапеции СИРЕНЕВЫМ

параллелограммы ГОЛУБЫМ

ромбы ОРАНЖЕВЫМ

дельтоиды КРАСНЫМ

Есть ли на рисунке хотя бы один прямоугольник? ДА

Есть ли на рисунке хотя бы один прямоугольник, закрасенный одним цветом? НЕТ



К л а с с н а я р а б о т а .

П о в т о р е н и е .

*Действия с
десятичными
дробями*

$$2,35 + 22,5 \quad ?$$

$$\begin{array}{r} 40 \\ \hline 6 \end{array}$$

$$24,14$$

9

Сложение и вычитание

Выполните действие:

1) $87,48 + 6,196;$

2) $560,3 - 98,625.$

Ответы:

1) $93,676;$

2) $461,675$

Умножени

$$\begin{array}{r} 23,4 \\ \hline 5 \\ \hline + 18760 \\ 4690 \\ \hline 487760 \\ , \end{array} \quad \begin{array}{r} e \\ \times \\ 0,208 \\ \hline \end{array} \quad ?$$

Выполните действие:

1) $0,08 \cdot 0,09$; 2) $0,034 \cdot 0,5$;

3) $6,7 \cdot 0,0001$; 4) $0,1 \cdot 72,8$;

5) $5,8 \cdot 12,7$; 6) $3,05 \cdot 6,1$;

7) $2,74 \cdot 4,005$;

8) $62,95 \cdot 0,037$.

Ответы:

1) $0,0072$; 2) $0,017$;

3) $0,00067$; 4) $7,28$;

5) $73,66$; 6) $18,605$;

7) $10,9737$; 8) $2,32915$.

Выполните действие:

1) $8 \cdot 0,05$;

2) $0,012 \cdot 6$;

3) $57 \cdot 0,0062$; 4) $0,28 \cdot 30$;

5) $0,01 \cdot 94$; 6) $37 \cdot 0,001$;

7) $215 \cdot 0,0026$;

8) $620 \cdot 0,00005$.

Ответы:

1) 0,4; 2) 0,072;

3) 0,3534; 4) 8,4;

5) 0,94; 6) 0,037;

7) 0,559; 8) 0,031.

Делени

$$7,21:3,5 = 72,1:35$$

$$\begin{array}{r} 7,21 \\ - 70,35 \\ \hline 210 \\ - 210 \\ \hline 0 \end{array}$$

Ответы:

1) 7,48; 2) 6,35;
3) 3,625; 4) 0,375.

Выполните деление:

1) $486,2 : 65$; 2) $381 : 60$; 3) $50,75 : 14$; 4) $3 : 8$.

Ответы:

5) 2,5; 6) 0,305.

Выполните действие:

5) $3,725 : 1,49$; 6) $0,16043 : 0,526$.

Дома:

Учебник:

№ 705, 710 , 753, 830