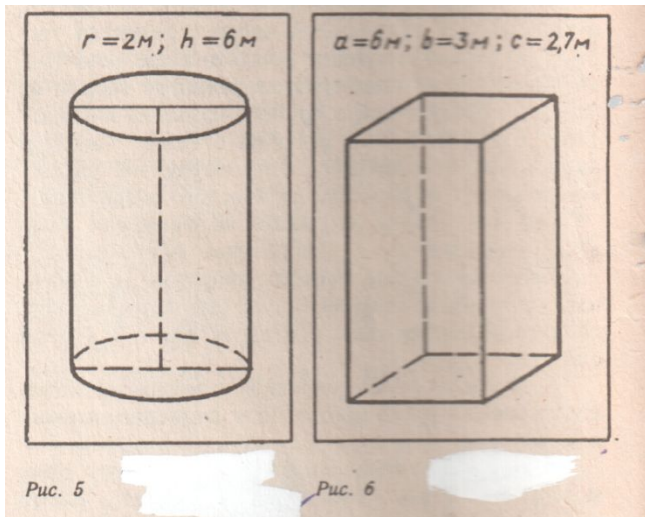
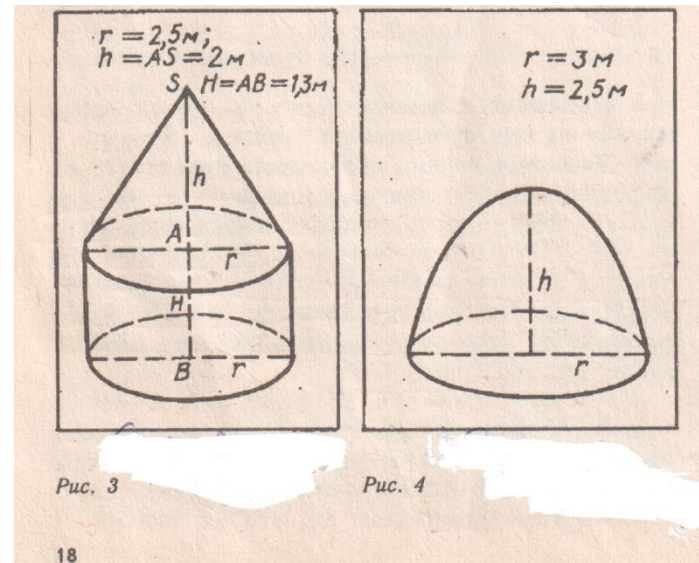
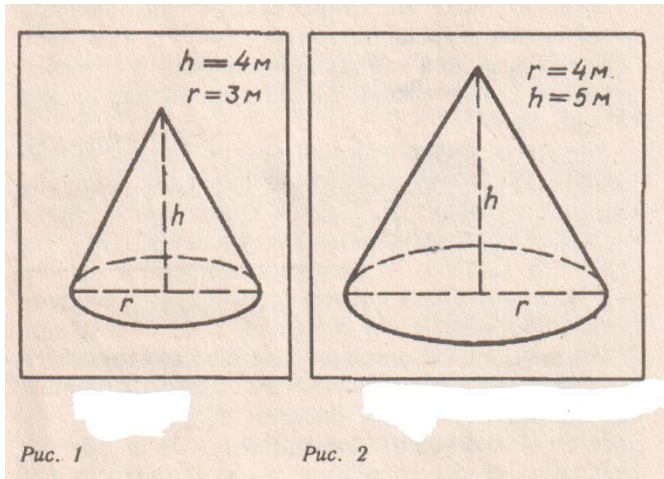


# Коэффициент комфортности жилища

$$K = \frac{36\pi V^2}{S^3}$$

Ребята! Определите коэффициенты  
комфортности жилищ на чертежах №  
6,5,3!



1. **Восточносибирский чум.**
2. Яранга континентальных эскимосов Аляски.
3. Жилище береговых чукчей.
4. Жилище аборигенов Северной Австралии.
5. **Жилище народов кирди в Камеруне.**
6. **Европейское жилище.**