

Тест за I полугодие для учащихся 1 класса

УМК «Гармония»

Тест создан по шаблону Д.Иванова

[Начать тест](#)



Результат теста

Верно: 13

Ошибки: 0


Отметка: 5

Время: 0 мин. 19 сек.



ещё

Сколько яблок ?



6

7

8



На сколько апельсинов
больше, чем лимонов?



на 2

на 3

на 1

Реши выражение

$$4 + 2 = \square$$



5

6

7



Сравни числа (>, <, =)



6 ? 2



Какое число является
первым слагаемым?

$$5 + 3 = 8$$



8

3

5



Реши задачу

В вазе 4 яблока и 2 груши.
Сколько фруктов в вазе?



2

6

8

Сколько грибов в корзинке?



8

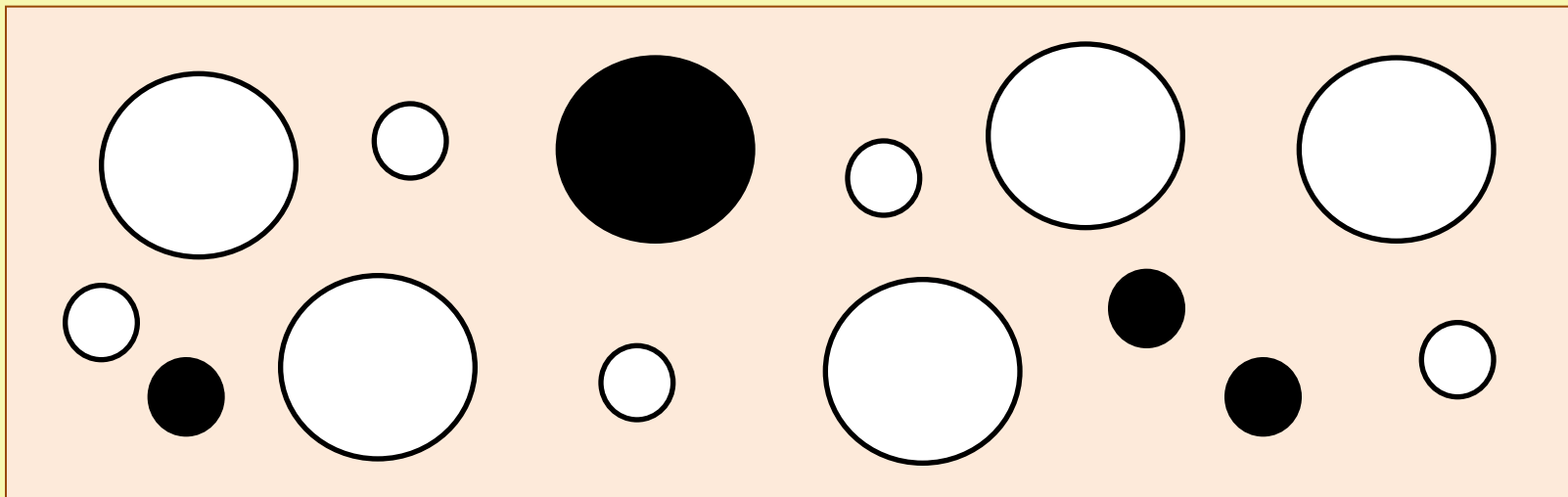
5

10

6



Сколько чёрных кругов?



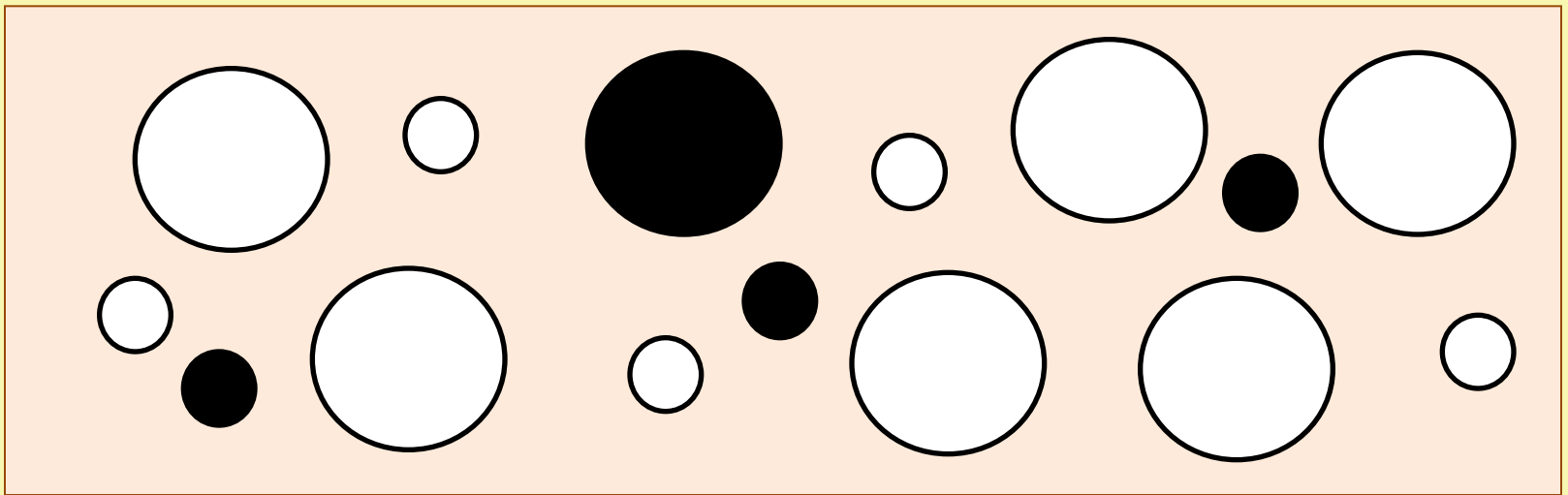
3

1

4



**Сколько белых маленьких
кругов?**



6

5

11

Как называется этот компонент вычитания?

$$7 - 3 = 4$$




уменьшаемое

вычитаемое

значение
разности



Сколько треугольников на рисунке?




9

10

7




Укажи замкнутые кривые линии




1



2



3



4



5




6



ОТВЕТ ГОТОВ!

Укажи прямые линии



1



2




3



4



5



6



ОТВЕТ ГОТОВ!