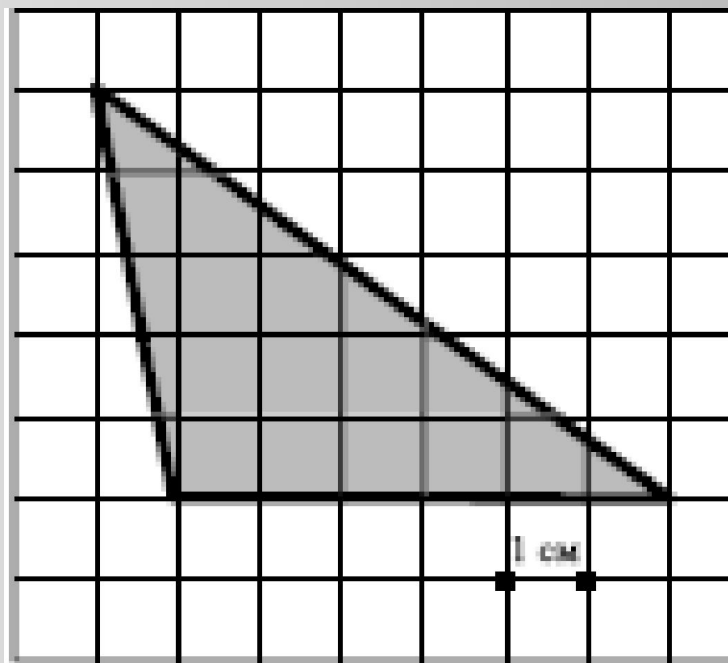
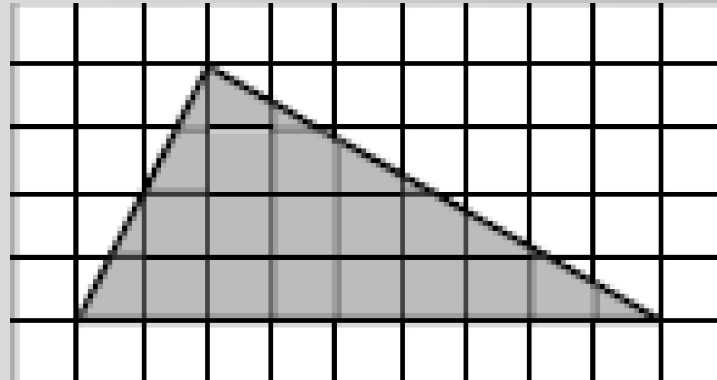


ТЕСТ
по теме
Площади фигур

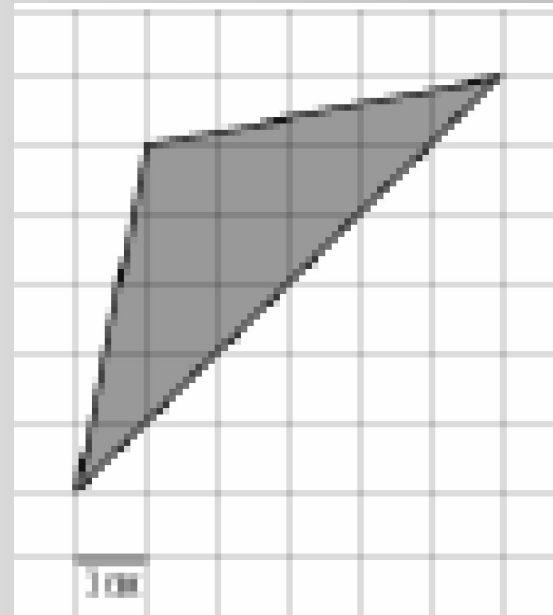
**На клетчатой бумаге с клетками размером 1см x1см
изображен треугольник. Найдите его площадь в
квадратных сантиметрах**



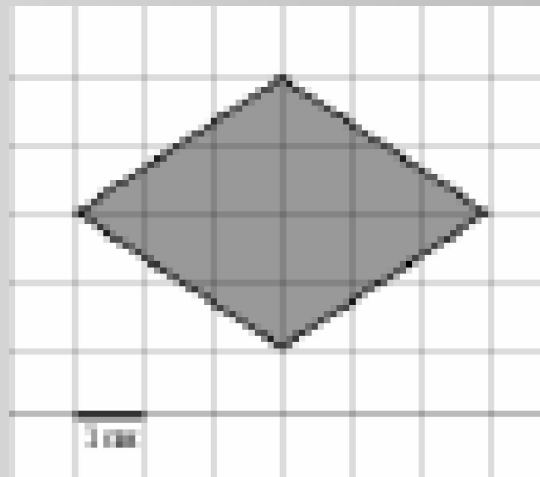
**На клетчатой бумаге с клетками размером 1см х1см
изображен треугольник. Найдите его площадь в
квадратных сантиметрах**



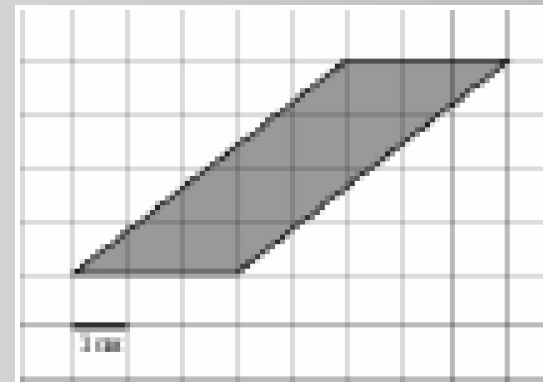
**На клетчатой бумаге с клетками размером 1см х1см
изображен треугольник. Найдите его площадь в
квадратных сантиметрах**



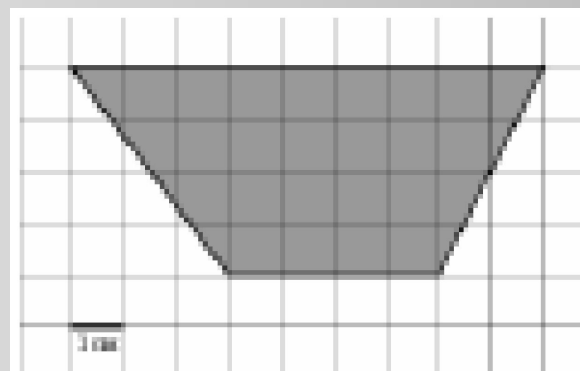
На клетчатой бумаге с клетками размером 1см х1см изображен четырехугольник. Найдите его площадь в квадратных сантиметрах



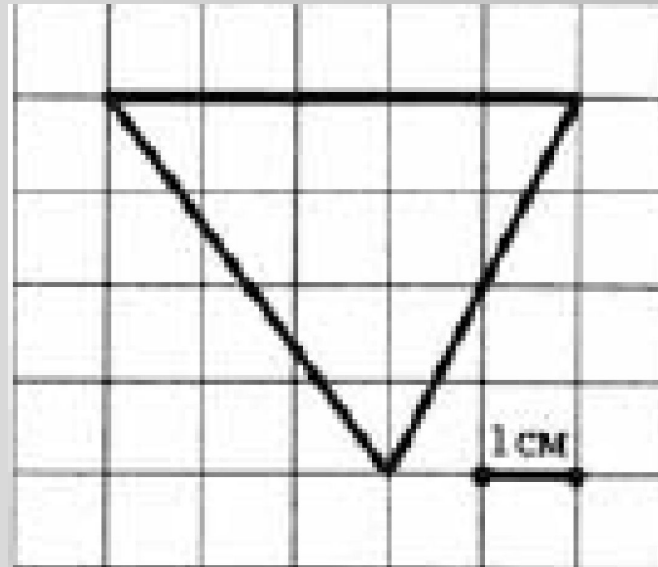
На клетчатой бумаге с клетками размером 1см х1см изображен четырехугольник. Найдите его площадь в квадратных сантиметрах



**На клетчатой бумаге с клетками размером 1см х1см
изображена трапеция. Найдите ее площадь в
квадратных сантиметрах**



**На клетчатой бумаге с клетками размером 1см х1см
изображен треугольник. Найдите его площадь в
квадратных сантиметрах**



**На клетчатой бумаге с клетками размером 1см x1см
изображен треугольник. Найдите его площадь в
квадратных сантиметрах**

