

Пробный тест 1
по дисциплине ОП.03 История
ИЗО

Подготовка к промежуточной
аттестации за 3 семестр

Задание

Глядя на иллюстрацию, определите, к какой эпохе или к какому стилю в искусстве относится данное произведение?

На иллюстрациях представлены следующие объекты:

- Архитектура (архитектурные сооружения или элементы архитектуры)
- Интерьер или предметы интерьера (мебель, светильники и т.д.)
- Скульптура
- Живопись, графика, мозаика или роспись керамики

Ответы смотрите на слайде
№31






























































Ответы угадайки



| № слайда | Художественный стиль или период развития искусства | | № слайда | Художественный стиль или период развития искусства |
|----------|--|--|----------|--|
| 3 | Древний Египет | | 17 | Древняя Греция |
| 4 | Искусство Месопотамии | | 18 | Искусство Месопотамии |
| 5 | Первобытное искусство | | 19 | Древний Рим |
| 6 | Древняя Греция | | 20 | Итальянское Возрождение |
| 7 | Готика | | 21 | Древний Рим |
| 8 | Романский стиль | | 22 | Готика (поздняя) |
| 9 | Романский стиль | | 23 | Искусство Месопотамии |
| 10 | Искусство Месопотамии | | 24 | Древняя Греция |
| 11 | Готика | | 25 | Византия |
| 12 | Барокко | | 26 | Романский стиль |
| 13 | Первобытное искусство | | 27 | Итальянское Возрождение |
| 14 | Древний Египет | | 28 | Северное Возрождение |
| 15 | Византия | | 29 | Барокко |

Успехов в обучении!

Продолжение следует

...