



Измерен

ие

массы

6 ЛЕТ ЧАСТЬ 2
ЗАНЯТИЕ 14





Рассмотри разные гири. Найди массу зверят.



$$1 \text{ кг} + 1 \text{ кг} + 2 \text{ кг} = \boxed{4} \text{ кг}$$



$$\boxed{2} \text{ кг} + \boxed{5} \text{ кг} = \boxed{7} \text{ кг}$$





$$\overset{3}{\boxed{1}} \text{ кг} + \boxed{2} \text{ кг} + \boxed{2} \text{ кг} = \boxed{5} \text{ кг}$$

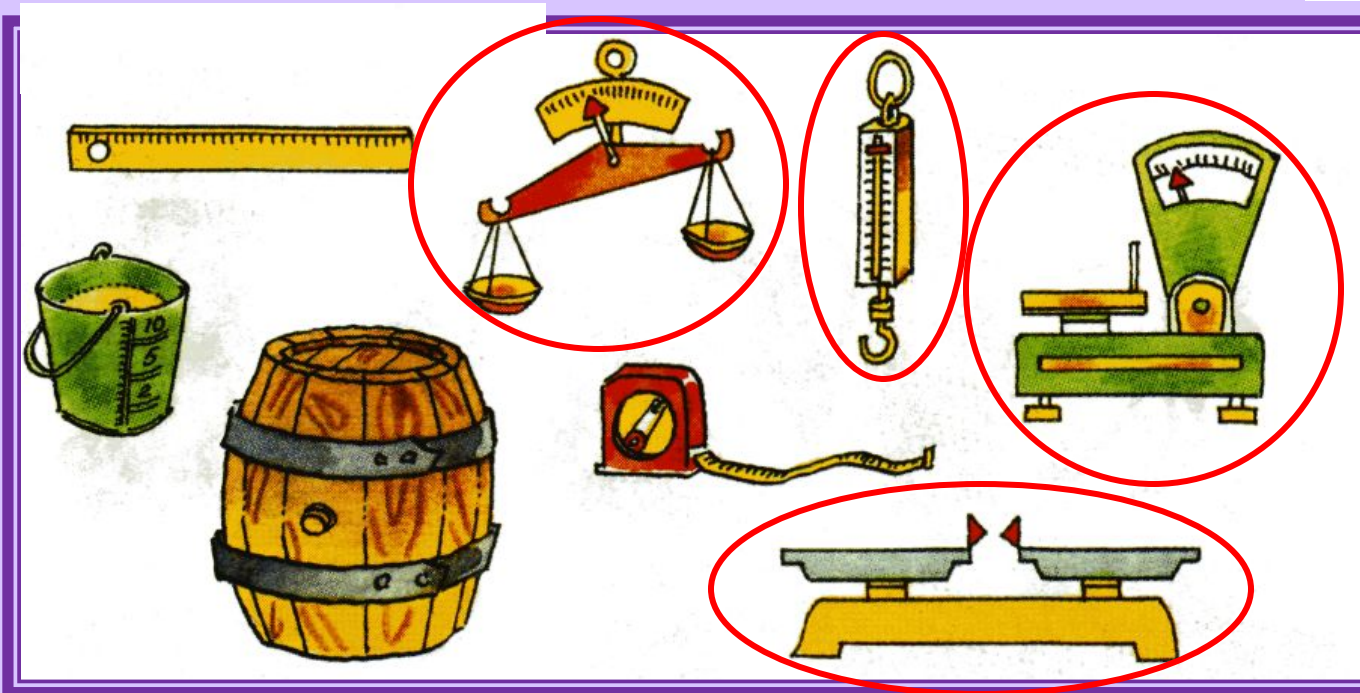


$$\boxed{1} \text{ кг} + \boxed{5} \text{ кг} = \boxed{6} \text{ кг}$$





Какие бывают весы?




Найди на картинке весы разных видов и обведи их.

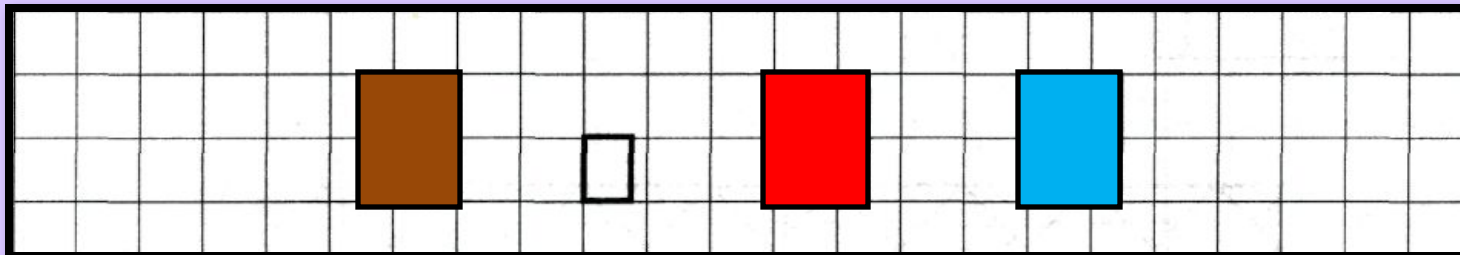


Нарисуй картинку по записи.

$$3 + 4$$



Урок 38



$1 + 9 = 10$

~~$4 + 6 = 10$~~

~~$2 + 8 = 10$~~

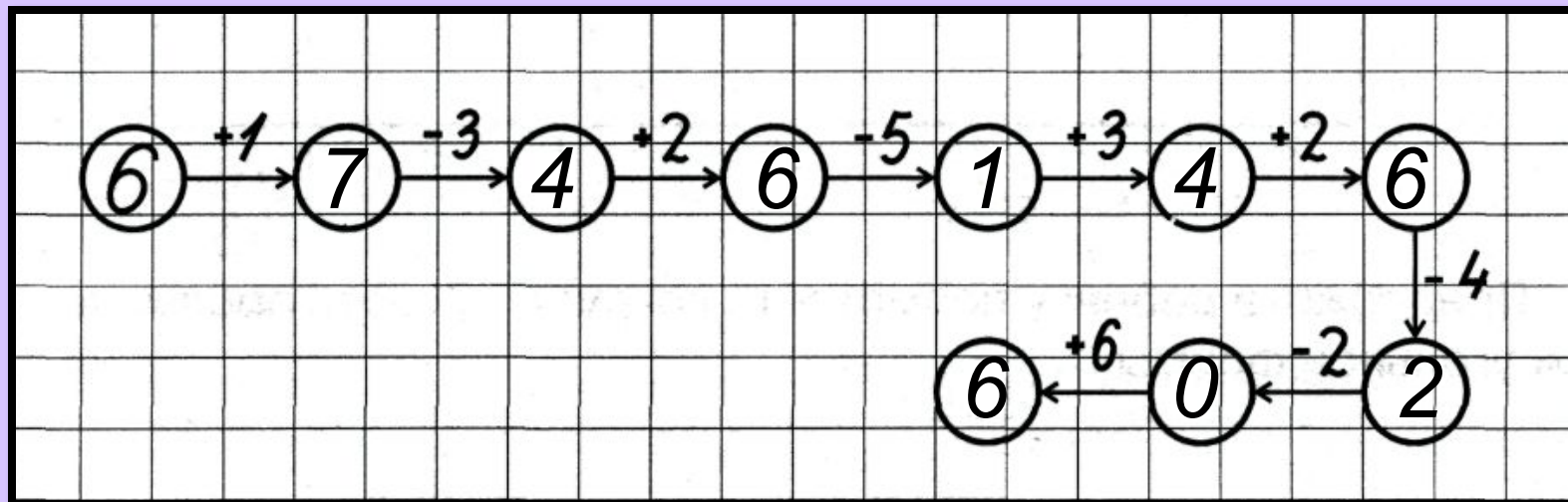
~~$5 + 5 = 10$~~

~~$3 + 7 = 10$~~

~~$8 + 2 = 10$~~



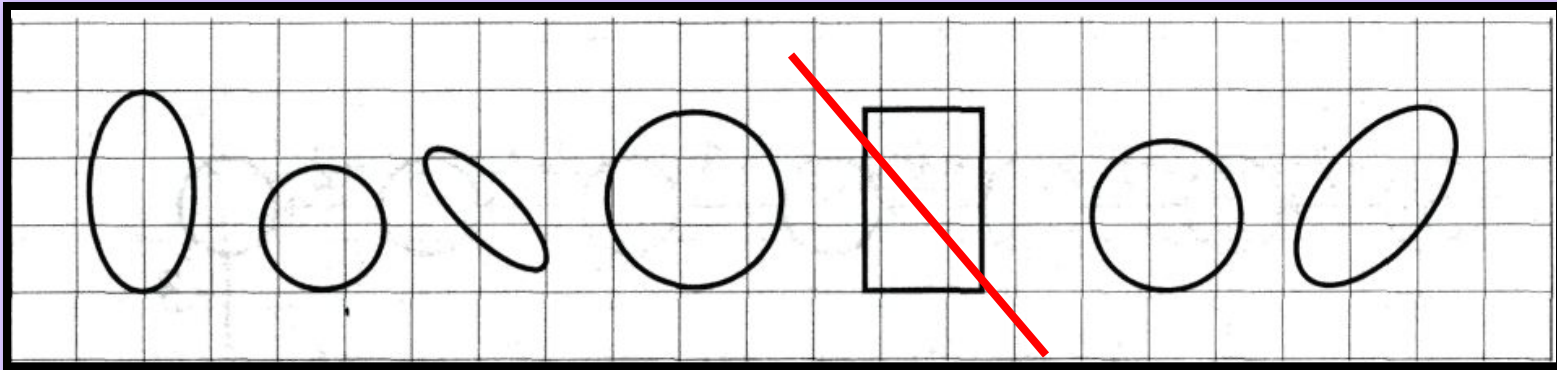
Урок 38





∅∅∅∅∅∅∅∅∅∅	$10 - 10 = 0$
○○○●●●●●○○	$3 + 7 = 10$
○○○○○∅∅∅∅	$9 - 4 = 5$
○○●●●○○	$2 + 5 = 7$
○○○∅∅∅∅∅	$8 - 5 = 3$
○○○○●●●○○	$4 + 5 = 9$
○○○○∅∅∅∅∅	$9 - 5 = 4$







МОЛОДЦЫ!

