

Тест

5 класс



Вопрос 1



Австрия



Украина



Бельгия



Маврикий



Россия



Индонезия

Каждый флаг разделен на несколько равных частей. Ответьте на вопросы:

Какая часть флага Австрии белая?

A) $\frac{1}{3}$

B) $\frac{1}{5}$

C) $\frac{2}{3}$

D) $\frac{3}{5}$

Вопрос 2



Австрия



Украина



Бельгия



Маврикий



Россия



Индонезия

Какая часть флага Украины голубая?

A) $\frac{1}{3}$

B) $\frac{1}{2}$

C) $\frac{2}{3}$

D) $\frac{3}{2}$

Вопрос 3



Австрия



Украина



Бельгия



Маврикий



Россия



Индонезия

Какая часть флага Бельгии черная?

A) $\frac{1}{3}$

B) $\frac{1}{2}$

C) $\frac{2}{3}$

D) $\frac{3}{5}$


Вопрос 4



Австрия



Украина



Бельгия



Маврикий



Россия



Индонезия

Какая часть флага Маврикия зеленая?

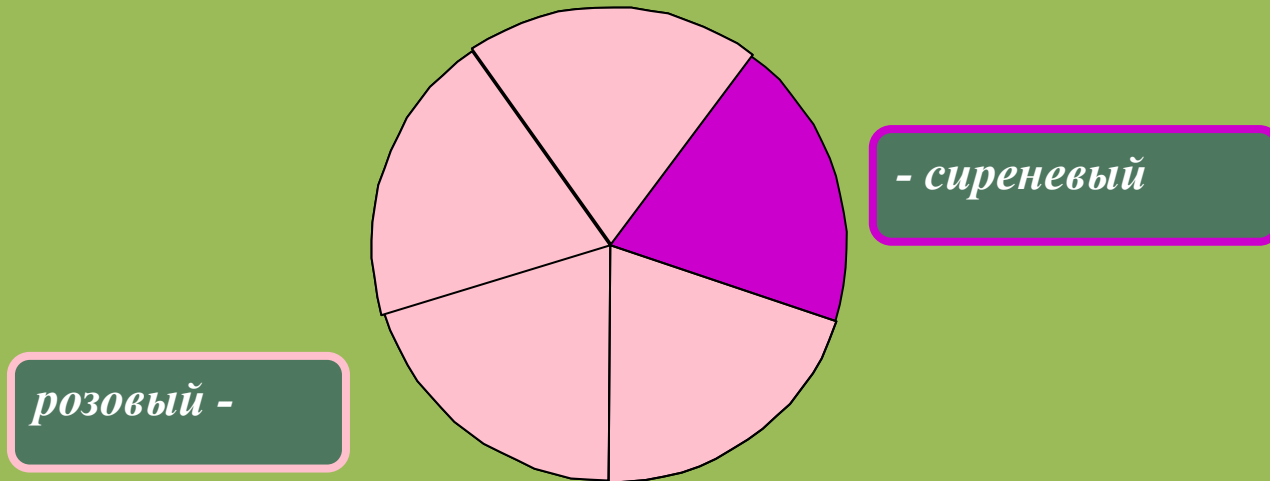
A) $\frac{1}{3}$

B) $\frac{1}{4}$

C) $\frac{2}{3}$

D) $\frac{3}{5}$

Вопрос 5



Какая часть фигуры закрашена сиреневым цветом?

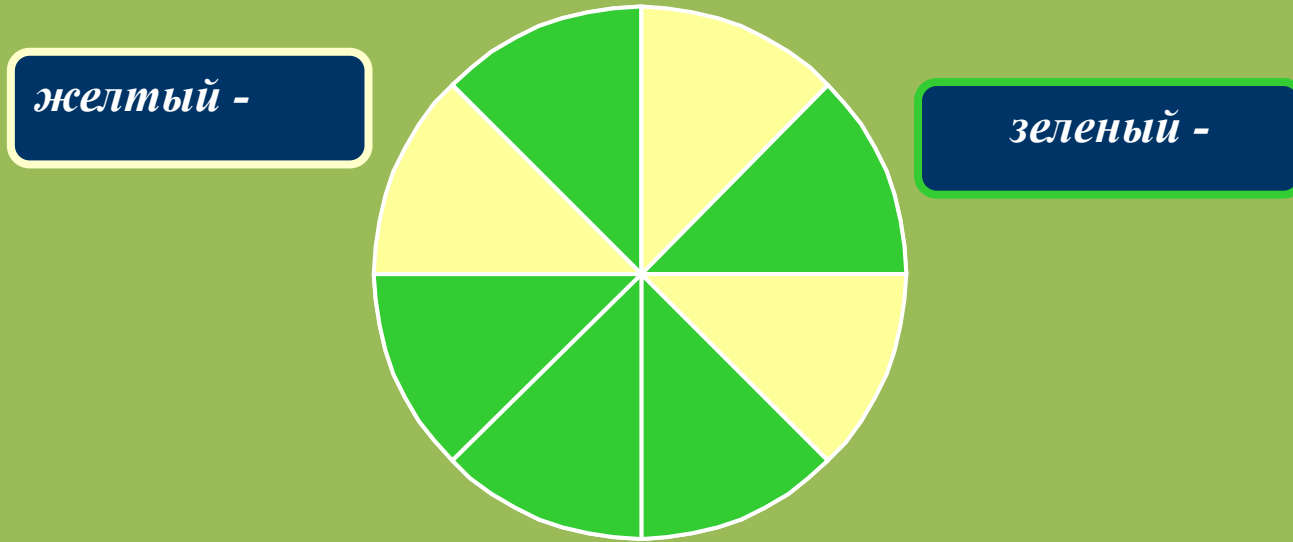
A) $\frac{1}{6}$

B) $\frac{1}{3}$

C) $\frac{1}{5}$

D) $\frac{1}{4}$

Вопрос 6



Какая часть фигуры закрашена зеленым цветом?

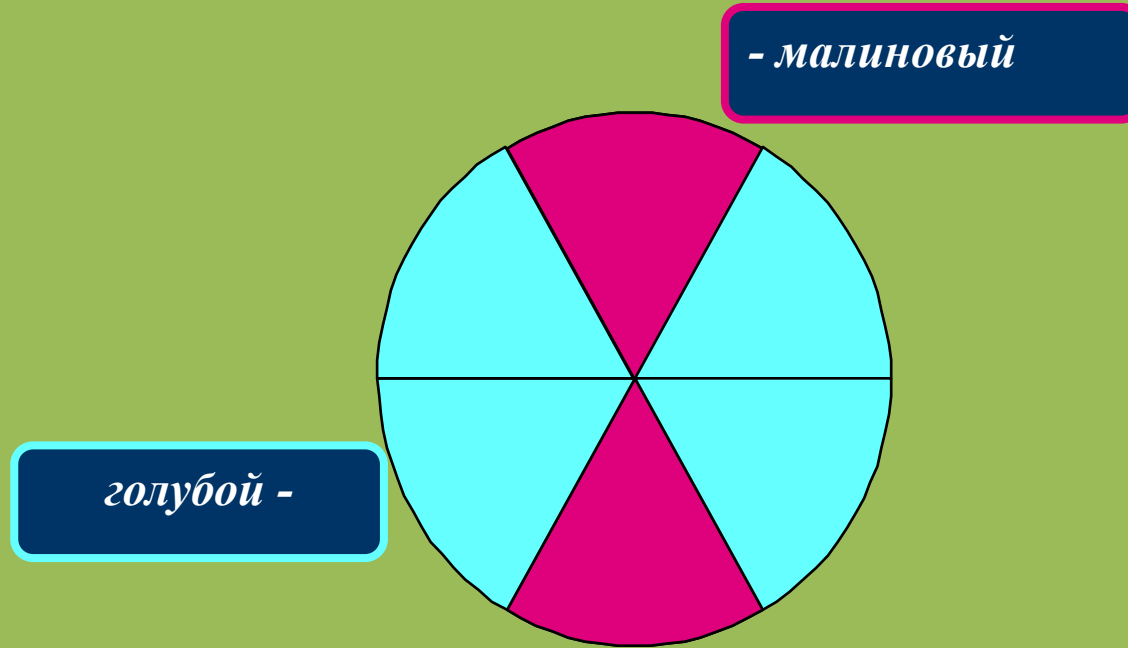
A) $\frac{1}{6}$

B) $\frac{3}{8}$

C) $\frac{3}{5}$

D) $\frac{5}{8}$

Вопрос 7



Какая часть фигуры закрашена голубым цветом?

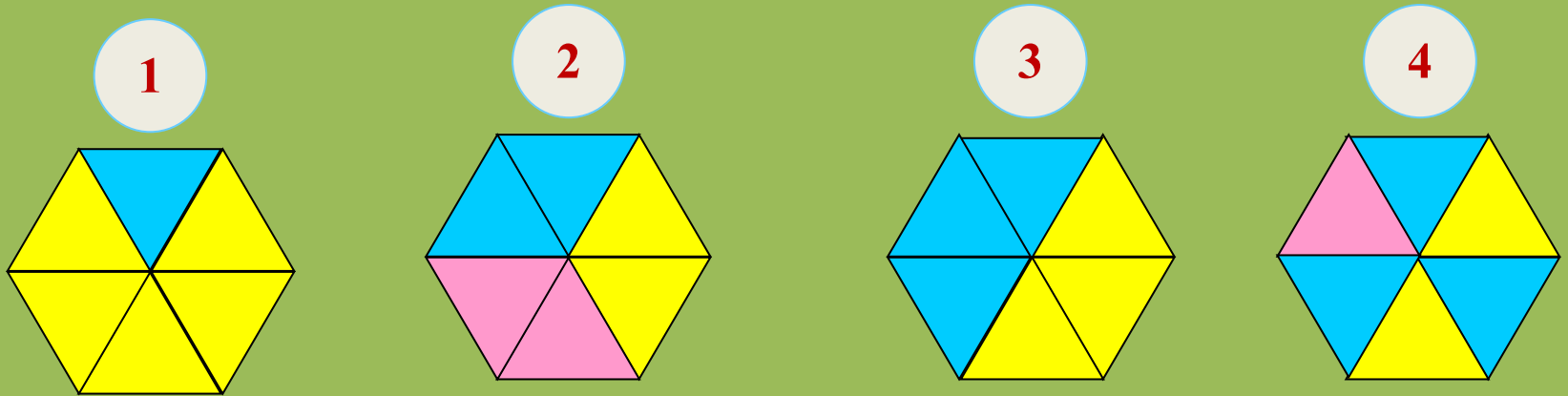
A) $\frac{4}{6}$

B) $\frac{2}{6}$

C) $\frac{2}{5}$

D) $\frac{1}{4}$

Вопрос 8



Где закрашено голубым $\frac{3}{6}$ фигуры?

Укажите номер

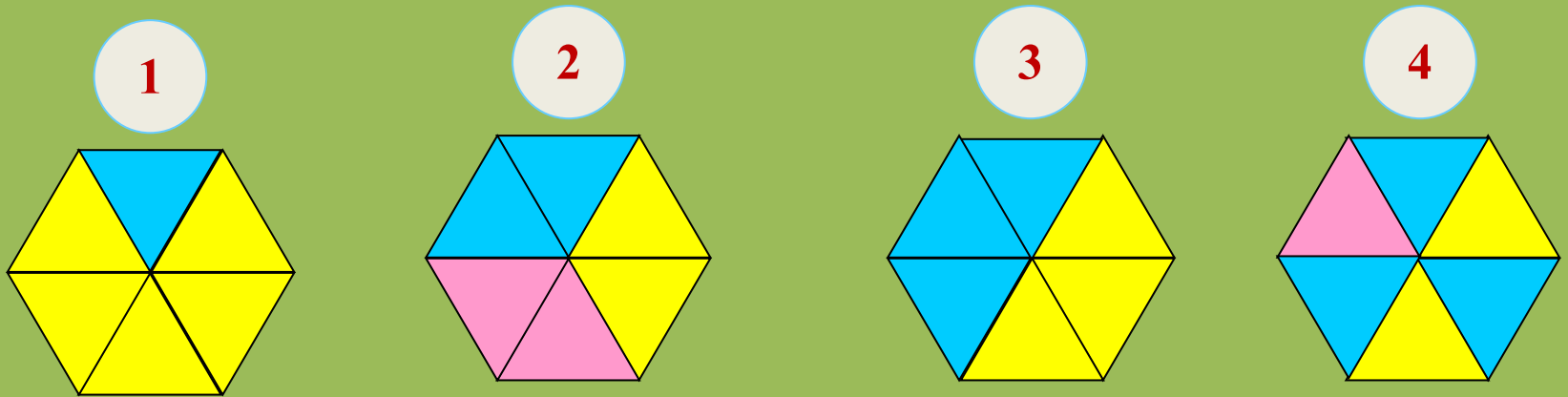
A) 1

B) 3

C) 4

D) 2

Вопрос 9



На каких фигурах можно дать разные ответы
о закрашенной части?

Укажите номера

A) 1, 2, 3

B) 2, 3, 4

C) 1, 3, 4

D) 1, 2, 4

Тест закончен. Спасибо!

