

ПРИРОДА СЕВЕРНОЙ АМЕРИКИ





от Гринича

60 В 70 Б 80 А 100 Б 70 В 60 Г 50

СЕВЕРНЫЙ ЛЕДОВИТЫЙ
ОКЕАН

ГРЕНЛАНДИЯ

ИНГОВ
МОРЬЕ

Море Бофорта

ТИХИЙ
ОКЕАН

США

КАРИБСКОЕ
МОРЬЕ

Мексиканский
Залив

БОЛЬШИЕ АНТИЛЬСКИЕ
ОСТРОВА

КАРИБСКОЕ
МОРЬЕ

Северный тропик

Ореховый
остров

Задания ОГЭ по географии

Тема

- [Задания 1. Географические особенности природы и народов Земли](#)
- [Задания 2. Географическое положение России](#)
- [Задания 3. Особенности природы России](#)
- [Задания 4. Геоэкологические проблемы](#)
- [Задания 5. Отрасли хозяйства России, особенности размещения](#)
- [Задания 6. Природные ресурсы, их использование и охрана](#)
- [Задания 7. Особенности населения России](#)
- [Задания 8. Территориальная обеспеченность ресурсами](#)
- [Задания 9. Разные территории Земли, их обеспеченности природными и человеческими ресурсами](#)
- [Задания 10. Географические явления и процессы в геосферах](#)
- [Задания 11. Разные территории Земли: анализ карты](#)
- [Задания 12. Природные и антропогенные причины возникновения геоэкологических проблем](#)
- [Задания 13. Существенные признаки географических объектов и явлений](#)
- [Задания 14. Географические координаты](#)
- [Задания 15. Географические явления и процессы в геосферах \(C1\)](#)
- [Задания 16. Географические объекты и явления](#)
- [Задания 17. Разные территории Земли: анализ карт](#)
- [Задания 18. Расстояние на карте](#)
- [Задания 19. Направление на карте](#)
- [Задания 20. Чтение карт различного содержания \(C2\)](#)
- [Задания 21. Чтение и анализ карт](#)
- [Задания 22. Географические объекты и явления](#)
- [Задания 23. Разные территории Земли, их обеспеченности природными и человеческими ресурсами \(C3\)](#)
- [Задания 24. Определение поясного времени](#)
- [Задания 25. Особенности природы, населения, основных отраслей хозяйства, природно-хозяйственных зон и районов России](#)
- [Задания 26. Географические явления и процессы в геосферах](#)
- [Задания 27. Анализ информации о разных территориях Земли](#)
- [Задания 28. Выявление эмпирических зависимостей](#)
- [Задания 29. Географические следствия движений Земли](#)
- [Задания 30. Выявление существенных признаков географических объектов и явлений](#)

Задания ОГЭ по географии

Задания 1. Географические особенности
природы и народов Земли

№1.

Территория какого государства включает в себя самый большой остров на Земле?

- 1) США
- 2) Россия
- 3) Дания
- 4) Канада

№2.

Джордж Ванкувер – английский мореплаватель и исследователь XVIII в. Экспедиции под командованием Дж. Ванкувера исследовали тихоокеанское побережье Южной и Северной Америки. Какой из перечисленных географических объектов назван в честь этого мореплавателя?

- 1) море
- 2) канал
- 3) остров
- 4) течение










В каких из перечисленных горных систем есть действующие вулканы?

- 1) Большой Водораздельный хребет
- 2) Алтай
- 3) Кордильеры
- 4) Скандинавские



Тектоническая карта Северной Америки



-  -действующие вулканы
-  -древняя платформа с осадочным чехлом
-  -канадский щит (выход древней платформы на поверхность)
-  -области новой складчатости
-  -области средней складчатости
-  -области древней складчатости
-  -зоны землетрясений



МП Северный магнитный полюс
 Граница плавучих льдов в период наибольшего распространения (апрель, март)
 Граница плавучих льдов в период наименьшего распространения (август)

ШКАЛА ГЛУБИН И ВЫСОТ В МЕТРАХ
 4000
3000
2000
1000
500
200
0
-200
-400
-600
-800
-1000
-1200
-1400
-1600
-1800
-2000
-2200
-2400
-2600
-2800
-3000
-3200
-3400
-3600
-3800
-4000
 высь
 глубина

450 0 450 900 1350 1800 км
 7 80° 8

Задания ОГЭ по географии

Задания 15. Географические явления
и процессы в геосферах (С1)

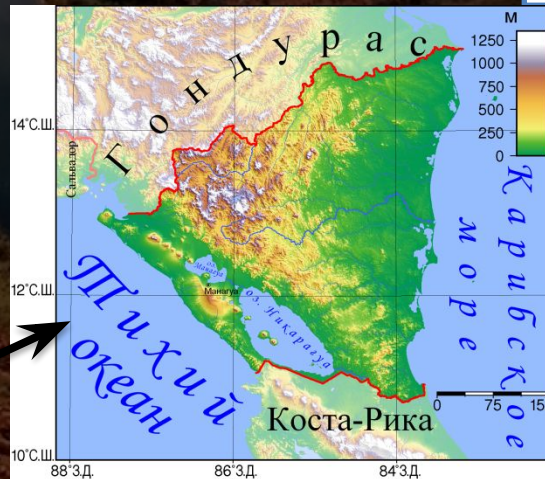
Задание №15. в.1.

Никарагуа — государство в Центральной Америке. На его территории находится два больших озера: Манагуа, длиной 51 км и шириной от 16 до 25 км, и Никарагуа, длиной 105 км и шириной около 70 км. Над поверхностью озера Никарагуа поднимаются три вулканических конуса, самый высокий из которых — Консепсьон. На юго-западном берегу озера Манагуа вздымается величественный вулкан Момотомбо. Цепь из 20 вулканов продолжается далее на северо-запад, к Тихому океану. Чем объясняется наличие большого количества вулканов на территории Никарагуа?

гва?



Пояснение.1. Никарагуа расположено на окраине Карибской плиты вблизи границы литосферных плит.
2. Это сейсмическая зона.




Задания ОГЭ по географии

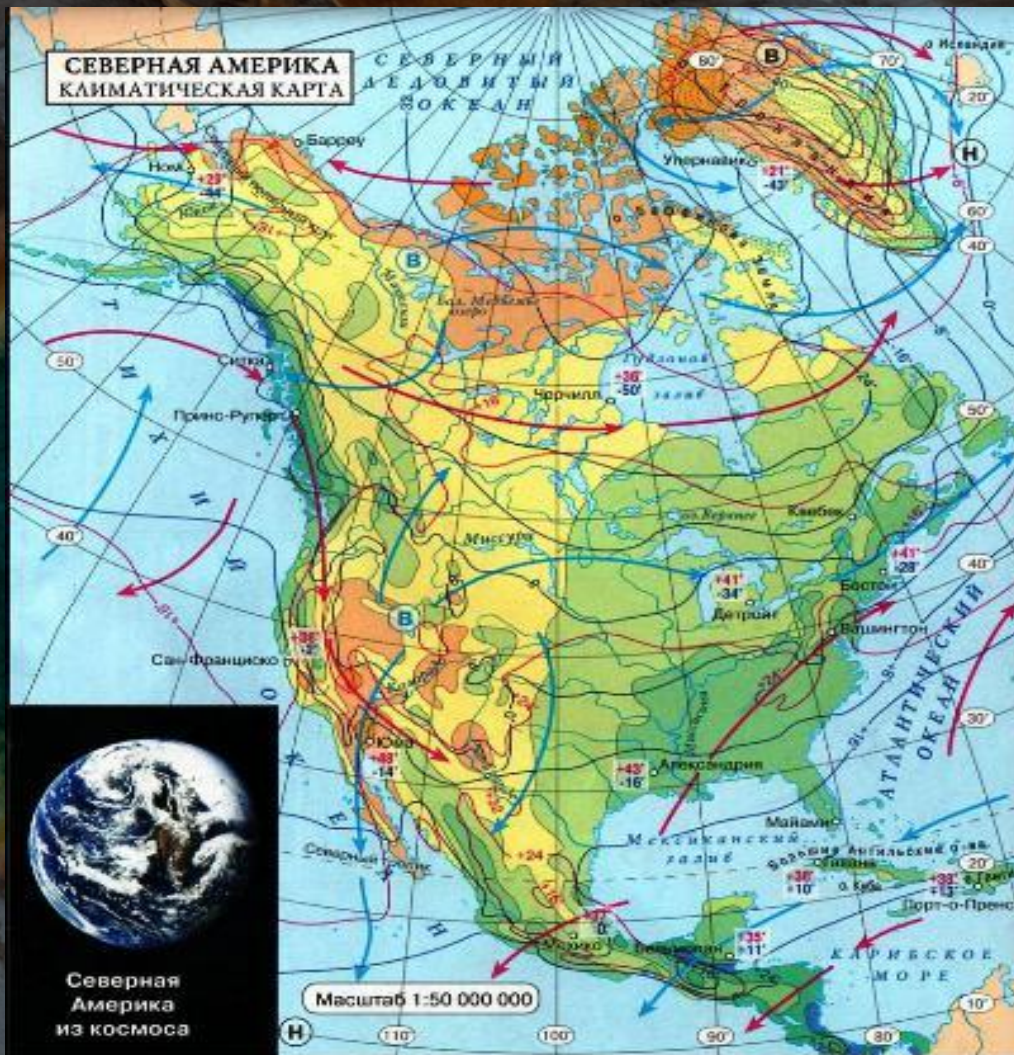
Задания 1. Географические особенности
природы и народов Земли

В каком из океанов проходит течение Гольфстрим?

- 1) Тихий
- 2) Индийский
- 3) Атлантический
- 4) Северный Ледовитый



СЕВЕРНАЯ АМЕРИКА КЛИМАТИЧЕСКАЯ КАРТА



Северная Америка из космоса

СРЕДНЕГОДОВОЕ КОЛИЧЕСТВО ОСАДКОВ В МИЛЛИМЕТРАХ



ТЕМПЕРАТУРА ВОЗДУХА В ГРАДУСАХ ЦЕЛЬСИЯ

+48° Абсолютный максимум температуры
-50° Абсолютный минимум температуры

циркуляция АТМОСФЕРЫ

Ветры

→ в июле → в январе

Давление

в январе постоянное

В высокие В высокие Н низкое



№5.

На каком из перечисленных материков находятся озёра Эри и Мичиган?

- 1) Австралия
- 2) Северная Америка
- 3) Африка
- 4) Южная Америка

№6.

Как называется материк, по территории которого протекает река Колорадо?

- 1) Африка
- 2) Северная Америка
- 3) Австралия
- 4) Южная Америка

№7.

Как называется материк, на территории которого находится Ниагарский водопад?

- 1) Африка
- 2) Северная Америка
- 3) Австралия
- 4) Южная Америка



МП Северный магнитный полюс
 Граница плавучих льдов в период наибольшего распространения (апрель, март)
 Граница плавучих льдов в период наименьшего распространения (август)

ШКАЛА ГЛУБИН И ВЫСОТ В МЕТРАХ
 0 200 500 1000 2000 3000 4000
 ВЫСОТА
 0 1000 2000 3000 4000
 ГЛУБИНА



Задания ОГЭ по географии

Задания 30. Выявление существенных признаков
географических объектов и явлений

№1.

Определите страну по её краткому описанию.

Это одна из самых больших по величине территории стран мира. Расположена в Северном полушарии. Её берега омывают воды трёх океанов. Самую западную часть страны занимают горы. Она исключительно богата лесными ресурсами, пушным зверем, запасами пресной воды, различными полезными ископаемыми.

Имеет сухопутную границу только лишь с одним государством. Столица — не самый большой город страны.

КАНАДА

№2.

Определите страну по её краткому описанию.

Эта страна на севере граничит с высокоразвитой страной; имеет выход к двум океанам. Её столица – один из самых древних городов Америки; на территории страны сохранились очаги древней цивилизации. Большую часть её территории занимают горы и нагорье; здесь часты землетрясения, имеются вулканы. Страна богата рудами цветных металлов, нефтью и природным газом.

МЕКСИКА

ПРИРОДА СЕВЕРНОЙ АМЕРИКИ

