


Сьогодні
04.10.2022

Урок
№18

Всім.pptx
Нова українська школа

Дужки. Порядок дій у виразах з дужками



Сядьте, діти, всі
гарненько,
Руки покладіть
рівненько,
Голову вище підніміть,
Свої плечі розведіть.

Мені діти допомігли

$$13 - 3 - 3$$



7

$$12 - 2 - 2$$



8

$$16 - 6 - 6$$



4

$$15 - 5 - 5$$



5

$$11 - 1 - 1$$



9

$$14 - 4 - 4$$



6

Класна робота
зосвітня



7

8

4

5

9

6

каліграфічно
результати
обчислень у

Класна робота
зосвітня



4 5 6 7 8 9

4

5

6

7

8

9

Сьогодні
04.10.2022

**Робота із
підручником
«Математика»
Г.Лищенко,
с. 23 - 24**



Числа

Знайти

Числа

Знайти

9 і 4

суму

Числа

Знайти

9 і 4

суму

11 і 3

різницю

Числа

Знайти

9 і 4

суму

11 і 3

різницю

12 і 5

різницю

Числа

Знайти

Числа

Знайти

4 і 5

суму

Числа

Знайти

4 і 5

суму

14 і 5

різницю

Числа

Знайти

4 і 5

суму

14 і 5

різницю

20 і 1

різницю



Від числа 10
відніми суму
чисел 3 і 5

Якщо треба додати
або відняти суму чи
різницю, то її
записують в дужках



$$10 - (3 + 5) = 2$$



сум





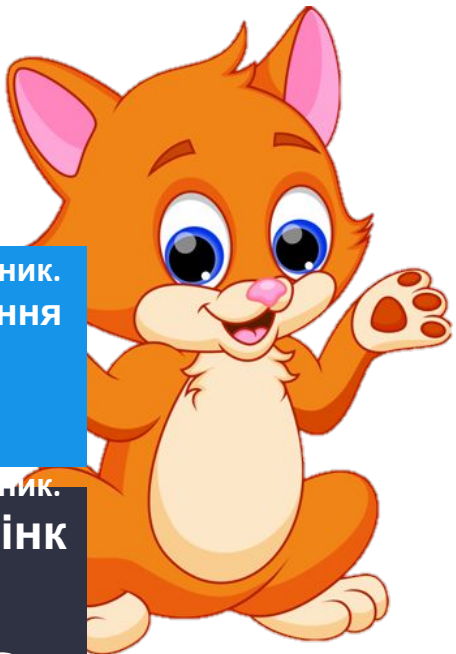
До 7 додай
різницю
чисел 6 і 3


Якщо треба додати
або відняти суму чи
різницю, то її
записують в дужках



$$7 + (6 - 3) = 10$$

різниця





У виразах із
дужками першою
виконують дію над
числами у дужках

З кожної рівності склади по три рівності за зразком

$$8 + (9 - 4) = 8 + 5 = 13$$


$$3 + (15 - 6) = 3 + 9 = 12$$

Підручник.
завдання

3

Підручник.
Сторінк
а

23



З кожної рівності склади по три рівності за зразком

$$13 - (10 - 5) = 13 - 5 = 8$$


$$12 - (8 + 4) = 12 - 12 = 0$$

Підручник.
завдання

3

Підручник.
Сторінка
а


23



З кожної рівності склади по три рівності за зразком

$$15 - (3 + 5) = 15 - 8 = 7$$

$$14 + (11 - 10) = 14 + 1 = 15$$



Вирази 3

$$8 + (9 - 4) = 8 + 5 = 13$$

$$3 + (15 - 6) = 3 + 9 = 12$$

$$13 - (10 - 5) = 13 - 5 = 8$$



Вирази 3

$$12 - (8 + 4) = 12 - 12 = 0$$

$$15 - (3 + 5) = 15 - 8 = 7$$

$$14 + (11 - 10) = 14 + 1 = 15$$



Сьогодні
04.10.2022

Прочитай задачу



Перепілка протягом
дня **4 год** летіла у
вирій, а
7 год бігла і йшла.
Скільки **всього** годин
протягом

Підручник.
задача

4

Підручник.
Сторінк
а

24

Задача 4

Летіла - 4 год

Бігла і йшла 7 год


?

Розв'язання

$$1) 7 + 4 = 11 \text{ (год)}$$

Відповідь: 11 год всього перепілка летіла, бігла і йшла.





Деркач протягом дня може **11 год** мандрувати в теплі краї. З них **8 год** – летіти, а решту часу – іти й відпочивати. Скільки годин протягом дня деркач

Задача 4

Летіти - 8 год

Йти і відпоч. - ?

1 1 год

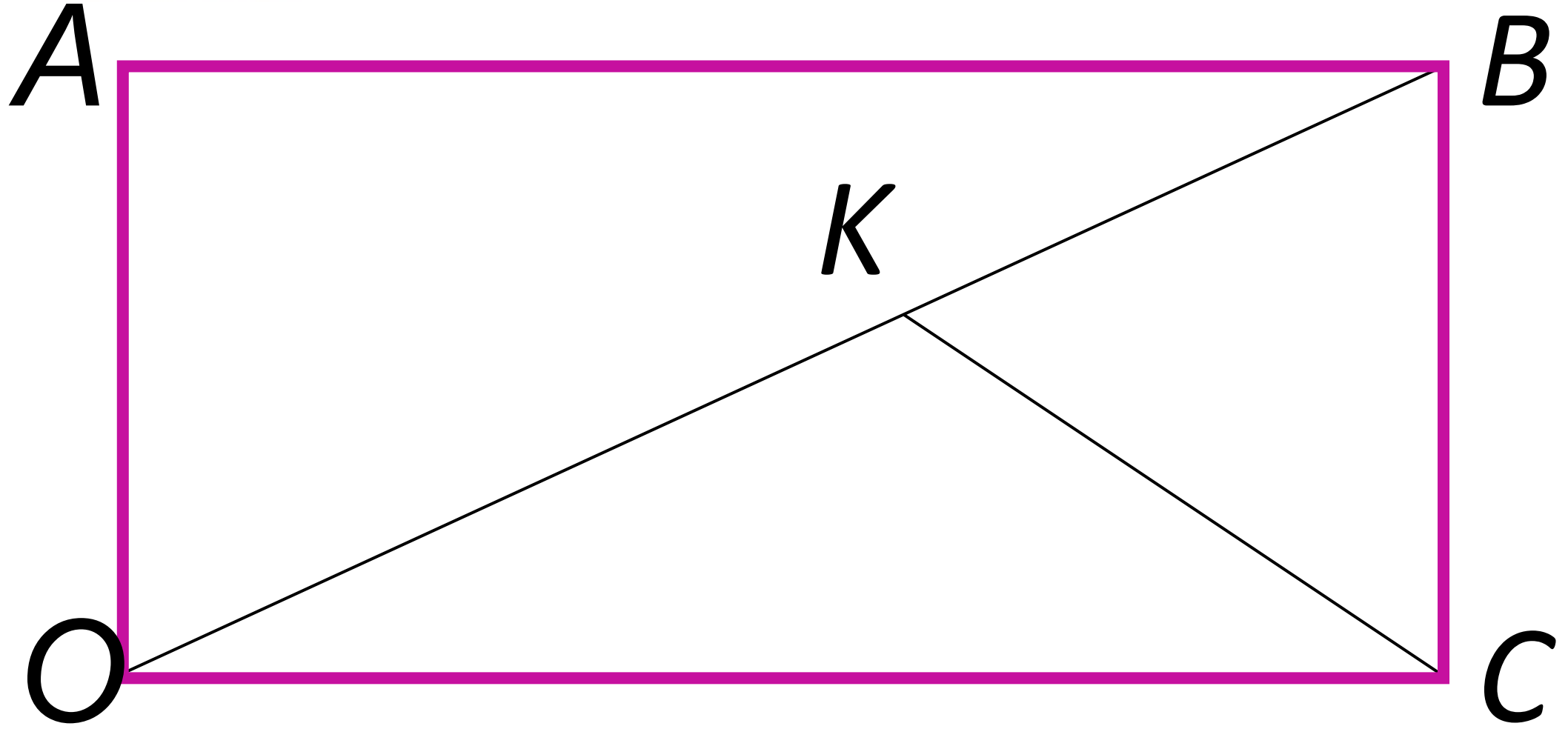
Розв'язання

$$1) 1 + 1 - 8 = 3 \text{ (год)}$$

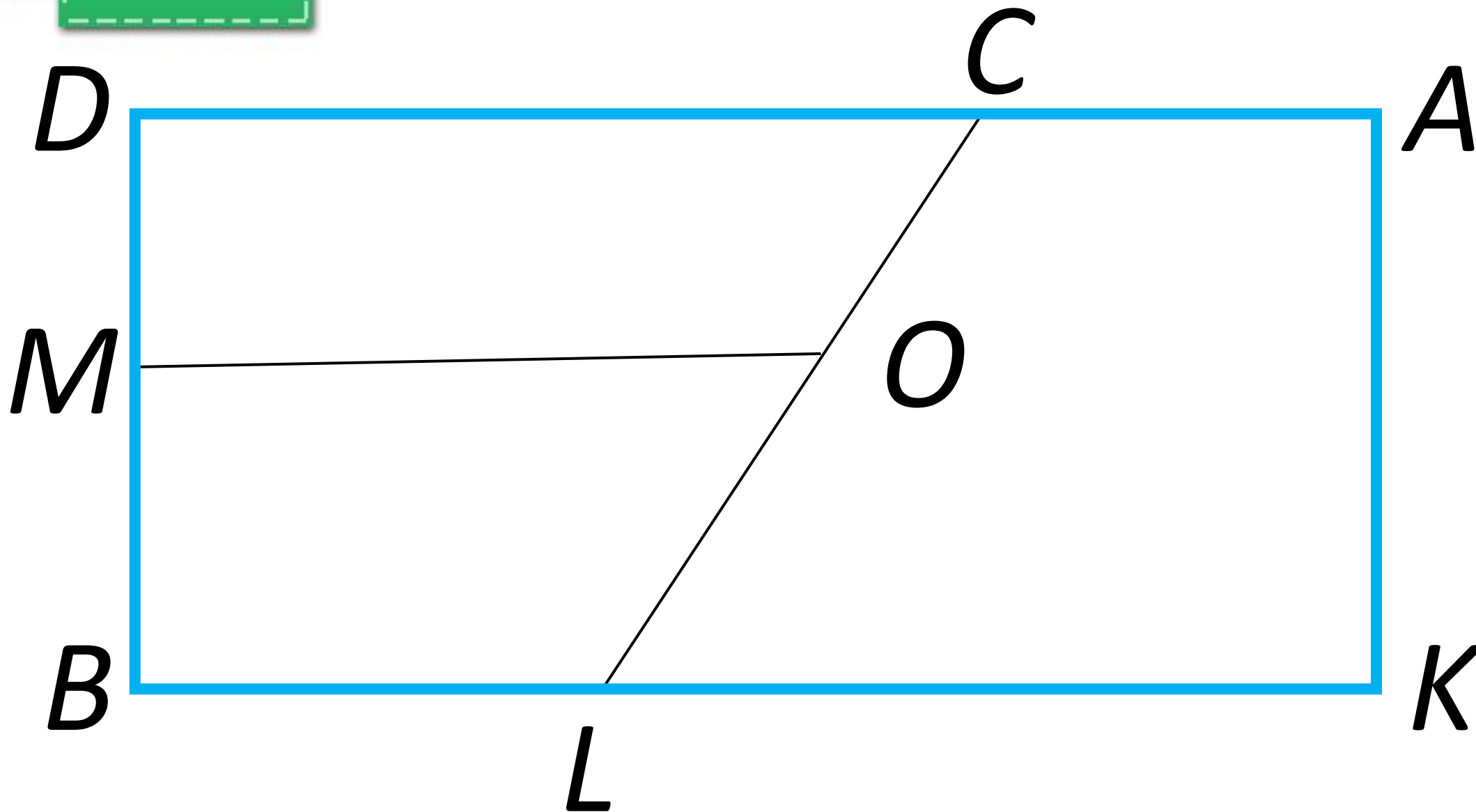
Відповідь: 3 год деркач може йти й відпочивати.



Скільки трикутників, чотирикутників? Назвіть їх



Скільки трикутників, чотирикутників? Назвіть їх



Сьогодні
04.10.2022

Домашні тренувальні вправи.



**Опрацювати
завдання 8,
задачу 7
на сторінці 24**

СЬОГОДН
04.10.2022

Рефлексія. Оберіть відповідну цеглинку лего.



*На уроці мені
дуже сподобалось.*



*На уроці мені
сподобалось.*



*На уроці мені
не сподобалось.*

СЬОГОДН
04.10.2022

Рефлексія. Створимо пірамідку нашого настрою.

