

Click to edit the notes format.


Размещение населения России



8 класс

Цель урока:

Изучить особенности размещения расселения населения на территории России



ЗАДАЧИ УРОКА

Click to edit the notes format

- ДАТЬ ОПРЕДЕЛЕНИЕ «ПЛОТНОСТИ НАСЕЛЕНИЯ»
- НАУЧИТЬСЯ ОПРЕДЕЛЯТЬ СРЕДНЮЮ ПЛОТНОСТЬ НАСЕЛЕНИЯ ТЕРРИТОРИИ
- ВЫДЕЛИТЬ ЗОНЫ РАССЕЛЕНИЯ НАСЕЛЕНИЯ РОССИИ И УМЕТЬ НАЗЫВАТЬ ПРИЧИНЫ, ХАРАКТЕРИЗУЮЩИЕ ИХ
- ПРОДОЛЖИТЬ ФОРМИРОВАТЬ НАВЫК РАБОТЫ С КАРТАМИ АТЛАСА

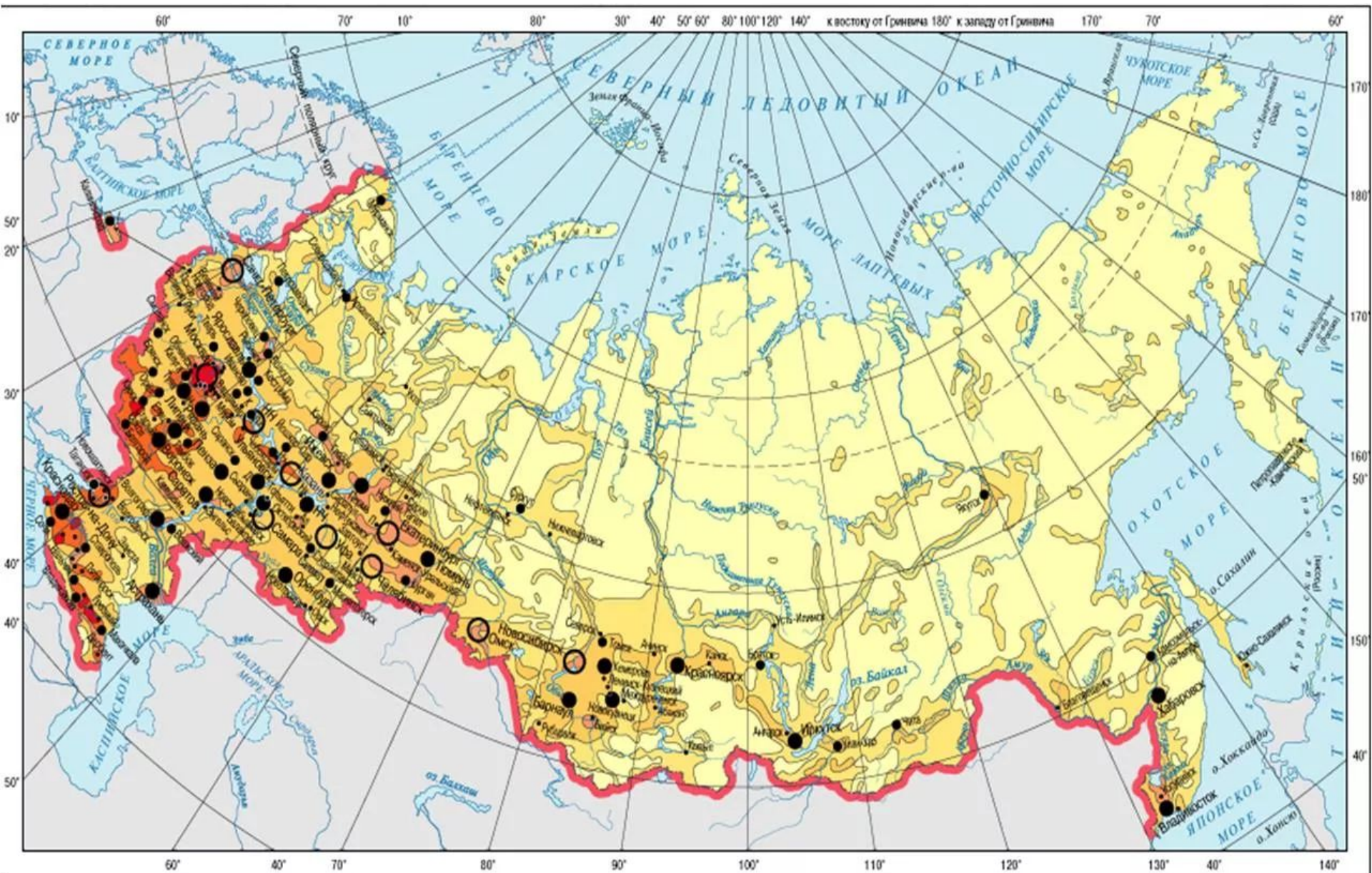
ПОВТОРИМ ГЛАВНОЕ

Click to edit the notes format

- **КАКОВА ЧИСЛЕННОСТЬ НАСЕЛЕНИЯ РОССИИ?**
- **КАКОЕ МЕСТО ПО ЧИСЛЕННОСТИ НАСЕЛЕНИЯ ЗАНИМАЕТ НАША СТРАНА?**
- **ЧТО ТАКОЕ ЕСТЕСТВЕННЫЙ ПРИРОСТ НАСЕЛЕНИЯ?**

Размещение населения

Проанализируйте карту плотности населения.



Плотность населения

Плотность населения
человек на кв. км.



зона Крайнего Севера

главная полоса расселения

Click to edit the notes format

Главная полоса расселения

Территория страны с наиболее благоприятными условиями жизни и ведения хозяйства, где проживает основная доля населения (более 90%) и ведётся основное хозяйство страны.

Click to edit the notes format

• **Включает в себя:**

- Центрально-европейскую часть России
- Средний и Южный Урал
- Юг Сибири
- Юг Дальнего Востока

Плотность населения

Плотность населения - количество жителей (человек) на 1 кв. км территории.

Click to edit the notes format

Средняя плотность населения России - 8,3 чел. на 1 кв. км.

Зона сплошного заселения называется **главной полосой расселения**.

Северная граница главной полосы расселения в Европейской части страны проходит по линии, соединяющей города **Петрозаводск - Киров - Пермь**.

В Азиатской части страны главная полоса заселения проходит по югу Сибири и Дальнего Востока.

Эта зона занимает **1/3 территории**, на ней проживает **93 % населения**.

Она характеризуется высокой плотностью, большим количеством городов.

Средняя плотность **50 чел. на 1 кв. км**.

На территории России большую территорию занимает зона **Крайнего Севера** (**2/3 территории** страны, проживает **1/15 населения**).

Плотность - **0,9 чел. на 1 кв. км**.

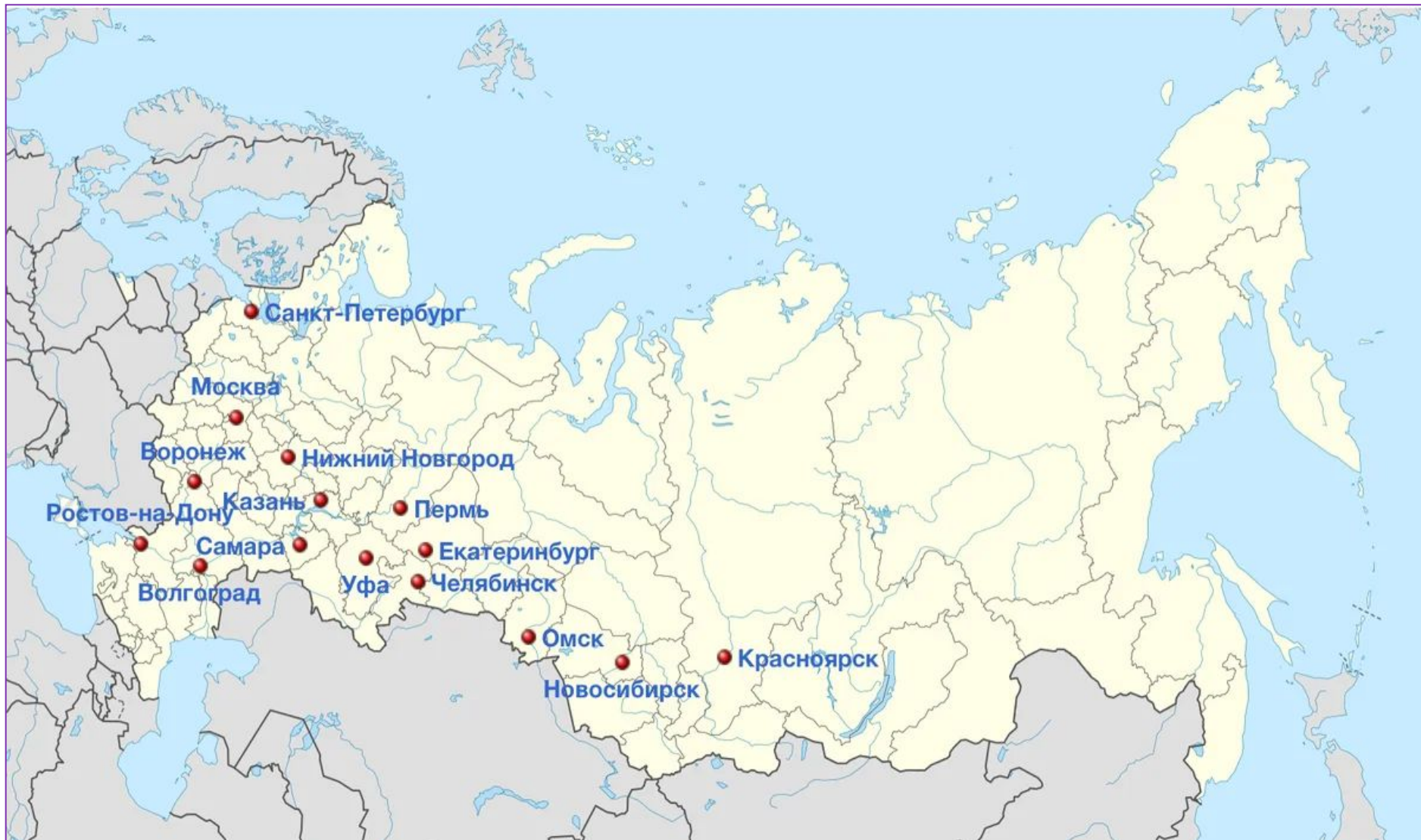
Определите среднюю плотность населения в Ивановской области в 2007г

Площадь территории и численность населения отдельных регионов РФ

Регион	Площадь территории, тыс. км ²	Численность населения по годам, тыс. чел								
		всего			городского			сельского		
		1995	2000	2007	1995	2000	2007	1995	2000	2007
Ивановская область	24	1260	1195	1088	1036	985	878	224	210	210
Республика Дагестан	50	2200	2443	2659	945	1040	1133	1255	1403	1526
Новосибирская область	178	2732	2725	2670	2021	2034	1986	711	691	655

Плотность населения определяется делением численности населения на площадь территории

Города - миллионеры



ДОМАШНЕЕ ЗАДАНИЕ

П15

1. Определите плотность населения регионов, перечисленных в таблице.

Click to edit the notes format	Площадь территории, тыс. км	Общая численность населения, тыс. чел	Численность городского населения, тыс. чел.	Численность сельского населения, тыс. чел
	351,3	960	529,92	436,8
	101,2	2595,3	1917,92	677,38
	431,9	1122,1	711,41	410,69
	123,7	2125,5	1220	905,47

2. Запишите по пять субъектов с самой высокой и самой низкой плотностью населения.

3. Используя данные таблицы 1 на стр. 218-220, определите пять областей с самой высокой долей сельского населения.