

Давайте вспомним:

1. Как зовут героев нашей истории?
2. Что с ними произошло?
3. Какое последнее решение они приняли?

Тут столько вариантов... Как мы можем выбрать верный путь и не ошибиться?

УРОВЕНЬ 1

Это похоже на шифр!
Я люблю загадки.

(1; 2) (5; 1) (7; 3)
(5; 5) (1; 4)



Это координаты!

Я однажды делала
похожее задание.

Уровень 1

(1; 2) (5; 1) (7; 3)

(5; 5) (1; 4)



А если нет? Почему ты думаешь, что это верное решение?

Сейчас попробую и узнаем!

(1; 2) (5; 1) (7; 3)
(5; 5) (1; 4)

УРОВЕНЬ 1




X и Y – координаты

Координаты – это 2 числа, которые определяют положение предмета/человека на поверхности.

*спрайта,
персонажа*

*на карте или
на поле игры*

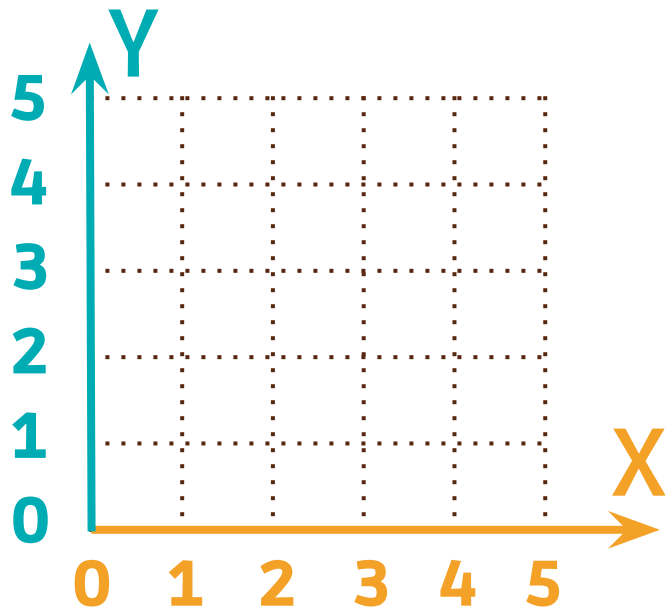
Координаты состоят из двух направлений.
Первое направление — слева направо.



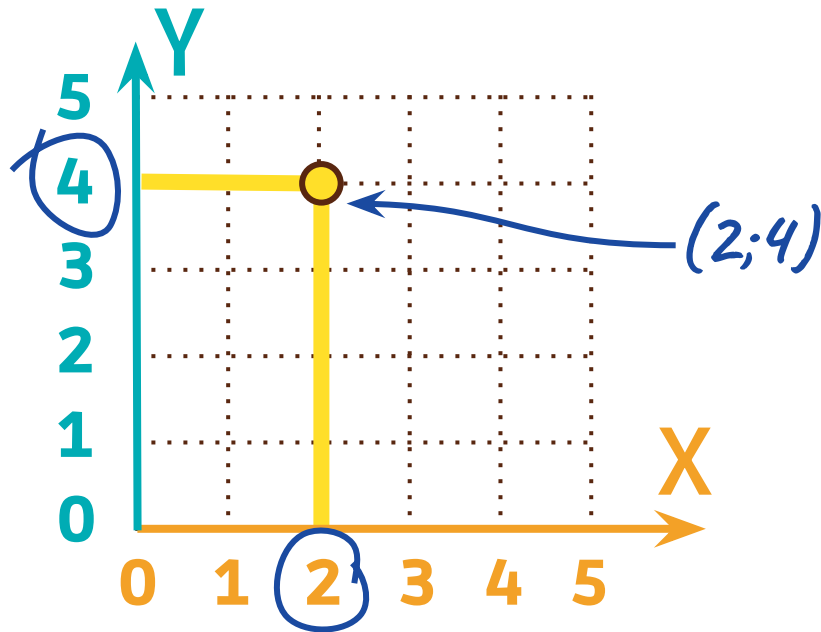
*эта буква
читается ИКС*

Второе направление идёт **снизу вверх**.

эта буква
ИГРЕК



X всегда идёт первым, Y вторым. На схеме
указана точка (2; 4). Это значит $X=2$, $Y=4$.



Перед тобой лист с полем 7 на 7

Отметь точки на поле
и соедини их линиями:

(1; 2) (5; 2) (5; 1) (7; 3) (5; 5)
(5; 4) (1; 4)

