

Презентация по математике

Урок 2.3 Сравнение чисел

4 класс

Выполнила: учитель начальных классов

*Васева Ольга Владимировна
МАОУ «СОШ № 118» г.Пермь*



**Заливистый
школьный звонок
Позвал опять на урок.
Будьте все
внимательны,
А ещё старательны!**



Арифметический диктант

1. Восемь тысяч;
2. сто двадцать четыре тысячи пятьсот шестьдесят четыре;
3. четыреста двадцать пять тысяч;
4. сто двадцать три тысячи;
5. двадцать шесть тысяч;
6. триста шестьдесят пять тысяч сто;
7. три тысячи сто сорок шесть;



Арифметический диктант

7. три тысячи сто сорок шесть;

8. девять тысяч шестьдесят;


9. запишите число, предшествующее числу 70000;

10. запишите число, предшествующее числу 7000;

11. запишите число, следующее за числом 8000;

12. запишите число, следующее за числом 8999.

Самопроверка арифметического диктанта





● Прочитайте и запишите числа в порядке возрастания.

8 040, 800 040, 80 040, 840, 90 040, 8 060.

Смогли ли вы выполнить задание? Как вы сравнивали эти числа? Какие правила сравнения чисел вы знаете?



Сравнение чисел

$$49 * 100$$

$$201 * 99$$

$$1111 * 888$$

$$300 * 2001$$



Сравнение чисел

276 * 726

1034 * 1037

38188 * 38168

174562 * 183001



Вывод...




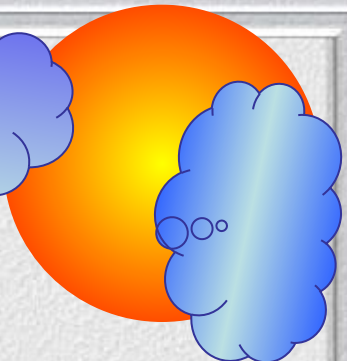



Порядок сравнения многочисленных чисел

1. Проверяем количество разрядов в обоих числах: больше то число, в котором разрядов больше.

2. Если разрядов в числах одинаковое количество, то сравниваем количество единиц поразрядно, как только найден разряд с разным количеством единиц, устанавливается знак сравнения.





Ребята, берегите зрение!



Работа с учебником





Сравните ($>$, $<$, $=$).

$$999 * 1\,000$$

$$9\,900 * 60\,500$$

$$235\,728 * 89\,642$$

$$9\,876 * 9\,875$$

$$235\,728 * 237\,528$$

$$69\,500 * 96\,500$$



3

Некоторые вершины мира имеют такую высоту: Чогори – 8 611 м, Канченджанга – 8 585 м, Макалу – 8 475 м, Дхаулагіри – 8 171 м, Нангапарбат – 8 126 м. Отрезком какого цвета обозначена каждая вершина?





Чогори – 8611м




Канченджанга – 8 585 м




Макалу – 8 475 м



Дхаулагири – 8 171 м



Нанга Парбат – 8 126 м



Работа с учебником



7 Субботним утром школьники отправились в лес, где собрались изучать жизнь рыжих лесных муравьёв. Они прошли $\frac{2}{5}$ расстояния от школы до леса за 2 часа, шагая со скоростью 3 км/ч, потом они устроили пятнадцатиминутный привал и прошли оставшееся расстояние с той же скоростью. Сколько времени заняла дорога в лес?



Домашнее задание



СПАСИБО ЗА РАБОТУ!

