

СВЕЯ

ИГРА

Версия 2.0

СВОЯ игра

Арифметика

10

20

30

40

50

**Периметр и
Площадь**

10

20

30

40

50

**Старые
вопросы**

10

20

30

40

50

Последовательность

10

20

30

40

50

Сюрприз

10

20

30

40

50

Арифметика

10

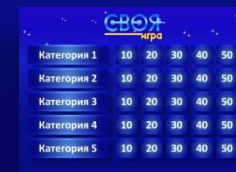
$$125 \cdot 3 + 375 \cdot 8 =$$

Отве

Арифметика

10

3375



| | | | | | |
|-------------|----|----|----|----|----|
| Категория 1 | 10 | 20 | 30 | 40 | 50 |
| Категория 2 | 10 | 20 | 30 | 40 | 50 |
| Категория 3 | 10 | 20 | 30 | 40 | 50 |
| Категория 4 | 10 | 20 | 30 | 40 | 50 |
| Категория 5 | 10 | 20 | 30 | 40 | 50 |

Арифметика

20

$$23 \cdot 99 + 72 \cdot 99 =$$

Отве

Арифметика

20

9405



СВОЯ
игра

| | | | | | |
|-------------|----|----|----|----|----|
| Категория 1 | 10 | 20 | 30 | 40 | 50 |
| Категория 2 | 10 | 20 | 30 | 40 | 50 |
| Категория 3 | 10 | 20 | 30 | 40 | 50 |
| Категория 4 | 10 | 20 | 30 | 40 | 50 |
| Категория 5 | 10 | 20 | 30 | 40 | 50 |

Арифметика

30

$$(86+34)+(62-51)-(93-69)=$$

Отве

Арифметика

30

107



СВОЯ игра

| | | | | | |
|-------------|----|----|----|----|----|
| Категория 1 | 10 | 20 | 30 | 40 | 50 |
| Категория 2 | 10 | 20 | 30 | 40 | 50 |
| Категория 3 | 10 | 20 | 30 | 40 | 50 |
| Категория 4 | 10 | 20 | 30 | 40 | 50 |
| Категория 5 | 10 | 20 | 30 | 40 | 50 |

КОТ В МЕШКЕ

40



Вопро

Арифметика

40

Какая страна находится на первом месте по количеству людей?

Отве

Арифметика

40

Китай



СВОЯ ИГРА

| | | | | | |
|-------------|----|----|----|----|----|
| Категория 1 | 10 | 20 | 30 | 40 | 50 |
| Категория 2 | 10 | 20 | 30 | 40 | 50 |
| Категория 3 | 10 | 20 | 30 | 40 | 50 |
| Категория 4 | 10 | 20 | 30 | 40 | 50 |
| Категория 5 | 10 | 20 | 30 | 40 | 50 |

Арифметика

50

$$(62+35)+((48-16):2+(64+38)\cdot 11)=$$

Отве

Арифметика

50

1219



СВОЯ
игра

| | | | | | |
|-------------|----|----|----|----|----|
| Категория 1 | 10 | 20 | 30 | 40 | 50 |
| Категория 2 | 10 | 20 | 30 | 40 | 50 |
| Категория 3 | 10 | 20 | 30 | 40 | 50 |
| Категория 4 | 10 | 20 | 30 | 40 | 50 |
| Категория 5 | 10 | 20 | 30 | 40 | 50 |

Периметр и Площадь

10

Найдите площадь квадрата, если ее периметр равен 24.


Егер шаршының периметрі 24-ке тең болса, оның ауданын табыңыз.

Отве

Периметр и Площадь

10

36



| | | | | | |
|-------------|----|----|----|----|----|
| Категория 1 | 10 | 20 | 30 | 40 | 50 |
| Категория 2 | 10 | 20 | 30 | 40 | 50 |
| Категория 3 | 10 | 20 | 30 | 40 | 50 |
| Категория 4 | 10 | 20 | 30 | 40 | 50 |
| Категория 5 | 10 | 20 | 30 | 40 | 50 |

Периметр и Площадь

Найдите периметр квадрата, если ее площадь равен 121.

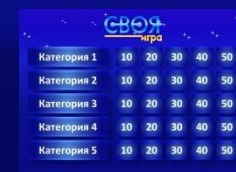
Егер шаршының ауданы 121-ге тең болса, оның периметрін табыңыз.

Отве

Периметр и Площадь

20

44



СВОЯ
игра

| | | | | | |
|-------------|----|----|----|----|----|
| Категория 1 | 10 | 20 | 30 | 40 | 50 |
| Категория 2 | 10 | 20 | 30 | 40 | 50 |
| Категория 3 | 10 | 20 | 30 | 40 | 50 |
| Категория 4 | 10 | 20 | 30 | 40 | 50 |
| Категория 5 | 10 | 20 | 30 | 40 | 50 |

КОТ В МЕШКЕ

30



Вопро

Периметр и Площадь

30

- Какой прием хочет сделать По?



Отве

Периметр и Площадь

Пальцевый захват «Уси»



| | | | | | |
|-------------|----|----|----|----|----|
| Категория 1 | 10 | 20 | 30 | 40 | 50 |
| Категория 2 | 10 | 20 | 30 | 40 | 50 |
| Категория 3 | 10 | 20 | 30 | 40 | 50 |
| Категория 4 | 10 | 20 | 30 | 40 | 50 |
| Категория 5 | 10 | 20 | 30 | 40 | 50 |

Периметр и Площадь

40

Найдите периметр прямоугольника, если площадь равна 21 см^2 и одна сторона больше другой на 4 см.

Егер тіктөртбұрыштың ауданы 21 см^2 -ге тең және бір қабырғасы екіншісінен 4 см-ге үлкен болса, оның периметрін табыңыз.

Отве

Периметр и Площадь

40

20



| | | | | | |
|-------------|----|----|----|----|----|
| Категория 1 | 10 | 20 | 30 | 40 | 50 |
| Категория 2 | 10 | 20 | 30 | 40 | 50 |
| Категория 3 | 10 | 20 | 30 | 40 | 50 |
| Категория 4 | 10 | 20 | 30 | 40 | 50 |
| Категория 5 | 10 | 20 | 30 | 40 | 50 |

Периметр и Площадь

50

Найдите площадь прямоугольника, если периметр равен 48 см и одна сторона больше другой на 6 см.

Егер тіктөртбұрыштың периметрі 48 см–ге тең және бір қабырғасы екіншісінен 6 см-ге үлкен болса, оның ауданын табыңыз.

Отве

Периметр и Площадь

50

- 135



СВОЯ
игра

| | | | | | |
|-------------|----|----|----|----|----|
| Категория 1 | 10 | 20 | 30 | 40 | 50 |
| Категория 2 | 10 | 20 | 30 | 40 | 50 |
| Категория 3 | 10 | 20 | 30 | 40 | 50 |
| Категория 4 | 10 | 20 | 30 | 40 | 50 |
| Категория 5 | 10 | 20 | 30 | 40 | 50 |

Старые вопросы

10

У Амины на 541 меньше монет чем у Самата. Сколько монет укаждого, если всего у них 975 монет?

Отве

Старые вопросы

10

217, 758



СВОЯ
ИГРА

| | | | | | |
|-------------|----|----|----|----|----|
| Категория 1 | 10 | 20 | 30 | 40 | 50 |
| Категория 2 | 10 | 20 | 30 | 40 | 50 |
| Категория 3 | 10 | 20 | 30 | 40 | 50 |
| Категория 4 | 10 | 20 | 30 | 40 | 50 |
| Категория 5 | 10 | 20 | 30 | 40 | 50 |

Старые вопросы

20

Футбольное поле квадратной формы имеет периметр 160 метров. На сколько увеличится его площадь, если длину каждой стороны увеличить на 10 метров?

Шаршы тәріздес футбол алаңының периметрі 160 метр. Егер әр қабырғасын 10 метрге ұлғайтсақ, оның ауданы неше шаршы метрге өседі?

Отве

Старые вопросы

20

900



| | | | | | |
|-------------|----|----|----|----|----|
| Категория 1 | 10 | 20 | 30 | 40 | 50 |
| Категория 2 | 10 | 20 | 30 | 40 | 50 |
| Категория 3 | 10 | 20 | 30 | 40 | 50 |
| Категория 4 | 10 | 20 | 30 | 40 | 50 |
| Категория 5 | 10 | 20 | 30 | 40 | 50 |

Старые вопросы

30

Найдите последнюю цифру

Соңғы цифрасын табыңыз

$$995 \cdot 687 \cdot 451 \cdot 823 - 772 \cdot 456 \cdot 988 \cdot 654$$

Отве

Старые вопросы

30

1

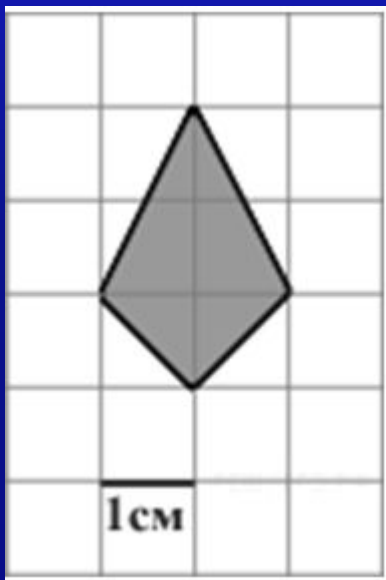


СВОЯ
ИГРА

| | | | | | |
|-------------|----|----|----|----|----|
| Категория 1 | 10 | 20 | 30 | 40 | 50 |
| Категория 2 | 10 | 20 | 30 | 40 | 50 |
| Категория 3 | 10 | 20 | 30 | 40 | 50 |
| Категория 4 | 10 | 20 | 30 | 40 | 50 |
| Категория 5 | 10 | 20 | 30 | 40 | 50 |

Старые вопросы

Найдите площадь фигуры
Фигураның ауданын табыңыз

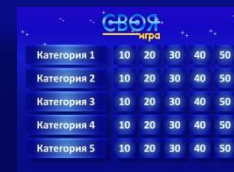


Отве

Старые вопросы

40

3



| | | | | | |
|-------------|----|----|----|----|----|
| Категория 1 | 10 | 20 | 30 | 40 | 50 |
| Категория 2 | 10 | 20 | 30 | 40 | 50 |
| Категория 3 | 10 | 20 | 30 | 40 | 50 |
| Категория 4 | 10 | 20 | 30 | 40 | 50 |
| Категория 5 | 10 | 20 | 30 | 40 | 50 |

КОТ В МЕШКЕ

50



Вопро

Старые вопросы

Сердитый грузчик в Brawl Stars, который кидает во врагов чемоданы. Его Супер сила призывает ему на помощь роботов-носильщиков

Отве

Старые вопросы

Мистер П.



| СВОЯ ИГРА | | | | | |
|-------------|----|----|----|----|----|
| Категория 1 | 10 | 20 | 30 | 40 | 50 |
| Категория 2 | 10 | 20 | 30 | 40 | 50 |
| Категория 3 | 10 | 20 | 30 | 40 | 50 |
| Категория 4 | 10 | 20 | 30 | 40 | 50 |
| Категория 5 | 10 | 20 | 30 | 40 | 50 |

КОТ В МЕШКЕ

10



Вопро

Последовательность

Из какого мультфильма
следующая картинка?



Отве

Последовательность Зверополис



СВОЯ
игра

| | | | | | |
|-------------|----|----|----|----|----|
| Категория 1 | 10 | 20 | 30 | 40 | 50 |
| Категория 2 | 10 | 20 | 30 | 40 | 50 |
| Категория 3 | 10 | 20 | 30 | 40 | 50 |
| Категория 4 | 10 | 20 | 30 | 40 | 50 |
| Категория 5 | 10 | 20 | 30 | 40 | 50 |

Последовательность

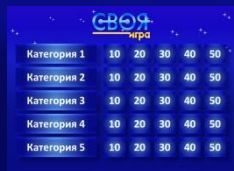
- Продолжи последовательность
(Следующие 3 числа)
- Логикалық тізбекті жалғастырыңыз
(келесі 3 сан):

23, 23 , 21, 25, 19, 27, ...

Отве

Последовательность

17, 29, 15



| | | | | | |
|-------------|----|----|----|----|----|
| Категория 1 | 10 | 20 | 30 | 40 | 50 |
| Категория 2 | 10 | 20 | 30 | 40 | 50 |
| Категория 3 | 10 | 20 | 30 | 40 | 50 |
| Категория 4 | 10 | 20 | 30 | 40 | 50 |
| Категория 5 | 10 | 20 | 30 | 40 | 50 |

Последовательность

Продолжите последовательность
(следующие 2 числа)/Логикалық тізбекті
жалғастырыңыз (келесі 2 сан)

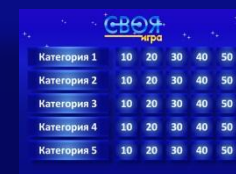
71, 62 , 53, 44, ...

Отве

Последовательность

30

35, 26



| | | | | | |
|-------------|----|----|----|----|----|
| Категория 1 | 10 | 20 | 30 | 40 | 50 |
| Категория 2 | 10 | 20 | 30 | 40 | 50 |
| Категория 3 | 10 | 20 | 30 | 40 | 50 |
| Категория 4 | 10 | 20 | 30 | 40 | 50 |
| Категория 5 | 10 | 20 | 30 | 40 | 50 |

Последовательность

- Продолжите последовательность (следующие 2 числа)
- Логикалық тізбекті жалғастырыңыз (келесі 2 сан)

1, 4, 9, 16, ...

Отве

Последовательность

40

25, 36



| | | | | | |
|-------------|----|----|----|----|----|
| Категория 1 | 10 | 20 | 30 | 40 | 50 |
| Категория 2 | 10 | 20 | 30 | 40 | 50 |
| Категория 3 | 10 | 20 | 30 | 40 | 50 |
| Категория 4 | 10 | 20 | 30 | 40 | 50 |
| Категория 5 | 10 | 20 | 30 | 40 | 50 |

Последовательность

- Продолжите последовательность

1, 1, 2, 3, 5, 8, ...

Отве

Последовательность

50

13



СВОЯ игра

| | | | | | |
|-------------|----|----|----|----|----|
| Категория 1 | 10 | 20 | 30 | 40 | 50 |
| Категория 2 | 10 | 20 | 30 | 40 | 50 |
| Категория 3 | 10 | 20 | 30 | 40 | 50 |
| Категория 4 | 10 | 20 | 30 | 40 | 50 |
| Категория 5 | 10 | 20 | 30 | 40 | 50 |

Сюрприз

10

Нурлан и Сакен пилят бревно.
Они сделали 10 распилов.
Сколько получилось чурбачков?

Отве

Сюрприз

10

11



СВОЯ
ИГРА

| | | | | | |
|-------------|----|----|----|----|----|
| Категория 1 | 10 | 20 | 30 | 40 | 50 |
| Категория 2 | 10 | 20 | 30 | 40 | 50 |
| Категория 3 | 10 | 20 | 30 | 40 | 50 |
| Категория 4 | 10 | 20 | 30 | 40 | 50 |
| Категория 5 | 10 | 20 | 30 | 40 | 50 |

КОТ В МЕШКЕ

20



Вопро

Сюрприз

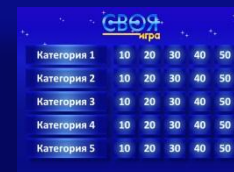
Какого цвета был «гнев» из мультфильма «Головоломка»

Отве

Сюрприз

20

красный



СВОЯ ИГРА

| | | | | | |
|-------------|----|----|----|----|----|
| Категория 1 | 10 | 20 | 30 | 40 | 50 |
| Категория 2 | 10 | 20 | 30 | 40 | 50 |
| Категория 3 | 10 | 20 | 30 | 40 | 50 |
| Категория 4 | 10 | 20 | 30 | 40 | 50 |
| Категория 5 | 10 | 20 | 30 | 40 | 50 |

Сюрприз

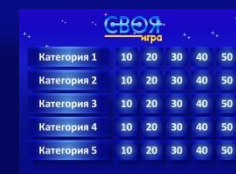
Сейчас 12 часов 42 минуты. Куда будет показывать минутная стрелка через 100 минут?

Отве

Сюрприз

30

14 часов 22 минуты



СВОЯ ИГРА

| | | | | | |
|-------------|----|----|----|----|----|
| Категория 1 | 10 | 20 | 30 | 40 | 50 |
| Категория 2 | 10 | 20 | 30 | 40 | 50 |
| Категория 3 | 10 | 20 | 30 | 40 | 50 |
| Категория 4 | 10 | 20 | 30 | 40 | 50 |
| Категория 5 | 10 | 20 | 30 | 40 | 50 |

Сюрприз

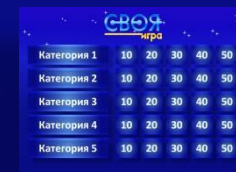
- Юра разрезал огромную пиццу на 10 кусков. Затем он взял один из кусков и разрезал его еще раз на 10 кусков. После этого из имеющихся кусков он выбрал два и разрезал каждый из них на 10 кусков. Сколько в результате кусков пиццы у него получилось?

Отве

Страшно

40

37



СВОЯ
игра

| | | | | | |
|-------------|----|----|----|----|----|
| Категория 1 | 10 | 20 | 30 | 40 | 50 |
| Категория 2 | 10 | 20 | 30 | 40 | 50 |
| Категория 3 | 10 | 20 | 30 | 40 | 50 |
| Категория 4 | 10 | 20 | 30 | 40 | 50 |
| Категория 5 | 10 | 20 | 30 | 40 | 50 |

Сюрприз

Гусеница ползет по стволу яблони. За первый час поднялась на 10 см., за второй – опустилась на 4 см., за третий – вновь поднялась и т. д. На сколько см. поднимется гусеница за 11 часов?

Отве

Сюрприз

50

40



СВОЯ ИГРА

| | | | | | |
|-------------|----|----|----|----|----|
| Категория 1 | 10 | 20 | 30 | 40 | 50 |
| Категория 2 | 10 | 20 | 30 | 40 | 50 |
| Категория 3 | 10 | 20 | 30 | 40 | 50 |
| Категория 4 | 10 | 20 | 30 | 40 | 50 |
| Категория 5 | 10 | 20 | 30 | 40 | 50 |

Использованные источники

Аудиоряды заимствованы с сайта
GetTune.net по запросу «Своя игра»

[Звезда](#)

[Фон](#)

[Кот в мешке](#)

[Идея игры](#)

Автор шаблона игры Салиш С.С.

2014 год