

Сьогодні
10.10.2022

Урок
№23

Всім.pptx
Нова українська школа



**Складання нерівностей і
рівностей за малюнками і
схемами. Вимірювання
відрізків.**



Усі сідайте тихо, діти.
Домовляймося — не шуміти,
Руку гарно підіймати,
На уроці не дрімати,
А знання мерщій хапати
—
Щоб не було нам мороки.
Всі готові до уроку?
Тож, гаразд Часу не

СЬОГОДН
10.10.2022


За малюнками поясни склад числа 5.



$$4+1=5$$

СЬОГОДН
10.10.2022

За малюнками поясни склад числа 5.



$$3+2=5$$

Сьогодні
10.10.2022

За малюнками поясни склад числа 5.



$$1+1+1+1+1=5$$

Сьогодні
10.10.2022

Порівняй число колосків жита і пшениці. На скільки чого більше, менше? Склади нерівності.



$$5 > 4$$

Сьогодні
10.10.2022

Порівняй число горіхів ліщини та волоських.. На скільки чого більше, менше? Склади нерівності.



$$5 > 2$$

Сьогодні
10.10.2022

Назви числа у клітинках, що відповідають кількості предметів.
Про число яких страв склали нерівності: $5 > 3$, $3 > 2$, $2 < 5$? Склади свої нерівності.


3



3



2

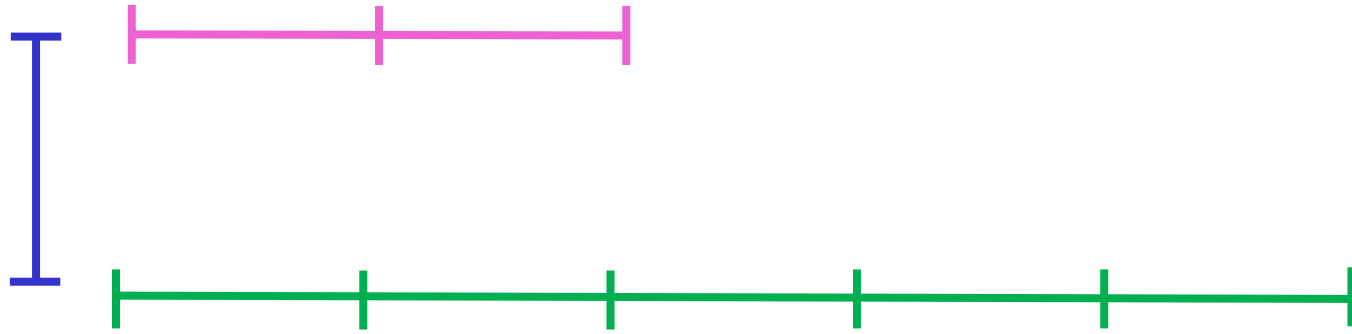


1

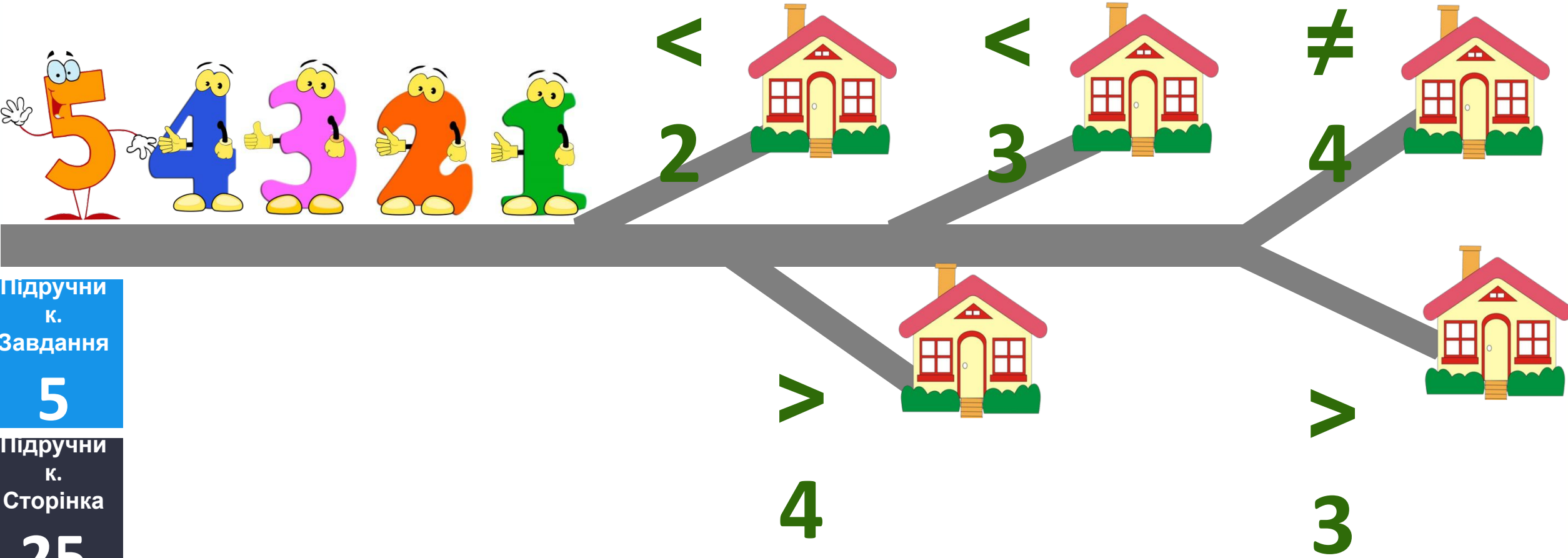


Сьогодні
10.10.2022

Виміряй довжину відрізків і порівняй. Скільки відрізків по 2 см поміститься у відрізьку 5 см? Виміряй і порівняй довжину колосків на малюнку.



Де чий будинок?



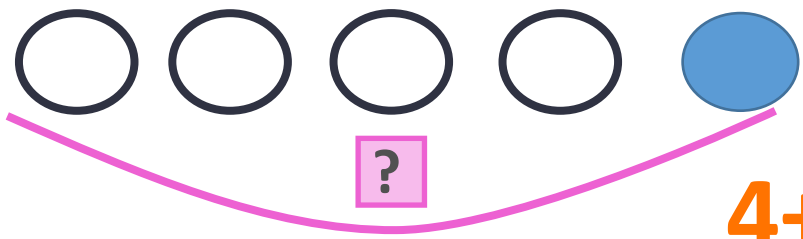



СЬОГОДН
10.10.2022

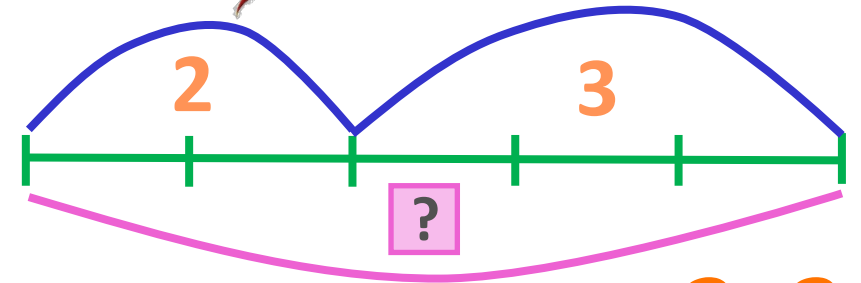
Складіть рівність за малюнком листочків за схемою. Порівняйте кількість листочків і квітів.



$$5=5$$





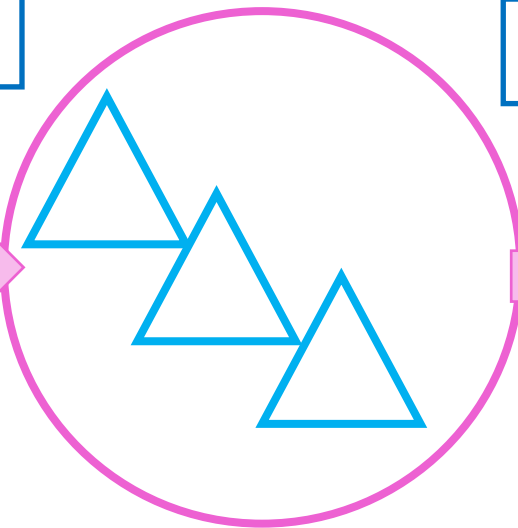
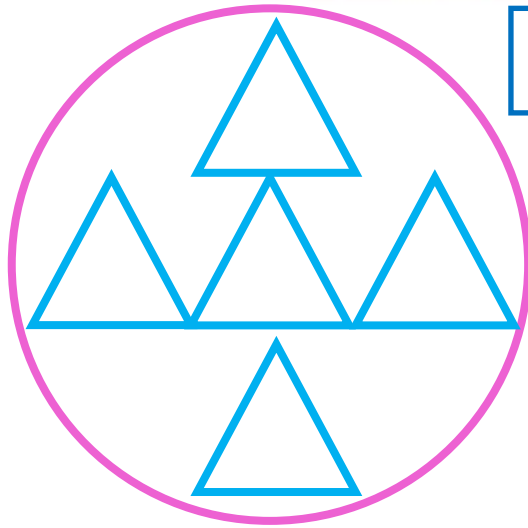
$$4+1=5$$




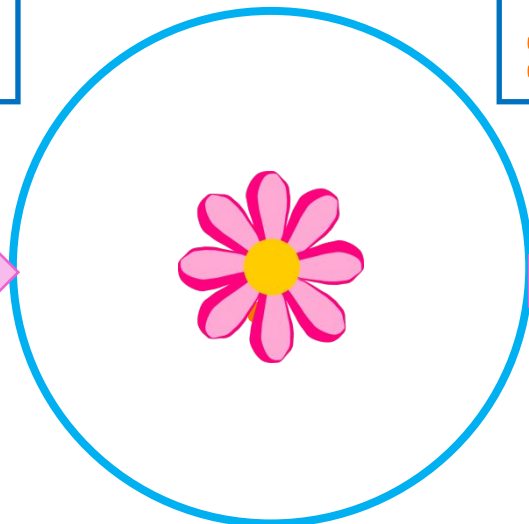
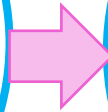

$$2+3=5$$

Сьогодні
10.10.2022

Познач знак «+» або «-» і «=» над стрілками. Намалюй, скільки трикутників залишилося. Поясни, як із 3 квіток стало 4. Запиши рівності.



$$5-3=2$$



$$3+1=4$$

СЬОГОДН
10.10.2022

Фізкультхвилинка



Сьогодні
10.10.2022

Домалюй чи закресли стільки ягід, щоб їх кількість відповідала числу.

A green branch with four red berries. Each berry has a small black arrow pointing outwards. Below the branch is a green square containing the number 4.

A green branch with seven red berries. Each berry has a small black arrow pointing outwards. Below the branch is a green square containing the number 7.

A green branch with eight red berries. Two berries at the top right are crossed out with thick blue diagonal lines. Each berry has a small black arrow pointing outwards. Below the branch is a green square containing the number 6.



$$3+1=4$$

$$4-2=2$$


$$4+1=5$$

$$2+3=5$$



Сьогодні
10.10.2022

Робота з LEGO. Склади вежу як на малюнку



Сьогодні
10.10.2022

Рефлексія. Оберіть відповідну цеглинку лего.



*На уроці мені
дуже сподобалось.*



*На уроці мені
сподобалось.*



*На уроці мені
не сподобалось.*

Сьогодні
10.10.2022

Рефлексія. Створимо пірамідку нашого настрою.

