

МБОУ «Средняя общеобразовательная школа
№ 6»

УМК «Начальная школа 21 века»

Урок в 1 классе № 29

Тема: «РЕШАЕМ ЗАДАЧИ»

Автор презентации:

Т. И. Туран,

учитель начальных классов

г. Новокузнецк, 2016



Задачи в стихах






В хоре семь кузнечиков
Песни распевали.

Вскоре пять кузнечиков
Голос потеряли.

Сосчитай без лишних слов,
Сколько в хоре голосов?



Задачи в стихах



Задачи в стихах




В сад я к бабушке пошел
И копеечку нашел.

Что купил я? Шапку, кепку,
А в придачу тряпку, щепку,
Ложку, плошку, гайку, лейку –
Все купил я за копейку.

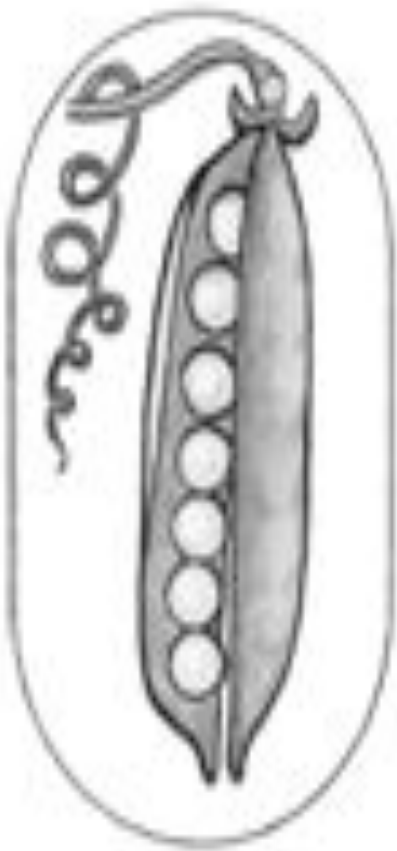
– Сколько всего вещей купил мальчик?



Задачи в стихах




Посчитайте и покажите карточку с числом



Работа по учебнику № 1

- 1 2
- На одном кусте 5 ягод, на другом — 4 ягоды.
Сколько ягод на двух кустах?
Как решить задачу?




$$\square + \square = \square$$



Работа по учебнику № 1

- 1 2
- На одном кусте 5 ягод, на другом — 4 ягоды.
Сколько ягод на двух кустах?
Как решить задачу?

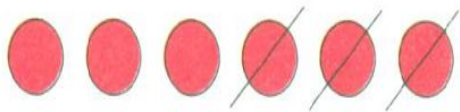


$$\boxed{5} + \boxed{4} = \boxed{9}$$



Работа по учебнику № 2

1 2 На кусте было 6 ягод. Созрели 3 ягоды.
Сколько ягод ещё не созрели?
Как решить задачу?

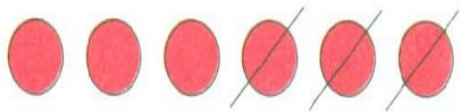


$$\square - \square = \square$$



Работа по учебнику № 2

- 1 2
- На кусте было 6 ягод. Созрели 3 ягоды.
Сколько ягод ещё не созрели?
Как решить задачу?



$$\boxed{6} - \boxed{3} = \boxed{3}$$



Работа по учебнику № 3

Подбери решение к задаче.

Катя нарисовала 8 цветов.
Из них 1 мак, а остальные —
розы. Сколько роз нарисовала
Катя?

$$8 + 1 = 9$$

Даша нарисовала 8 роз и 1 мак.
Сколько цветов нарисовала Даша?

$$8 - 1 = 7$$

Работа по учебнику № 3

Подбери решение к задаче.

Катя нарисовала 8 цветов.
Из них 1 мак, а остальные —
розы. Сколько роз нарисовала
Катя?

$$8 + 1 = 9$$

Даша нарисовала 8 роз и 1 мак.
Сколько цветов нарисовала Даша?

$$8 - 1 = 7$$

Работа по учебнику № 3

Подбери решение к задаче.

Катя нарисовала 8 цветов.
Из них 1 мак, а остальные —
розы. Сколько роз нарисовала
Катя?

Даша нарисовала 8 роз и 1 мак.
Сколько цветов нарисовала Даша?

$$8 + 1 = 9$$

$$8 - 1 = 7$$



ФИЗМИНУТКА

**Качу, лечу
Во весь опор.**

(Выполняют ходьбу на месте.)

Я сам - шофер

(Имитируют управление автомобильным рулем.)

И сам - мотор.

(Круговые движения плечами вперед-назад.)

Нажимаю на педаль,

(Имитируют нажимание на педаль.)

И машина мчится вдаль!

(Бег на месте.)



Работа по учебнику № 4

4.

Сколько пирожных? Сколько конфет?



На сколько меньше пирожных, чем конфет?

На сколько больше пирожных, чем конфет?

На какой из этих вопросов нельзя ответить?

Объясни.



Работа по учебнику № 5

Прочитай запись и назови результат.

2



5

4

3

2

4

+

1

=



1

2

3

4

8

-

5

=

Составь записи с другими данными числами.

Работа по учебнику № 5

Прочитай запись и назови результат.

2



5

4

3

2

$$4 + 1 = 5$$



1

2

3

4

$$8 - 5 = \square$$

Составь записи с другими данными числами.

Работа по учебнику № 5

Прочитай запись и назови результат.

2



5

4

3

2

$$4 + 2 = 6$$



1

2

3

4

$$8 - 5 = \square$$

Составь записи с другими данными числами.

Работа по учебнику № 5

Прочитай запись и назови результат.

2



$$4 + 3 = 7$$



$$8 - 5 = \square$$

Составь записи с другими данными числами.

Работа по учебнику № 5

Прочитай запись и назови результат.

2



5

4

3

2

$$4 + 4 = 8$$



1

2

3

4

$$8 - 5 = \square$$

Составь записи с другими данными числами.

Работа по учебнику № 5

Прочитай запись и назови результат.

2



$$4 + 5 = 9$$



$$8 - 5 = \square$$

Составь записи с другими данными числами.

Работа по учебнику № 5

Прочитай запись и назови результат.

2



$$4 + 5 = 9$$



$$8 - 5 = 3$$

Составь записи с другими данными числами.

Работа по учебнику № 5

Прочитай запись и назови результат.

2



5

4

3

2

$$4 + 5 = 9$$



1

2

3

4

$$8 - 4 = 4$$

Составь записи с другими данными числами.

Работа по учебнику № 5

Прочитай запись и назови результат.

2



5

4

3

2

$$4 + 5 = 9$$



1

2

3

4

$$8 - 3 = 5$$

Составь записи с другими данными числами.

Работа по учебнику № 5

Прочитай запись и назови результат.

2



5

4

3

2

$$4 + 5 = 9$$



1

2

3

4

$$8 - 2 = 6$$

Составь записи с другими данными числами.

Работа по учебнику № 5

Прочитай запись и назови результат.

2



5

4

3

2

$$4 + 5 = 9$$



1

2

3


4

$$8 - 1 = 7$$

Составь записи с другими данными числами.

Работа по учебнику № 6

Найди расстояние между точками одного цвета.



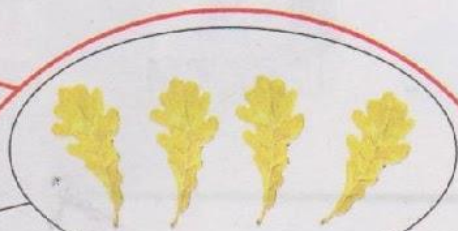
Расстояние между синими точками 6 см.

Работа по тетради № 1

Придумай условие. Ответь на вопрос.

Сколько всего листьев?

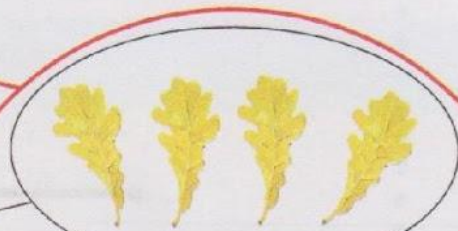
?



			=	
--	--	--	---	--

Сколько зелёных листьев?

6



?

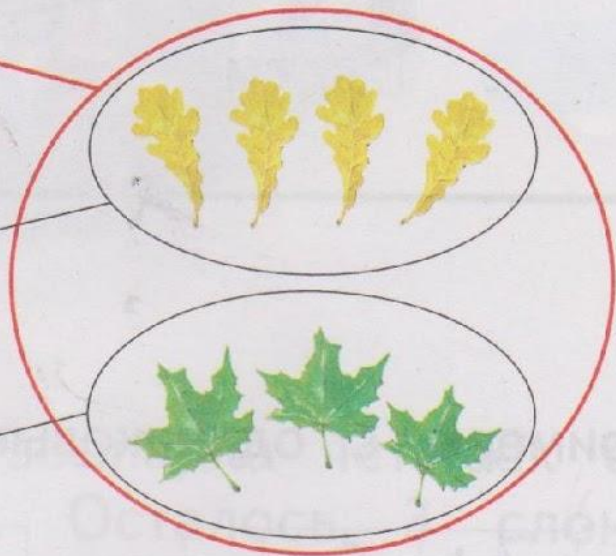
			=	
--	--	--	---	--

Работа по тетради № 1

Придумай условие. Ответь на вопрос.

Сколько всего листьев?

?



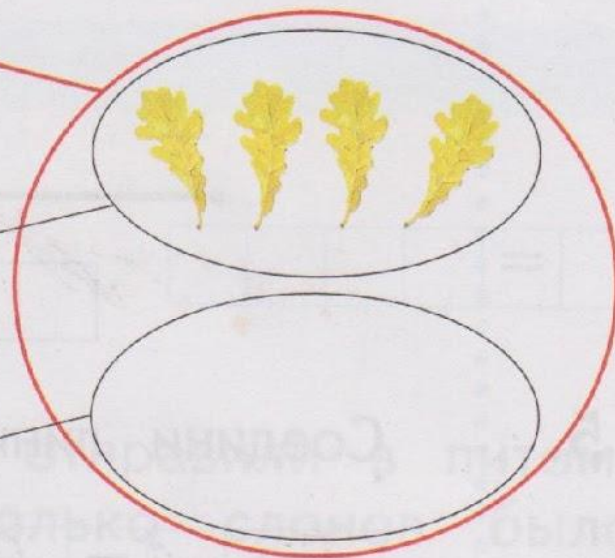
4

3

			=	
--	--	--	---	--

Сколько зелёных листьев?

6



?

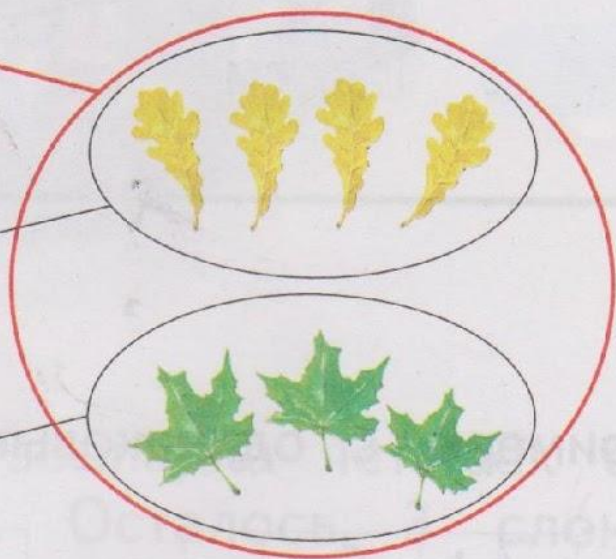
			=	
--	--	--	---	--

Работа по тетради № 1

Придумай условие. Ответь на вопрос.

Сколько всего листьев?

?



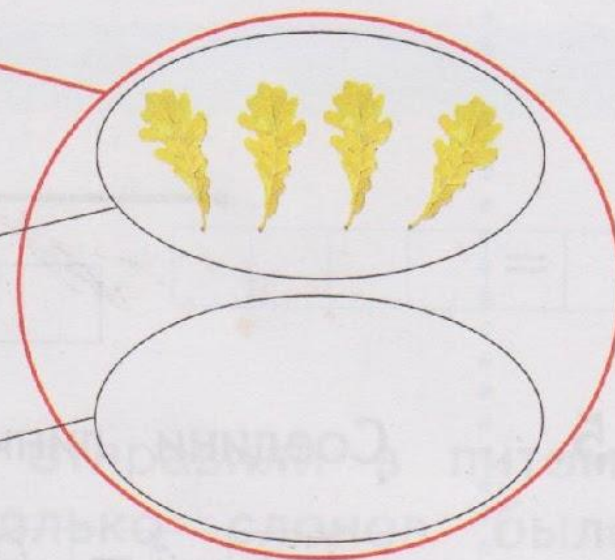
4

3

$$4 + 3 = 7$$

Сколько зелёных листьев?

6



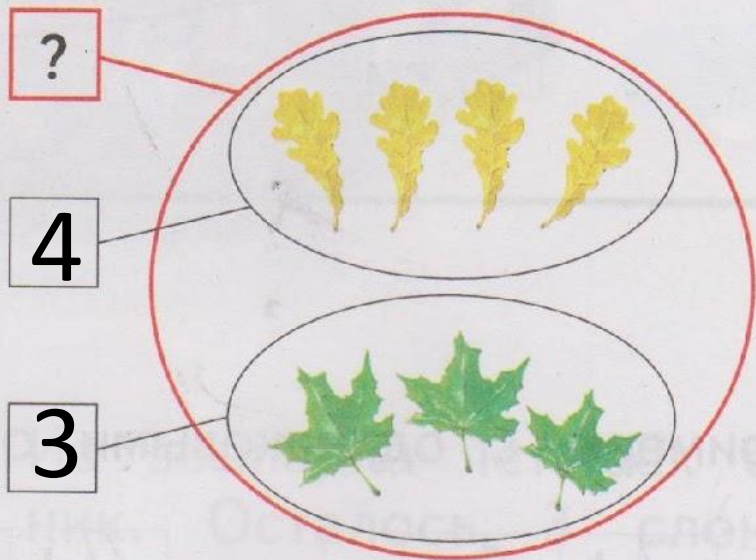
?

$$\square + \square = \square$$

Работа по тетради № 1

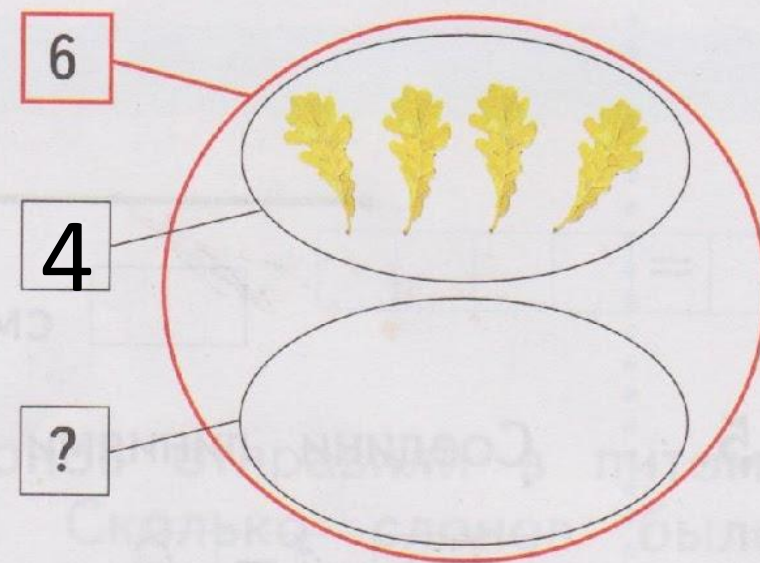
Придумай условие. Ответь на вопрос.

Сколько всего листьев?



$$4 + 3 = 7$$

Сколько зелёных листьев?

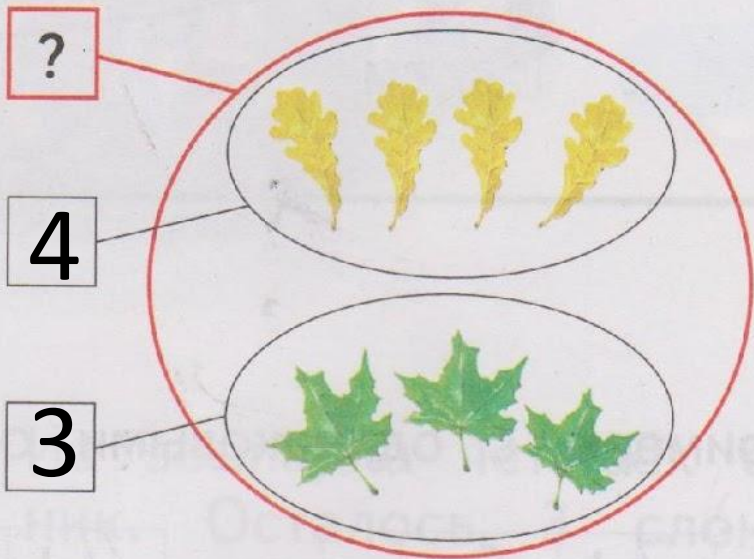


			=	
--	--	--	---	--

Работа по тетради № 1

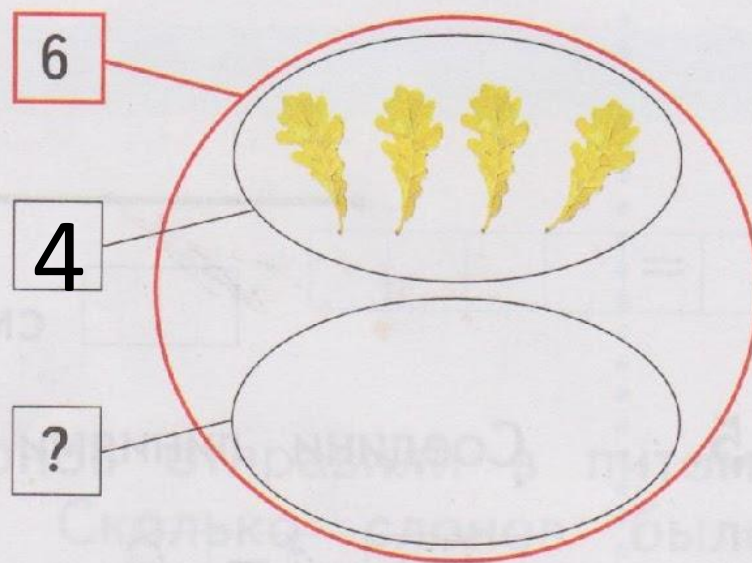
Придумай условие. Ответь на вопрос.

Сколько всего листьев?



$$4 + 3 = 7$$

Сколько зелёных листьев?



$$6 - 4 = 2$$

Работа по тетради № 2

Выбери карточку с задачей. Реши задачу.

Посадили 7 яблонь и 2 груши.
Сколько деревьев посадили?

Посадили 9 деревьев.
Из них 7 яблонь и 2 груши.

			=	
--	--	--	---	--

Работа по тетради № 2

Выбери карточку с задачей. Реши задачу.





Посадили 7 яблонь и 2 груши.
Сколько деревьев посадили?

Посадили 9 деревьев.
Из них 7 яблонь и 2 груши.

$$7 + 2 = 9$$

Работа по тетради № 3









3. Сколько рублей сто́ит каждый букет?

	1 р.	<input type="text" value="4"/>	<input type="text" value="1"/>	<input type="text"/>	<input type="text"/>	<input type="text"/>	<input type="text"/>	<input type="text"/>	<input type="text"/>	<input type="text"/>	<input type="text"/>
	2 р.	<input type="text" value="3"/>	<input type="text"/>	<input type="text"/>	<input type="text"/>	<input type="text"/>	<input type="text"/>	<input type="text"/>	<input type="text"/>	<input type="text"/>	<input type="text"/>
	3 р.	<input type="text" value="8"/>	<input type="text"/>	<input type="text"/>	<input type="text"/>	<input type="text"/>	<input type="text"/>	<input type="text"/>	<input type="text"/>	<input type="text"/>	<input type="text"/>
	4 р.	<input type="text"/>	<input type="text"/>	<input type="text"/>	<input type="text"/>	<input type="text"/>	<input type="text"/>	<input type="text"/>	<input type="text"/>	<input type="text"/>	<input type="text"/>

Отметь знаком самый дорогой букет.

Работа по тетради № 3









3. Сколько рублей сто́ит каждый букет?

	1 р.				
	2 р.				
	3 р.				
	4 р.				

Отметь знаком самый дорогой букет.

Работа по тетради № 3









3. Сколько рублей сто́ит каждый букет?

	1 р.		<input type="text" value="4"/>	<input type="text" value="1"/>	<input type="text" value="3"/>		<input type="text" value="4"/>	<input type="text" value="1"/>	<input type="text" value="2"/>	<input type="text"/>	<input type="text"/>	<input type="text"/>	<input type="text"/>	<input type="text"/>	<input type="text"/>
	2 р.		<input type="text"/>	<input type="text"/>	<input type="text"/>		<input type="text"/>	<input type="text"/>	<input type="text"/>	<input type="text"/>	<input type="text"/>	<input type="text"/>	<input type="text"/>	<input type="text"/>	<input type="text"/>
	3 р.	<input type="text" value="8"/>	<input type="radio"/>	<input type="text" value="7"/>	<input type="radio"/>	<input type="text"/>	<input type="radio"/>	<input type="text"/>	<input type="radio"/>	<input type="text"/>	<input type="radio"/>	<input type="text"/>	<input type="radio"/>	<input type="text"/>	<input type="radio"/>
	4 р.	<input type="text"/>	<input type="radio"/>	<input type="text"/>	<input type="radio"/>	<input type="text"/>	<input type="radio"/>	<input type="text"/>	<input type="radio"/>	<input type="text"/>	<input type="radio"/>	<input type="text"/>	<input type="radio"/>	<input type="text"/>	<input type="radio"/>

Отметь знаком самый дорогой букет.

Работа по тетради № 3









3. Сколько рублей сто́ит каждый букет?

	1 р.				
	2 р.				
	3 р.				
	4 р.				

Отметь знаком самый дорогой букет.

Работа по тетради № 3









3. Сколько рублей сто́ит каждый букет?

	1 р.				
	2 р.				
	3 р.				
	4 р.				

Отметь знаком самый дорогой букет.

Работа по тетради № 3









3. Сколько рублей сто́ит каждый букет?

	1 р.				
	2 р.				
	3 р.				
	4 р.				

Отметь знаком самый дорогой букет.

Работа по тетради № 3

3. Сколько рублей сто́ит каждый букет?

	1 р.				
	2 р.				
	3 р.				
	4 р.				









Price labels for bouquets: 4, 1, 3, 4, 1, 2, 2, 3, 2, 4, 1, 4

Answer circles: 8 ○, 7 ○, 7 ○, 9 ○

Отметь знаком ✓ самый дорогой букет.

Работа по тетради № 3

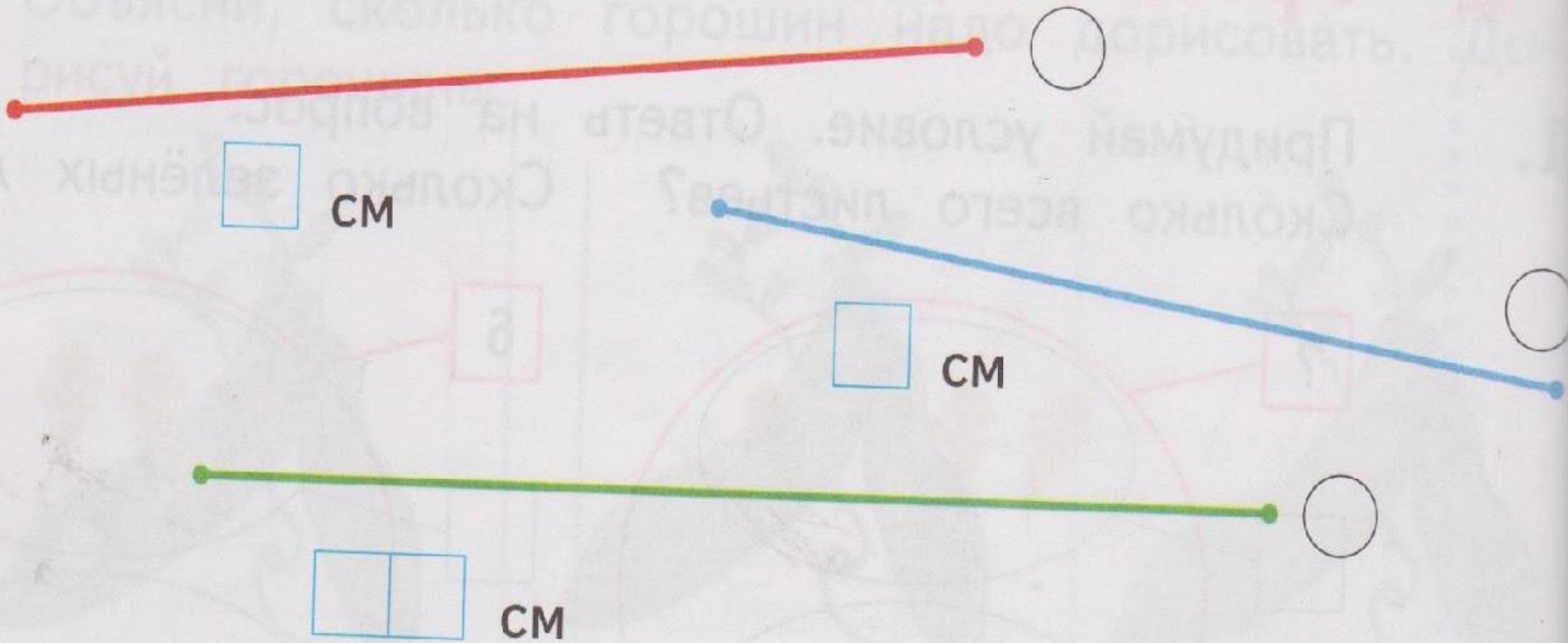
3. Сколько рублей сто́ит каждый букет?

	1 р.				
	2 р.				
	3 р.				
	4 р.				

Отметь знаком самый дорогой букет.

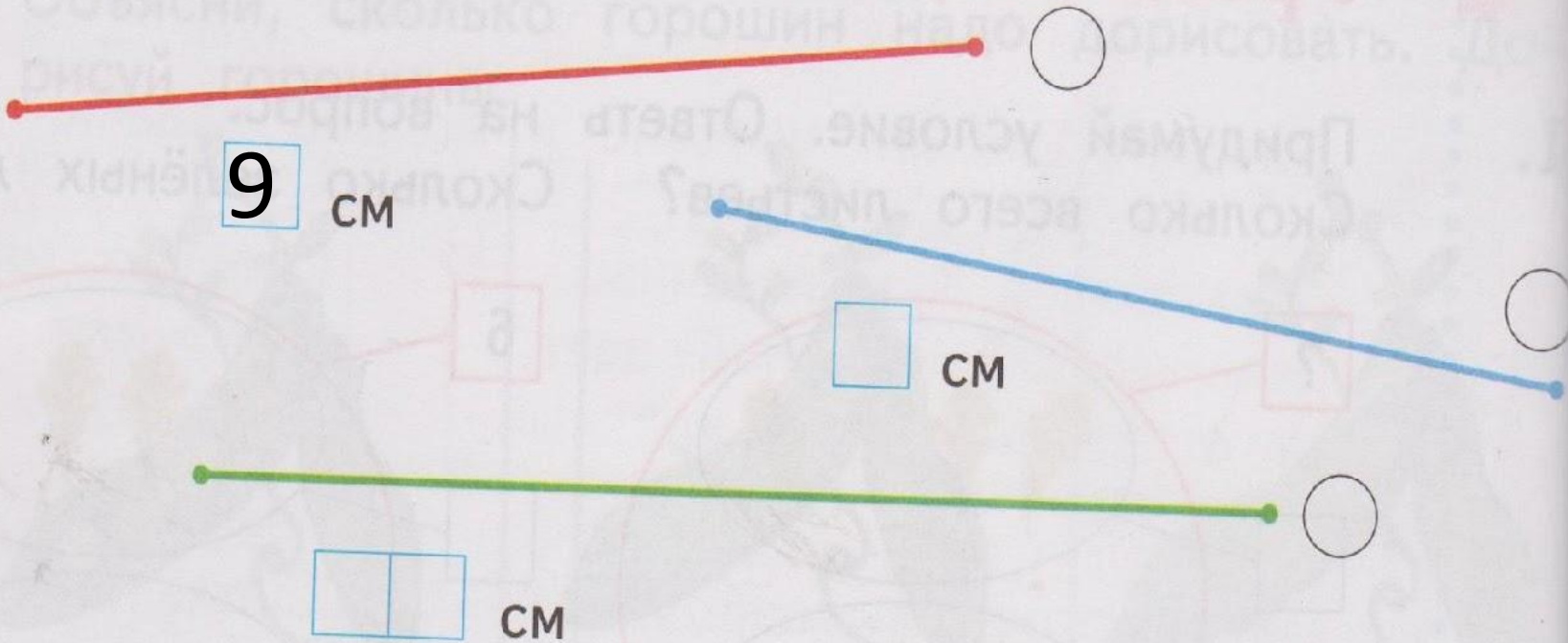
Работа по тетради № 4

Отметь знаком самый короткий отрезок.



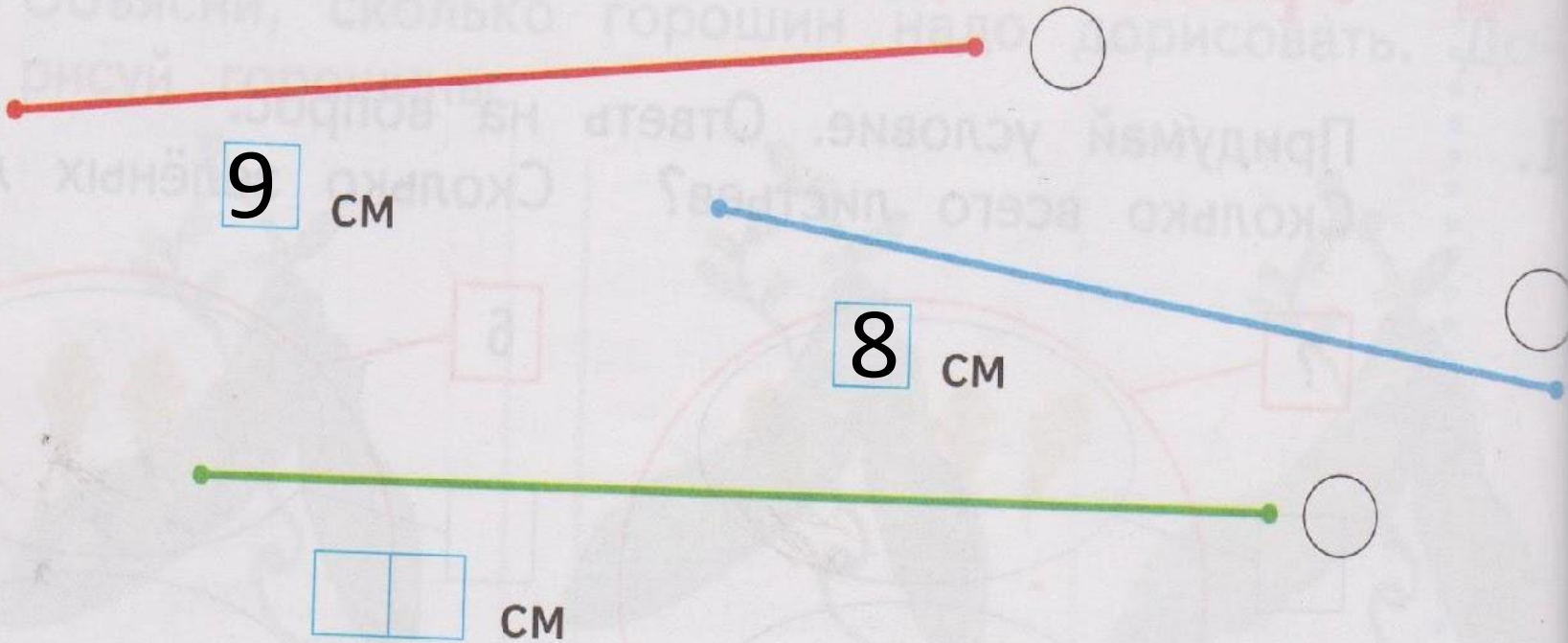
Работа по тетради № 4

Отметь знаком самый короткий отрезок.



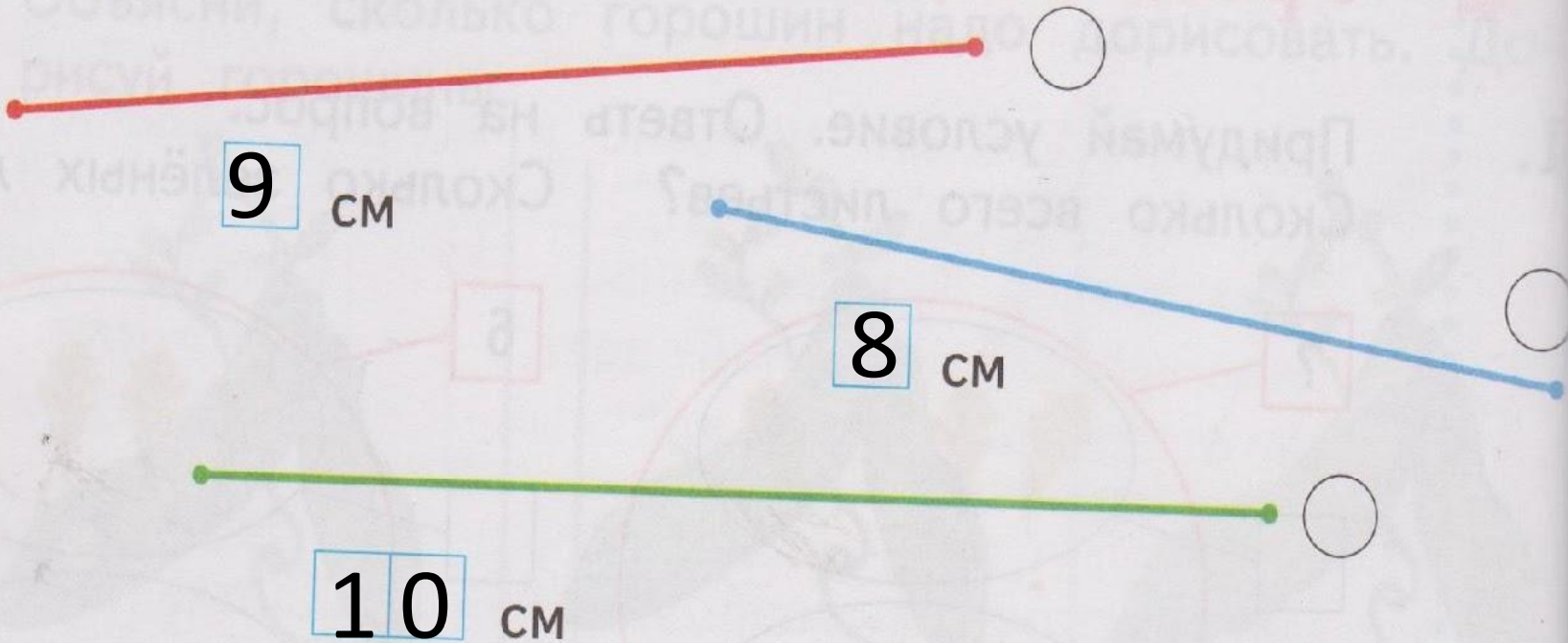
Работа по тетради № 4

Отметь знаком самый короткий отрезок.



Работа по тетради № 4

Отметь знаком самый короткий отрезок.



Работа по тетради № 4


Отметь знаком самый короткий отрезок.



9 см



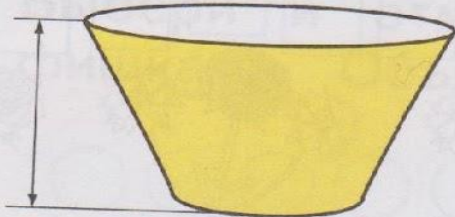
8 см



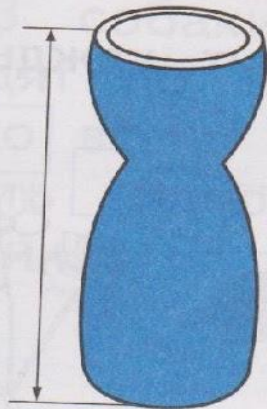
10 см

Работа по тетради № 6

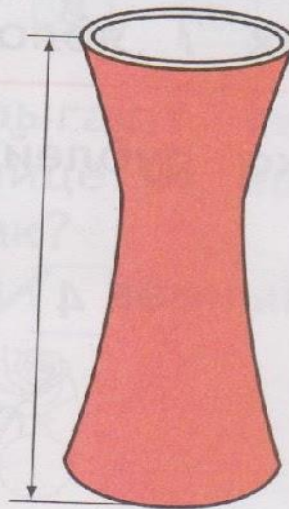
Измерь высоту каждой вазы.



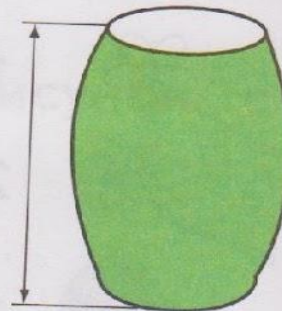
2 CM




4 CM



5 CM



3 CM



Игра «Продолжай»



Учащиеся должны закончить начатое учителем предложение, например: «Утром я пошел в школу, а вернулся домой.... Я редко хожу в кино, а старший брат... Мы завтракаем утром, а ужинаем... Солнышко светит днем, а луна... После зимы наступает весна, а после весны... Раньше наступает осень, а зима...».

- Когда наступает Новый год?
- Какое время года наступает после зимы?
- После весны какое время года наступает?
- В какое время года начинаются занятия в школе?
- Что бывает раньше: зима или весна?
- Какое время года наступает позже: лето или осень?





Итог урока

- Что нового узнали на уроке?
- Назовите элементы задач.

