

ТЕСТ НА IQ

ПОДГОТОВИЛА ТУСНИНА ЕКАТЕРИНА



- **ТЕСТ НА IQ СОСТОИТ ИЗ 20 ВОПРОСОВ С КАРТИНКАМИ.**
- **ВОПРОСЫ РАСПРЕДЕЛЕНЫ ПО УРОВНЮ СЛОЖНОСТИ.**
- **НЕПРАВИЛЬНО ДАННЫЕ ОТВЕТЫ НЕ УМЕНЬШАЮТ КОЛИЧЕСТВО УЖЕ НАБРАННЫХ ОЧКОВ.**
- **НА ВСЕ ВОПРОСЫ СУЩЕСТВУЕТ ТОЛЬКО ОДИН ПРАВИЛЬНЫЙ ОТВЕТ.**

**1, 3, 5, 7, 8, 9, 11 - КОТОРОЕ ЧИСЛО
ЛИШНЕЕ В ЭТОМ РЯДУ?**



**КОТОРОЕ ИЗ НИЖЕПЕРЕЧИСЛЕННЫХ 5-ТИ
ЖИВОТНЫХ НАИМЕНЕЕ ПОХОЖЕ НА ОСТАЛЬНЫЕ
ЧЕТЫРЕ?**

**СОБАКА
МЫШЬ
ЛЕВ
ЗМЕЯ
СЛОН
Я НЕ ЗНАЮ**

**29, 27, 24, 20, 15... ПРОДОЛЖИТЕ
ЧИСЛОВОЙ РЯД.**

**КАКОЕ ЧИСЛО СООТНОСИТСЯ С 46251, КАК
"ПЕРСИК" СООТНОСИТСЯ С "КИСРЕП"?**

**2, 10, 12, 60, 62, 310... ПРОДОЛЖИТЕ
ЧИСЛОВОЙ РЯД.**



A

B

C




D

**ЕСЛИ ВСЕ МАЛЬЧИКИ КЛАССА ИГРАЮТ В ФУТБОЛ,
А ВСЕ ИГРАЮЩИЕ В ФУТБОЛ МАЛЬЧИКИ КЛАССА
ИГРАЮТ И В БАСКЕТБОЛ, ТО ВЕРНО ЛИ
УТВЕРЖДЕНИЕ, ЧТО ВСЕ МАЛЬЧИКИ КЛАССА
ИГРАЮТ В БАСКЕТБОЛ?**

**2,4,8,16,32,64... ПРОДОЛЖИТЕ
ЧИСЛОВОЙ РЯД.**

**ШЕСТНАДЦАТИЛЕТНЯЯ МЭРИ В ЧЕТЫРЕ
РАЗА СТАРШЕ СВОЕГО БРАТА. СКОЛЬКО
ЛЕТ БУДЕТ МЭРИ, КОГДА ОНА БУДЕТ В ДВА
РАЗА СТАРШЕ СВОЕГО БРАТА?**


1, 1, 2, 3, 4, 5, 8, 13, 21 - КОТОРОЕ ЧИСЛО ЛИШНЕЕ В ЭТОМ РЯДУ?



A

B


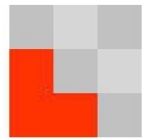
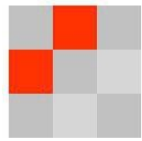
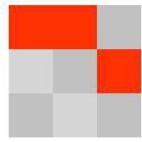
C



D

E


F




A




B




C



D



E



F

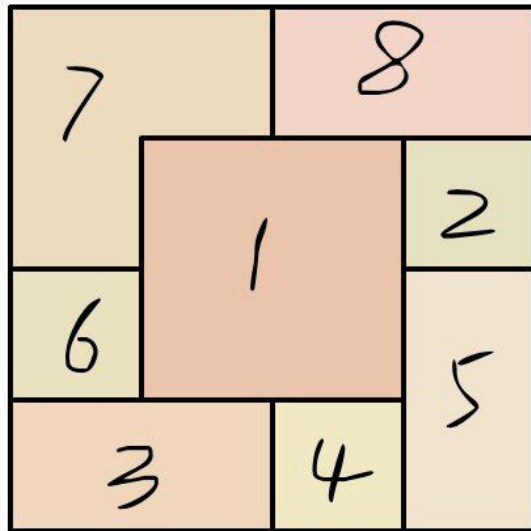
**Допрашиваются четверо
подозреваемых (А, В, С и D):**

- **А заявляет: С не давал ложных показаний, если В дал ложные показания.**
- **В заявляет: либо А, либо В дал ложные показания.**
- **С заявляет: В не давал ложных показаний, я дал ложные показания.**
- **Д заявляет: В дал ложные показания.**


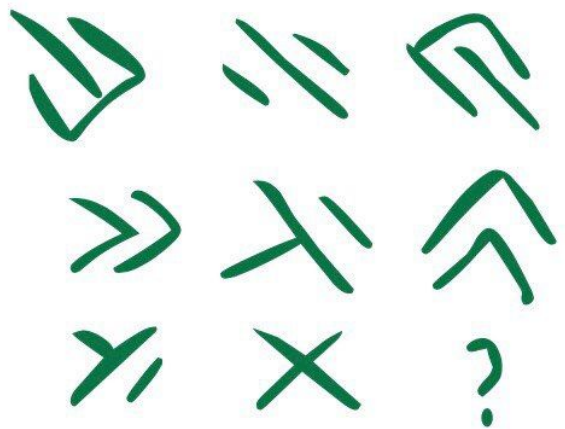
Лишь один из них лжёт.

Выберите правильный ответ:

Восемь листков бумаги одного и того же размера были положены друг на друга следующим образом. Который из них находится внизу?



Продолжите логический ряд



СПАСИБО ЗА ВНИМАНИЕ !!!

