

СВОЯ

Игра

МАТЕМАТИКА

1 КЛАСС

ЛОГИЧЕСКИЕ
ЗАДАЧИ

100

200

300

400

500

СЛОЖЕНИЕ,
ВЫЧИТАНИЕ

100

200

300

400

500

ЗАДАЧИ

100

200

300

400

500

ДЕСЯТКИ-
ЕДИНИЦЫ

100

200

300

400

500

ШУТКА!

100

200

300

400

500

100 баллов

Продолжи последовательность чисел на три числа.

12, 10, 8, ..., ..., ...
6, 4, 2

проверка



200 баллов

Петя задумал число.

Если к этому числу прибавить **1** и вычесть **2**, то получится **1**.

Какое число задумал Петя?

Число **2**.



проверка



300 баллов

Кого больше?

1) слонов или 2) зверей

3) людей или 4) женщин

5) девочек или 6) девочек с косичками

ОТВЕТ: 2), 3), 5)



400 баллов

В лесу ёлок больше, чем берёз.

Берёз больше, чем осин.

Чего в лесу больше
ёлок или осин?

Ёлок больше.

проверка



500 баллов

У трех девочек **10** карандашей. У Ани и Оли вместе **8** карандашей. У Оли и Кати вместе **5** карандашей. Сколько карандашей у каждой девочки?

ОТВЕТ: у Кати **2** карандаша

У Ани **5** карандашей

У Оли **3** карандаша.




100 баллов

РЕШИ ПРИМЕР

$$8 + 3 - 2 + 1$$

ОТВЕТ: **10**



200 баллов

РЕШИ ПРИМЕР

$$12 - 9 + 7 - 5$$

ОТВЕТ: **5**



300 баллов

РЕШИ ПРИМЕР

$$14 - 4 + 0 - 7 + 5$$

ОТВЕТ: **8**



400 баллов

У Оли и Кати есть монеты. Сколько всего денег у девочек?



У Оли



У Кати

ОТВЕТ: 20 рублей





500 баллов

- На дереве сидели **5** воробьев, **3** синицы и **2** белки. **2** воробья увидели кормушку с зернами и улетели. А за ними улетели и **2** синицы. Сколько птиц осталось на дереве?

ОТВЕТ: 3 воробья и 1 синица



100 баллов

У Светы было **5** роз, **3** тюльпана и **3** ромашки. Сколько цветов у Светы в букете?

ОТВЕТ: **11** цветов



300 баллов

Маше на день рождения купили торт и
разрезали его на **10** кусков. Гости съели **6**
кусков, и Маша один. Сколько кусков торта
осталось?

ОТВЕТ: 3 куска



400 баллов

Петя, Вася и Толя решили пускать бумажные кораблики. Для этого Петя сделал себе **2** корабля, Вася **3**, а Толя **4**, но один у него порвался. Сколько корабликов запустят мальчики?


ОТВЕТ: 8 корабликов




500 баллов

Веревку разрезали на две части. Длина одного куска **9** дм, а другого – **3** дм. Какой длины была веревка?

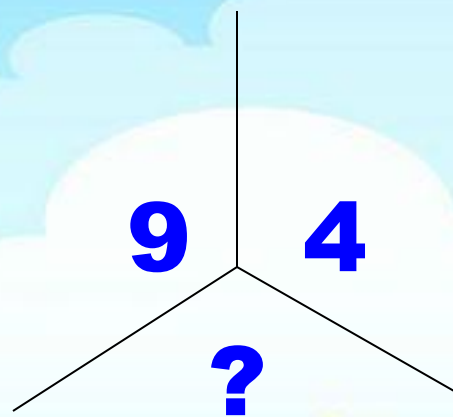
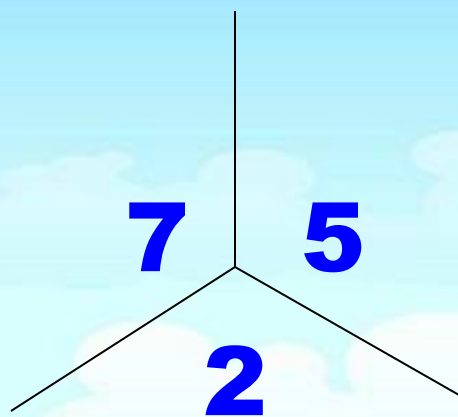
ОТВЕТ: 12 дм





КОТ В МЕШКЕ

НАЙДИ ЗАКОНОМЕРНОСТЬ
И ВСТАВЬ ЧИСЛО




ОТВЕТ: 5



100 баллов

Сколько десятков и единиц в числе **14**?


ОТВЕТ: 1 десяток и **4** единицы



300 баллов

У Коли и Вали по **1** десятку конфет.
Сколько всего конфет у каждого из ребят?


ОТВЕТ: 10



200 баллов

Какое число получится, если к **1** десятку и **5** единицам прибавить **3** единицы?

ОТВЕТ: 18



500 баллов

У Оли есть два десятка конфет. **1** десяток она обещала отдать Свете, **3** единицы конфет отдать Саше и **4** единицы конфет Славе. Сколько тогда единиц конфет останется у Оли?

ОТВЕТ: 3



400 баллов

Найди примеры с ответом **10**.

1) **7+2**


2) **16-6**

3) **5+4**

4) **13-10**

5) **7+3**

ОТВЕТ: 2), 5)



100 баллов

В воздухе летели орёл, голубь, муха и стрекоза. Сколько всего птиц летело в воздухе?

ОТВЕТ: 2 (орёл, голубь)



300 баллов

На березе **5** веток, на каждой из них еще по пять веток. На каждой ветке по пять яблок. Сколько яблок растет на дереве?


ОТВЕТ: ни одного, на березе яблоки не растут



200 баллов


Сколько человек тянули репку?

ОТВЕТ: 3 – дедка, бабка, внучка




400 баллов

Разгадай ребус



ОТВЕТ: число





КОТ В МЕШКЕ

Какие фигуры и каких цветов
пропущены?

