

# Олимпиада по географии

ФИО	
Курс	
Группа	
БАЛЛЫ	из 124

## Задание 1 (6 баллов)



Рассмотрите карту и два отрывка из записей путешественника. Заполните таблицу.

Имя путешественника	
Название города	
Название горы	
Горный массив	
Континент (страна)	
Век путешествия	

Заполняйте ответы разборчивым подчерком в специально отведенных местах. За каждый правильный ответ – 1 балл.

Раздел «баллы» заполняется организатором при подсчете. Максимально можно набрать 124 балла. Желаем Удачи!

- 1) Сам [город] — большой город, и, я думаю, одно из правильнее построенных городов в мире. Каждая улица идет под прямым углом к той, которую она пересекает, а параллельные улицы расположены через одинаковые промежутки, и дома образуют сплошные прямоугольные кварталы одинаковых размеров, так называемые Квадра ...
- 2) Эта неправильная коническая община поднимается выше [гора]; согласно измерениям, выполненным офицерами на «Бигль», высота ее не менее 23 000 футов. Вообще, [горный массив], осматриваются отсюда, большей частью своей красоты обязаны особенностям здешнего воздуха. Когда солнце заходило в Тихий океан, чудесно было наблюдать, как четко вырисовывались их строгие очертания и как разнообразны и нежные при этом были их оттенки.

## Задание 2 (4 балла)

Назовите географические приборы, вписав ответ в специальное окно

1) Прибор для записи колебаний земной поверхности во время землетрясений или при взрывах. Основные части — маятник и регистрирующее устройство.




2) Прибор для измерения контактным методом углов между какими-либо двумя плоскостями деталей машин и других изделий. Разделяются на нониусные и оптические.

3) Угломерный прибор, служивший до 18 в. для определения широт и долгот в астрономии, а также горизонтальных углов при землемерных работах.

4) Гидроакустический прибор для измерения глубин моря. Измеряя время между излучением звукового сигнала и приемом эха, определяют пройденный звуком путь, а по нему расстояние до дна.

## Задание 3 (8 баллов)

Расположите в порядке возрастания твердости (шкала Мооса) следующие минералы. Соотнесите фото минералов с названиями



Название	Твердость	№ фото
Тальк		
Алмаз		
Гипс		
Кварц		

#### Задание 4 (20 баллов)

Выберите из списка народы, которые до сих пор ведут кочевой (полукочевой) образ жизни, то есть значительную часть года постоянно перемещаются на значительные расстояния. Какие отрасли хозяйства требуют для каждого из этих народов существенных перемещений? Для оставшихся народов напишите отрасли, связывающие их с традиционным использованием местных земельных ресурсов территории. буряты, долганы, калмыки, селькупы, татары, эвенки

#### Задание 5 . Подпишите достопримечательности мира, указав страну (8 баллов)



## Задание 6 ( 14 баллов)

Рассмотрите картинки животных. Назовите их. Соотнесите характеристику животного и картинку.



1)



2)



3)



4)



5)



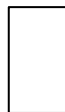
6)



7)



При токании, может оглохнуть, что делает его легкой добычей



Среди симптомов общего отравления: одышка, сердцебиение, учащение пульса, головокружение, головная боль, тремор, рвота, бледность или гиперемия лица, потливость, чувство тяжести в грудной или подложечной областях



Кукует только самец, сидя на возвышении какой-нибудь горизонтальной ветки, или в полете. Во время пения самец опускает крылья, приподнимая и распуская хвост. Существует информация, что самец в брачный период может прокуковать до 360 раз!




При падении из дупла высокого дерева, «детки» животного не разбиваются, приземляясь мягко на земляную подстилку, продолжая следовать за «мамой»



Животное, кости которого состоят из плотно прилегающих друг к другу пластин, считалось вымершим



8)



9)

**Задание 7 (10 баллов)**

Рассмотрите карту субъектов РФ, соотнесите цифру субъекта с названием, заполнив пропуски



	Калининградская область		Республика Калмыкия
	Ненецкий АО		Еврейская АО
	Чукотский АО		Мурманская область
	Республика Саха (Якутия)		Ямало-Ненецкий АО
	Республика Крым		Красноярский край

### Задание 8

#### Выберите верные утверждения

- 1) На южном полюсе холоднее, чем на северном
- 2) Берингов пролив открыл Витус Беринг
- 3) Карта имеет более крупный масштаб, чем топографический план
- 4) Азимут на восток означает 180 градусов
- 5) Самый большой остров в мире – это Сахалин
- 6) Самая высокая вершина мира называется Джомолунгма
- 7) На юге Евразия омывается Индийским океаном

### Задание 9 (10 баллов)

Подпишите полезные ископаемые


	руды
	руды
	руды
	руды
	
	руды
	руды
	
	
	

### Задание 10 (8 баллов)

Назовите страну по флагу, укажите форму правления










### Задание 11

Дайте характеристику географическим объектам: гора(-ы), пустыня, озеро, океан, воздушная масса, вулкан, река, город, остров, государство. Один пункт может содержать несколько характеристик.

Географический объект	Характеристика объекта
Атакама	
Мадагаскар	
Глория	
Земля Адели	
Сулавеси	
Кинерет	
Загреб	
Мачу-Пикчу	
Суринам	
Обь	
Печора	
Этна	

## Задание 12

Назовите достопримечательность. Из предложенных характеристик для неё выберите подходящие.

Город построен инками

Наследие ЮНЕСКО

Находится на вершине горного хребта

Находится во впадине плоскогорья

На территорию вторглись испанцы в 16 веке

На территорию вторглись португальцы в 17 веке

Древняя научная обсерватория



## Задание 13

Выберите из приведённых примеров те, которые относятся к показателям учитываемым в ВВП.

Стипендия студента, обучающегося на бюджетном отделении вуза

Плата иностранного студента за обучение в Великобритании

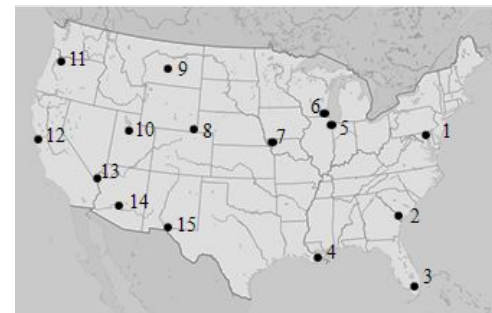
Подходный налог, уплаченный Лондонским таксистом из своей зарплаты

Расходы семьи на покупку квартиры в Лондоне

НДС, поступивший в государственный бюджет

## Задание 14

Соотнесите 8 пунктов характеристики к двум гордам США: Лас-Вегасу и Новому Орлеану. Укажите цифрами:  
г. Н. Орлеан № \_\_\_\_\_  
г. Лас-Вегас № \_\_\_\_\_



Население в 2010  
343 829 человек

Расположен на берегу р. Миссисипи

Основан в 1905

Штат Луизиана

Штат Невада

В 2005 затоплен ураганом «Катрина»

Расположен в центральной части пустыни Мохаве

В городе расположена копия Эйфелевой башни