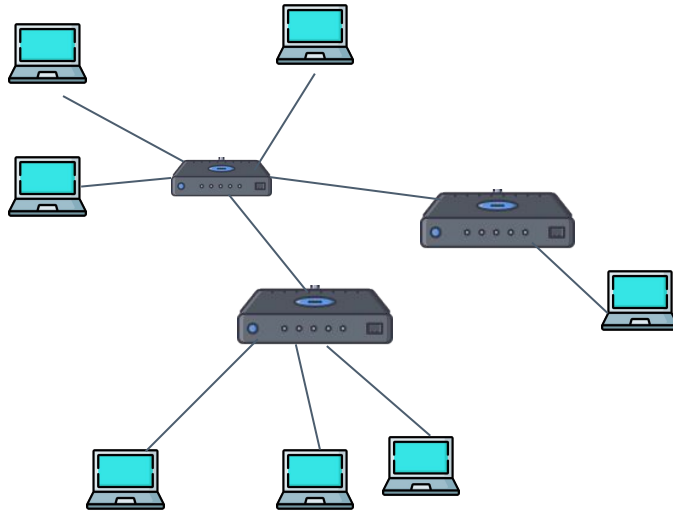


Определить и записать физическую топологию сетей

A)



● — Смешанная

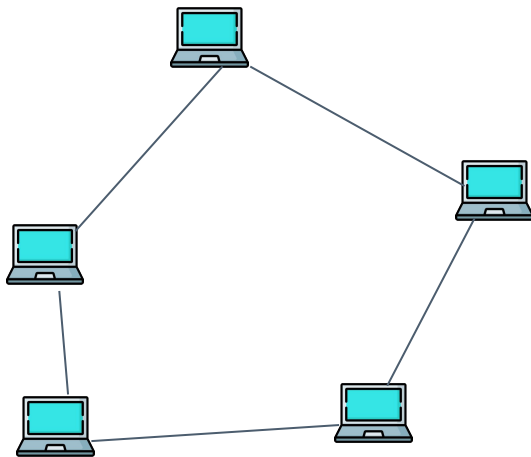
● — Звезда

● — **Дерево**



Определить и записать физическую топологию сетей

Б)



● — Шина

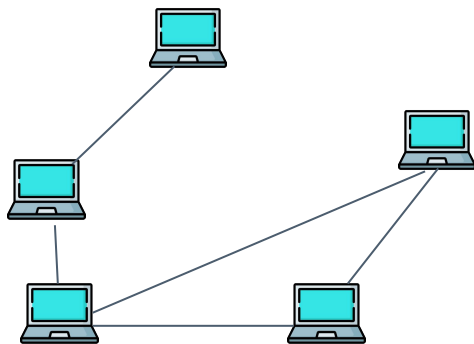
● — Линейная

● Кольцо



Определить и записать физическую топологию сетей

В)

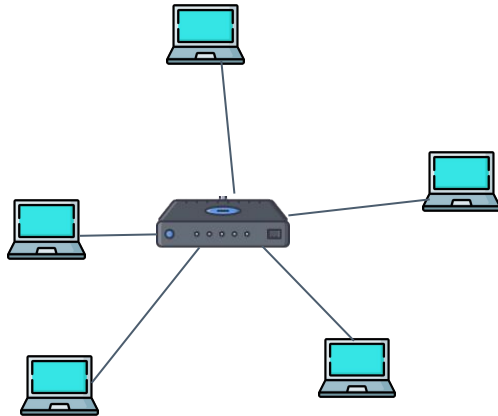


- — Линейная
- Смешанная
- MESH (не замкнута)



Определить и записать физическую топологию сетей

Г)



● Шина

● Звезда

● Кольцо

