



**Вже дзвінок нам дав сигнал:
Працювати час настав,
Тож і ми часу не гаймо,
Працювати починаймо!**

Діагностична робота №1



ЯК СИДИТИ

ЗОШИТ ПОКЛАДИ ТАК

<p>15-20 см 60° Нижній правий кут має бути проти середини грудей.</p>	<p>15-20 см 45-50° Нижній лівий кут має бути проти середини грудей.</p>
---	---

ПОСТАВА ПРИ ПИСЬМІ

Тримай спину рівно, не горбся.
Лікті поклади на стіл.
Ноги постав на підлогу або на підставку.
Вільною рукою підтримуй зошит.

The illustration shows a girl in a school uniform sitting at a desk, writing in a notebook. A diagram shows a hand holding a pen correctly. There is also a small illustration of a desk with a pen holder and books.

1). Знайди значення виразів.

$$57 - (10 + 6)$$

$$76 + (8 - 6)$$

$$67 + 11 - 23$$

$$74 - 30 + 3$$

2). Розв'яжи приклади за допомогою способу додавання й віднімання частинами.

$$8 \begin{array}{|c|} \hline \square \\ \hline \end{array} \begin{array}{|c|} \hline 6 \\ \hline \end{array} \begin{array}{|c|} \hline \square \\ \hline \end{array} 8 + \square + \square =$$

$$15 \begin{array}{|c|} \hline \square \\ \hline \end{array} \begin{array}{|c|} \hline 7 \\ \hline \end{array} 15 - \square - \square =$$

$$5 \begin{array}{|c|} \hline \square \\ \hline \end{array} \begin{array}{|c|} \hline 9 \\ \hline \end{array} \begin{array}{|c|} \hline \square \\ \hline \end{array} + \square + \square =$$


$$17 \begin{array}{|c|} \hline \square \\ \hline \end{array} \begin{array}{|c|} \hline 9 \\ \hline \end{array} 17 - \square - \square =$$

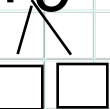
3). Розв'яжи задачу.


У майстрині є 7 синіх намистин, 5 зелених, а рожевих стільки, скільки синіх і зелених разом. Скільки рожевих намистин у майстрині?

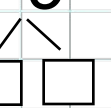
20 ЖОВТНЯ Діагностична

робота¹⁾

$$2). 8 + 6 = 8 \square + \square =$$


$$5 + 9 = 5 \square + \square =$$


$$15 - 7 = 15 \square - \square =$$


$$17 - 9 = 17 \square - \square =$$


3).

Задача

1). Знайди значення виразів.

$$57 - (10 + 6)$$

$$76 + (8 - 6)$$

$$67 + 11 - 23$$

$$74 - 30 + 3$$

2). Розв'яжи приклади за допомогою способу додавання й віднімання частинами.

$$8 + 6 = 8 + \square + \square =$$



$$5 + 9 = 5 + \square + \square =$$



$$15 - 7 = 15 \square - \square =$$



$$17 - 9 = 17 \square - \square =$$



3). Розв'яжи задачу.

У майстрині є 7 синіх намистин, 5 зелених, а рожевих стільки, скільки синіх і зелених разом. Скільки рожевих намистин у майстрині?



Не забудь надіслати роботу на перевірку!