

Riyaziyyat II sinif



Sabunçu rayonu 187 № li məktəb
Valida



**Kömək
edin!
Uşaqlara
vurma
əməlini
öyrədin.**

**Narahat
olma mən
onlara
öyrədərəm**





İki ailəsinin hər birində
5 arı yaşayır. 2 ailədə nəçə
arı yaşayır?

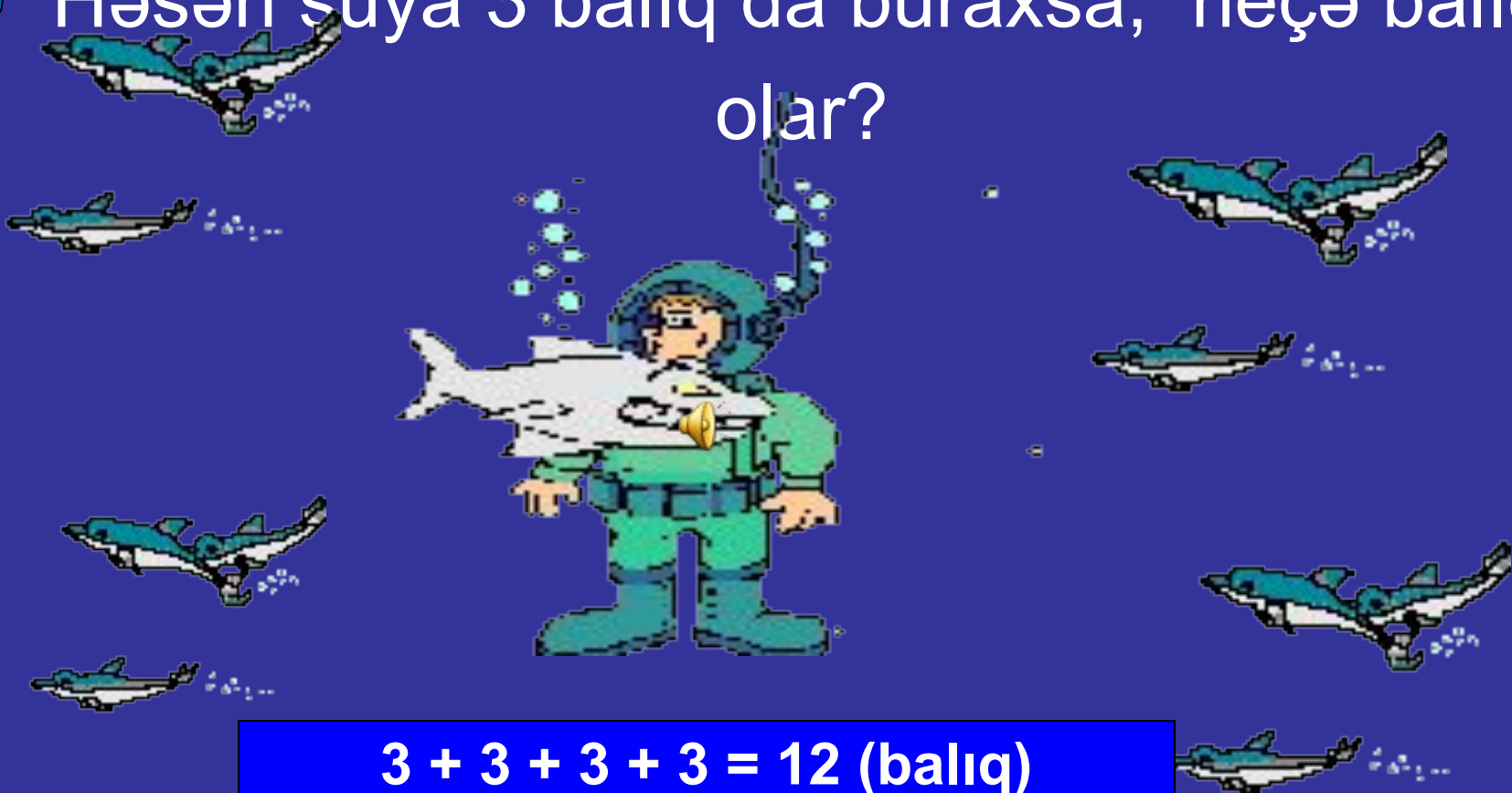


$5 + 5 = 10$ (arı)
 $5 \times 2 = 10$ (arı)





Dənizdə 4 balıq ailəsi, hər ailədə 3 balıq yaşayır. Bu ailələrdə neçə balıq yaşayır? Həsən suya 3 balıq da buraxsa, neçə balıq olar?



$$3 + 3 + 3 + 3 = 12 \text{ (balıq)}$$

$$12 + 3 = 15 \text{ (balıq)}$$

$$3 \times 4 = 12 \text{ (balıq)}$$

$$12 + 3 = 15 \text{ (balıq)}$$



**Sevincin 1 iti və 2 pişiyi vardır.
Onların hərəsi gündə 2 kq yemək
yeyirsə, 1 həftəyə cəmi neçə kq
yemək yeyərlər?**

$$1+2=3 \text{ (heyvan)}$$

$$3 \times 2 = 6 \text{ kq}$$

$$6 +6+6 +6 +6 +6 +6= 42 \text{ kq}$$


$$6 \times 7 = 42 \text{ kq}$$



Meşədə İki dovşan ailəsi yaşayırdı.
Hər ailədə 2 bala dovşan vardı. Cəmi
neçə dovşan vardı? Dovşanların
hərəsi 2 kq yem yesə cəmi neçə kq
yem lazımdır?



- $2 + 2 + 2 + 2 = 8$ (dovşan)
 $2 \times 4 = 8$ (dovşan)
2) $8 \times 2 = 16$ kq






Atlı gündə 3 km yol gedir. O,
5, 6, 8 günə neçə km yol
gedər?

$$3 \times 5 = 15 \text{ km}$$









$$3 \times 6 = 18 \text{ km}$$

$$3 \times 8 = 24 \text{ km}$$





Misalları həll edin. Onları vurma ilə əvəz edin. .





Misal qurun. Əvvəl toplama sonra isə vurma əməlindən istifadə edin.






$$2 + 2 + 2 + 2 + 2 + 2 = 12$$

$$2 \times 6 = 12$$



Məsələ qurun və həll edin.



5l

5l

5l

5l




Vaxt getdi.



İş vərəqi 1.

1. Şəkillərə uyğun məsələ qurun və həll edin.



2. Misalları həll edin.

$$2 \times 5 =$$


$$2 \times 2 =$$

$$3 \times 4 =$$

$$3 \times 3 =$$

İş vərəqi 2 .

1. Şəkillərə uyğun məsələ qurun və həll edin.



2. Misalları həll edin.

$$2 \times 7 =$$

$$2 \times 6 =$$

$$3 \times 6 =$$

$$3 \times 2 =$$

İş vərəqi 3 .

1. Şəkillərə uyğun məsələ qurun və həll edin.



2. Misalları həll edin.

$$2 \times 3 =$$

$$3 \times 5 =$$

$$2 \times 9 =$$

$$3 \times 9 =$$

İş vərəqi 4 .

1. Şəkillərə uyğun məsələ qurun və həll edin.



2 . Misalları həll edin.

$$2 \times 4 =$$

$$2 \times 8 =$$

$$3 \times 8 =$$

$$3 \times 7 =$$



Gəlin idman edək.

Çiyinlərim, ay çiyinlərim
Qoy açılsın düyünlərim.
Əyilərik-durarıq
Təndirə çörək yaparıq.
Allahdan ruzi dilərik
Allahu Əkbər deyərik.
Bir-bir gülü dərərik
Zənbilimizə düzərik.
Bir güldən dəstə olmaz,
Idmançı xəstə olmaz






Yaradıcı tətbiqetmə

Sirkdə ilanı yemləmək üçün ona hər gün 2 qurbağa verilir. 5 günə ilanı yemləmək üçün neçə qurbağa lazım olar?

$$2 \times 5 = 10 \text{ (qurbağa)}$$



Vurmanı toplama ilə əvəz edirik.



• $2 \times 6 =$

$3 \times 4 =$

• $3 \times 2 =$


$3 \times 5 =$

• $2 \times 2 =$

$2 \times 9 =$

• $3 \times 6 =$

$2 \times 6 =$



Toplamını vurma ilə əvəz edin.

• $2+2+2+2+2=$


$8+8+8+8+8=$

• $3+3+3+3=$

$5+5+5+5+5+5+5=$

• $6+6+6=$

$4+4+4+4=$





Nəticə və ümumiləşdirmə



Nəyi bilirdik?
Nəyi öyrəndik?



**Afərin,
uşaqlar!**

