

Урок математики во 2 классе.

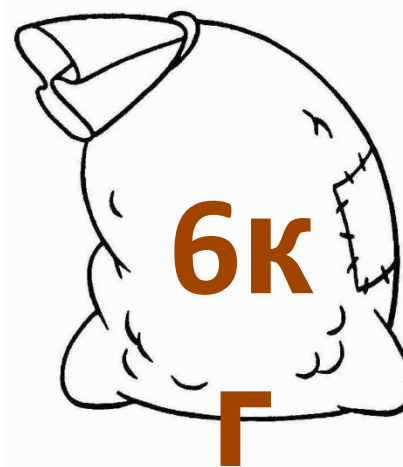

Тема:

**«Приемы умножения
единицы и нуля».**

**Учитель начальных классов
ГБОУ «Школы №947»
Шахматова
Татьяна Александровна.**

Составьте задачу по

схема



?

12Г

Проверь
себя.



$$6 + 6 + 6 = 18 \text{ (кг)}$$

$$6 \cdot 3 = 18$$

(кг)
ОТВЕТ: 18

кг

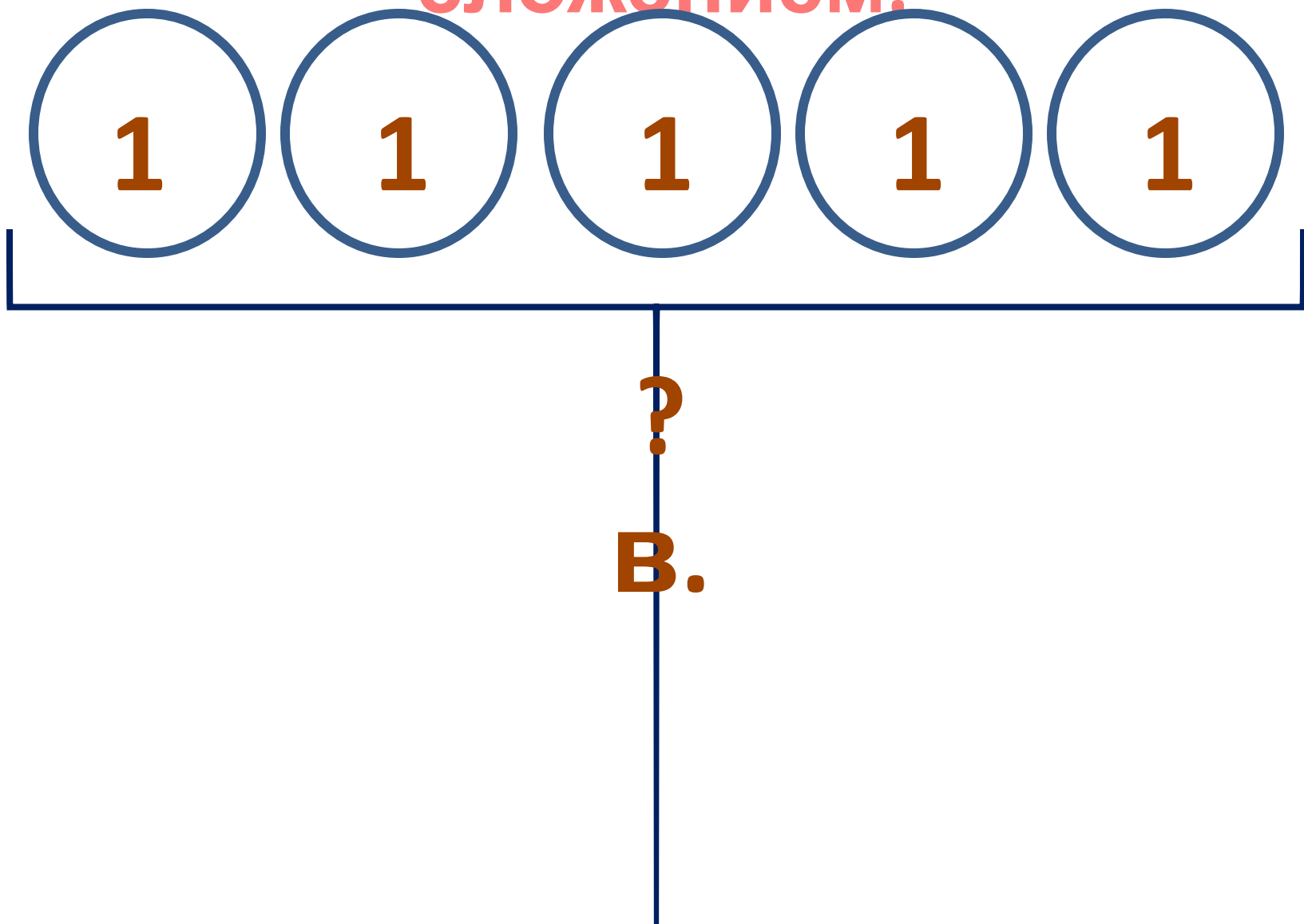
Новая



?


В.

Составим схему и решим
сложением.



Решим

умножили.



?

$$1 + 1 + 1 + 1 + 1 = 5 \text{ (в.)}$$

Решим

умножением.



?

$$1 + 1 + 1 + 1 + 1 = 5 \text{ (В.)}$$

$$1 \cdot 5 = 5 \text{ (В.)}$$

**Сделаем
вывод.**

**При умножении
1 на любое
число
получится ...**

**Сделаем
вывод.**

**При умножении
1 на любое
число
получится
это число.**

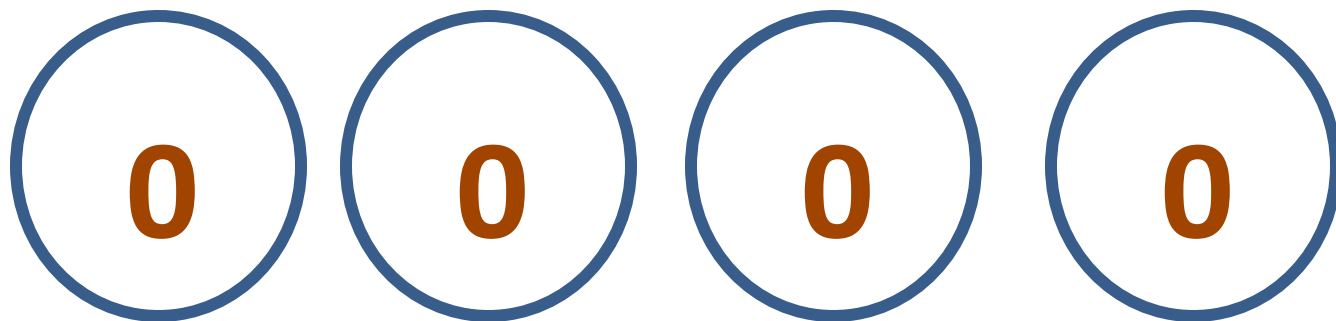
Решим следующую
задачу.



?

С.

Составим схему и решим
сложением.

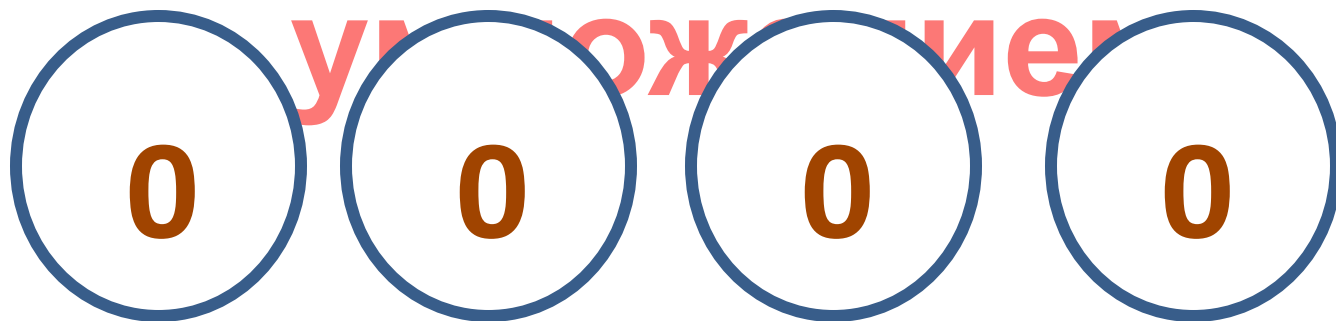


?

с.

Решим

умножением



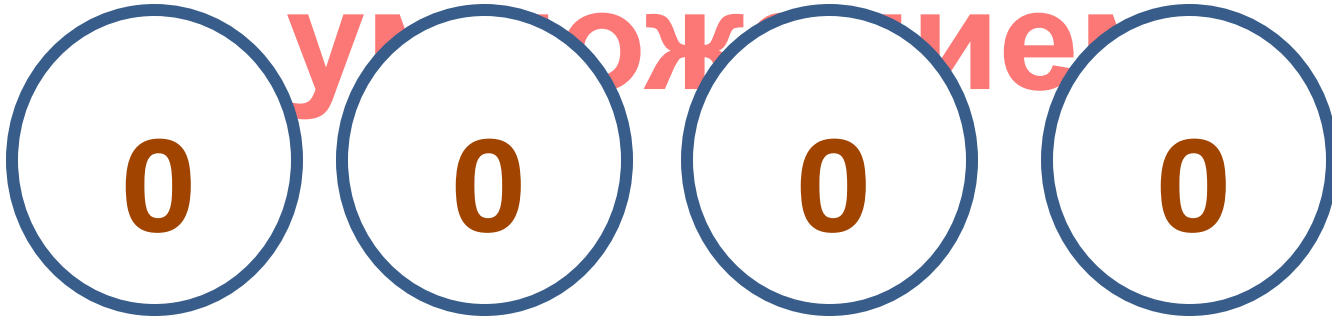
?

$$0 + 0 + 0 + 0 = 0$$

(с.)

Решим

умножением



?

$$0 + 0 + 0 + c \cdot 0 = 0$$

(с.)

$$0 \cdot 4 = 0 \text{ (с.)}$$

**Сделаем
вывод.**

**При умножении
0 на любое
число
получится ...**

Сделаем
вывод.

При умножении
0 на любое
число
получится 0.