

# **ЗАНИМАТЕЛЬНАЯ ГЕОМЕТРИЯ**

**Афони́на С. А**  
**Учитель начальной школы**  
**Г О У средней школы № 62**  
**Выборгского района**

# СОДЕРЖАНИЕ

1. Обозначение точки.
2. Прямая линия.
3. Введение правила.
4. Закрепление правила.



# Точка.



• А К



Точка обозначается большими латинскими буквами.



**Найди прямую линию.**



? ПОДУМАЙ!

Сколько прямых линий можно провести  
через две точки ?

А ●

Р ●



ЧЕРЕЗ *ДВЕ ТОЧКИ* МОЖНО ПРОВЕСТИ ТОЛЬКО  
*ОДНУ ПРЯМУЮ* ЛИНИЮ.

**ЗАПОМНИ !**



*ПРАВИЛЬНО ЛИ ПРОВЕДЕНЫ ПРЯМЫЕ ЛИНИИ  
ЧЕРЕЗ ДВЕ ТОЧКИ?*

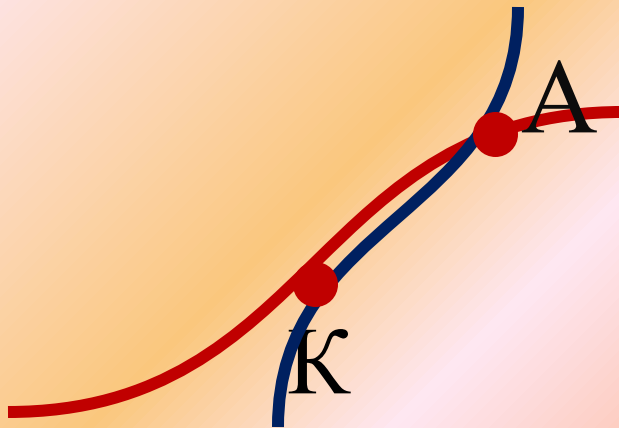


Да

Нет



*ПРАВИЛЬНО ЛИ ПРОВЕДЕНЫ ТЕПЕРЬ ПРЯМЫЕ*  
*ЛИНИИ ЧЕРЕЗ ДВЕ ТОЧКИ?*



Нет

Да







**МОЛОДЦЫ!**

**5**



***УМНИЦА!***



# ПОДУМАЙ ЕЩЁ!



ДА



# HET



ДО ВСТРЕЧИ НА УРОКАХ ГЕОМЕТРИИ.

П

О

К

А

