


# Геологическое строение, рельеф и полезные ископаемые России

Метелкина З.З.  
Учитель географии  
МОУ «Усть-Бюрская СОШ»



# 1 ВЫСОТА



# Рельеф –

# ЭТО



# Формы рельефа

```
graph TD; A[Формы рельефа] --> B[Горы]; A --> C[Равнины]; B --> D[высокие]; B --> E[средние]; B --> F[низкие]; C --> G[низменности]; C --> H[возвышенности]; C --> I[плато];
```

The diagram is a hierarchical flowchart. At the top is a yellow box with the text 'Формы рельефа'. Two arrows point down from this box to two green boxes: 'Горы' on the left and 'Равнины' on the right. From the 'Горы' box, three arrows point down to three light blue boxes: 'высокие', 'средние', and 'низкие'. From the 'Равнины' box, three arrows point down to three light blue boxes: 'низменности', 'возвышенности и', and 'плато'.

Горы

высокие

средние

низкие

Равнины

низменности

возвышенности  
и

плато

Геологическое строение и тектоника



# 2 высота



# Определите формы рельефа по координатам

- 56 с.ш., 33 в.д. –

Валдайская возвышенность.

- 60 с.ш., 72 в.д. –

Западно – Сибирская равнина.

- 44 с.ш., 43 в.д. –

гора Эльбрус.

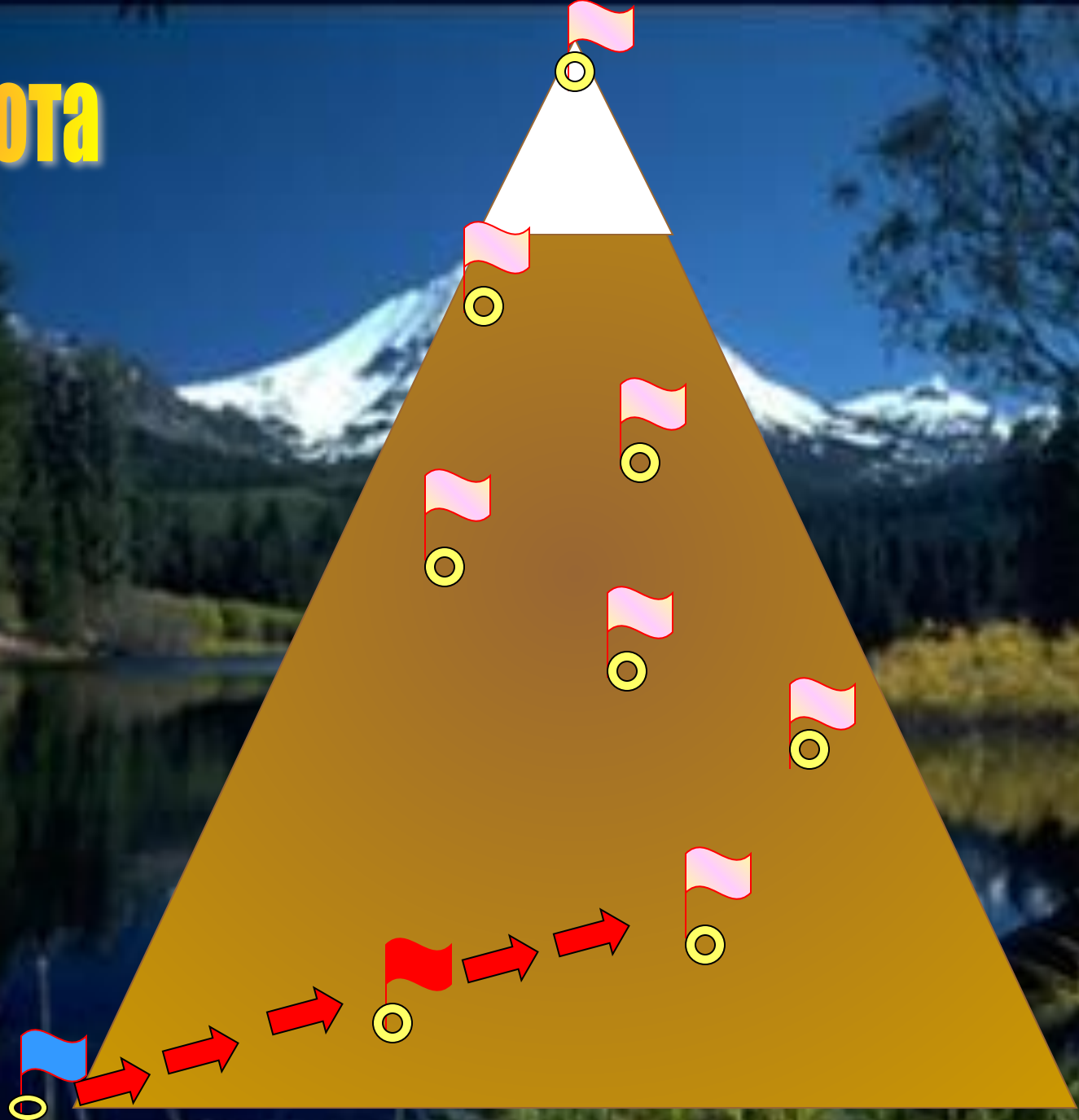
- 46 с.ш., 50 в.д. –

Прикаспийская низменность

- 66 с.ш., 100 в.д.-

Среднесибирское плоскогорье

# 3 ВЫСОТА





# На интерактивную карту нанести формы рельефа и тектонические структуры

## 1 группа

1. Среднерусская возвышенность
2. Урал
3. Кавказ
4. Западно-Сибирская равнина
5. Западный Саян
6. Восточный Саян
7. Становой Хребет
8. Сихотэ-Алинь
9. Среднесибирское плоскогорье
10. Хибины

## 2 группа

1. Русская платформа
2. Область герцинской складчатости
3. Область кайнозойской складчатости
4. Западно-сибирская плита
5. Область каледонской складчатости
6. Область байкальской складчатости
7. Алданский щит
8. Область мезозойской складчатости
9. Сибирская платформа
10. Балтийский щит

# 4 ВЫСОТА





# 5 ВЫСОТА



**Какой эре  
соответствует  
период байкальской  
складчатости?**

**В какой период  
произошло  
образование  
Алтая и Саян?**

**Какой период  
характеризуется  
образованием Урала?**

**В каком периоде  
наблюдается  
горообразование  
Хр.Черского, Сихотэ-  
Алинь?**

**В какую эру и какой  
период мы живем?**

**Когда происходило  
образование гор  
Кавказа, Камчатки?**





# 6 ВЫСОТА




# Факторы

Эндогенные

Экзогенные



# Под влиянием каких факторов формировались данные формы рельефа?





# 7 ВЫСОТА



# Установите соответствия

- |                                 |                     |
|---------------------------------|---------------------|
| 1. Восточно-Европейская равнина | А) уголь;           |
| 2. Урал                         | Б) газ;             |
| 3. Среднесибирское плоскогорье  | В) алмазы;          |
| 4. Кольский полуостров          | Г) нефть;           |
| 5. о.Сахалин                    | Д) железная руда;   |
|                                 | Е) апатиты;         |
|                                 | Ж) поваренная соль. |

# 8 ВЫСОТА



# Ключевская Сопка



# Долина Гейзеров







# 9 ВЫСОТА



# Рельеф Хакасии







# Выбери лишний объект



дный Саян, Кузнецкий Алатау, Восточный Саян



ский хребет, Абаканская впадина, Сыдо-Ербинская впадина

инская котловина, Чулымо-Енисейская котловина  
невский кряж

