





**Решение  
задач  
в 3  
действия**



# Счёт "цепочкой"

$$63 : 7 \cdot 2 - 6 : 3 \cdot 8 : 4 = 8$$

$$80 - 40 : 8 \cdot 4 - 2 : 2 \cdot 8 = 72$$



# ПОВТОРЕНИЕ

$$a \cdot 1 = a$$

$$0 : a = 0$$

$$a \cdot 0 = 0$$

~~$$a : 0 =$$~~

$$a : a = 1$$

$$a : 1 = a$$




**В книге поместили 24 стихотворения и 8 рассказов. Во сколько раз в книге стихотворений больше, чем рассказов?**

**в 16 раз**

**в 3 раза**

**в 4 раза**

**в 32 раза**



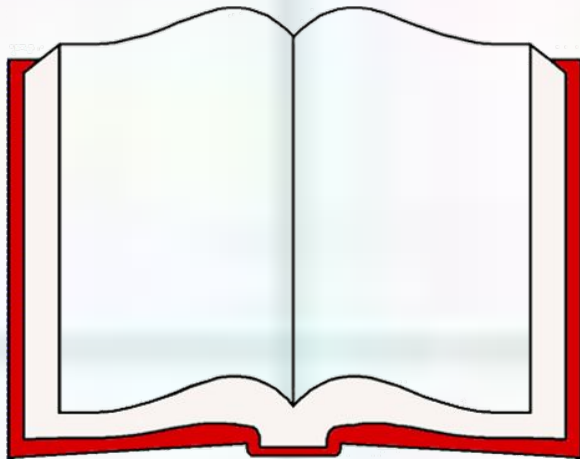
**В книге поместили 24 стихотворения и 8 рассказов. На сколько в этой книге стихотворений больше, чем рассказов?**

**на 16**

**на 3**

**на 4**

**на 32**




На первой полке было 27 книг, на второй полке – в 3 раза меньше, чем на первой. Сколько книг на второй полке?

8 КНИГ

24 КНИГИ

9 КНИГ

30 КНИГ




На первой полке было 27 книг, на второй полке – в 3 раза меньше, чем на первой. Сколько книг на двух полках?

57 КНИГ

36 КНИГ

9 КНИГ

30 КНИГ




На первой полке было 9 книг, на второй полке – в 4 раза больше, чем на первой. Сколько книг на второй полке?

5 КНИГ

30 КНИГ

13 КНИГ

36 КНИГ






На первой полке было 9 книг, на второй полке – в 4 раза больше, чем на первой. Сколько книг на двух полках?

45 КНИГ

42 КНИГИ

22 КНИГИ

36 КНИГ



□ Составь задачу по схеме и  
запиши решение. ? кг

9 кг

5 кг.



45 кг

9 кг

? кг.



45 кг

? кг

5 к.



# Самостоятельная работа

## 1 вариант

**В магазин**

**привезли 6  
ящичков яблок,  
по 9 кг в каждом.  
Сколько  
килограммов  
яблок привезли в  
магазин?**

## 2 вариант

**В магазин**

**привезли 3 ящичка  
груш,  
по 7 кг в каждом.  
Сколько  
килограммов  
груш привезли в  
магазин?**

**1 вариант**



**6 ящ.**

$$9 \cdot 6 = 54$$

**(кг)**

**2 вариант**



**3 ящ.**

$$7 \cdot 3 = 21$$

**(кг)**



**В магазин привезли 6  
ящико́в яблoк, по 9 кг в  
каждом, и 3 ящика́ груш, по  
7 кг в каждом. Сколько  
всего килограммов фруктов  
привезли в магазин?**



? кг 1)

9 кг	—	(.)

6 ящ.

? кг 2)

7 кг	—	(.)

3 ящ.

? кг  
3) (+)





**1)  $9 \cdot 6 = 54$  (кг) – яблок**

**2)  $7 \cdot 3 = 21$  (кг) – груш**

**3)  $54 + 21 = 75$  (кг) – всего**

**Ответ: 75 кг фруктов  
привезли в магазин.**

# ФИЗКУЛЬТМИНУТКА

Раз, два, три, четыре, пять –  
Все умеем мы считать.

Раз! Подняться, потянуться.

Два! Согнуться, разогнуться.

Три! В ладоши три хлопка,  
Головою три кивка.

На четыре – руки шире.

Пять – руками помахать.



Шесть – за парту тихо сесть.



*Зарядка для глаз*

**ЛОВИ СНЕЖИНКУ**







敬啟者

啟者






敬啟者











**Будьте здоровы!**

# Закрепление

За один день фермер собрал 8 корзин огурцов, по 6 кг в каждой, и 3 корзины помидоров, по 5 кг в каждой. Сколько всего кг овощей собрал фермер в этот день?

$$6 \cdot 8$$

$$6 \cdot 8 + 5 \cdot 3$$

$$5 \cdot 3$$

$$6 \cdot 8 - 5 \cdot 3$$

# Работа в группах



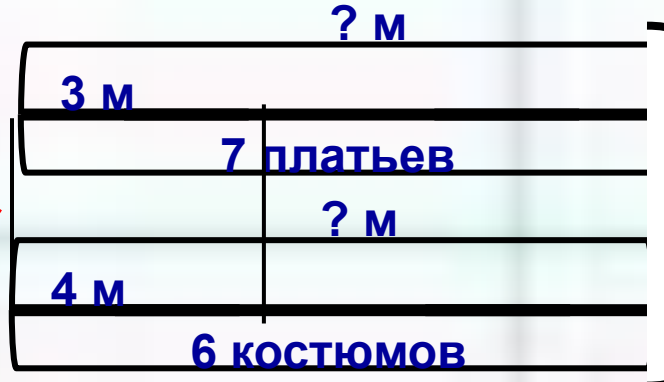
# 1 группа

Соотнесите выражения и схемы задач



1

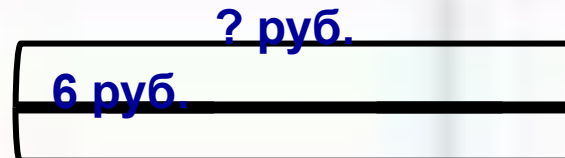
$20 : (40 : 8)$



1

2

$16 : 4$



2

3

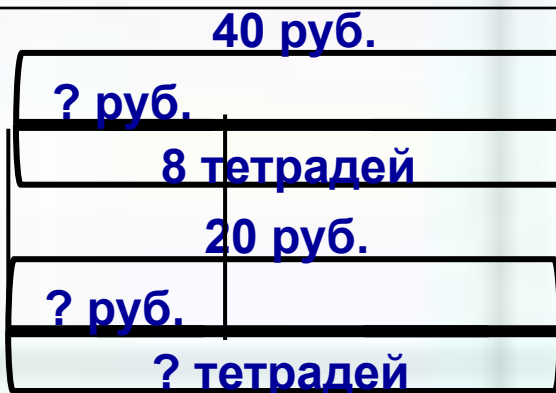
$6 \cdot 3$



3

4

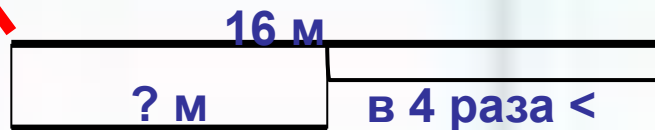
$3 \cdot 7 + 4 \cdot 6$



4

5

$16 - 9$



5

# 2 группа

Соотнесите схемы задач и текст



? руб.  
5 руб.

9 карандашей

1

45 руб.  
5 руб.

? карандашей

2

45 руб.  
? руб.

9 карандашей

3

40 руб.  
? руб.  
8 тетрадей  
20 руб.  
? руб.  
? тетрадей

4

40 руб.  
? руб.  
8 тетрадей  
? руб.  
? руб.  
5 тетрадей

5

Вите продали на 45 рублей карандаши по цене 5 рублей за каждый. Сколько карандашей продали?

1

8 одинаковых тетрадей стоят 40 рублей. Сколько таких тетрадей можно купить на 20 рублей?

2

8 одинаковых тетрадей стоят 40 рублей. Сколько нужно заплатить денег за 5 таких же тетрадей?

3

Витя купил 9 карандашей по цене 5 рублей за каждый. Сколько рублей заплатил Витя за покупку?

4

Витя купил на 45 рублей 9 одинаковых карандашей. Узнай цену карандаша.

5

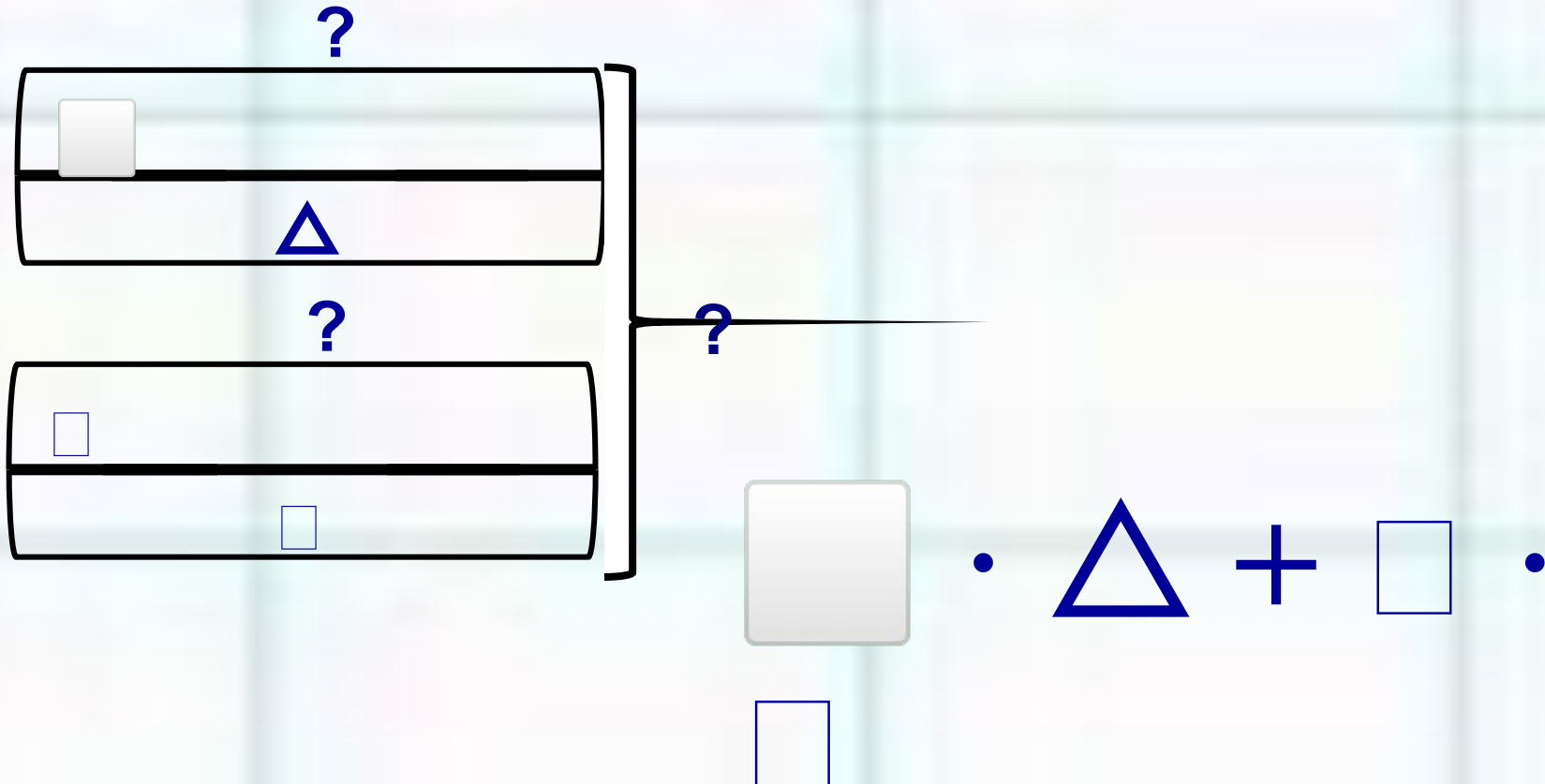


# 3 группа

*Начертите схему задачи  
и запишите числовое выражение*



Дети собрали с  $\triangle$  деревьев рябины по  кг ягод, а с  кустов боярышника по  кг ягод. Сколько всего ягод собрали дети?



# Итог урока

□ Что нового вы узнали  
сегодня на уроке?



**Урок для меня прошёл с пользой.  
Я научился решать составные  
задачи  
и могу помочь другим.**

**Научился решать составные задачи,  
но мне ещё нужна помощь.**

**Мне было трудно на уроке.**