

Урок - сказка



Считай, смекай, решай, В беде друзей не оставляй!







Испекла я 18
ржаных
пирожков, а
пшеничных в 3
раза больше.
Сколько всего
пирожков я
испекла?








$38:2=$ 


$30 \times 3 =$ 


$13 \times 0 =$ 


$48:3=$ 


$100:10=$ 


$12 \times 6 =$ 

$84:2=$ 


$85:5=$ 

$99:33=$ 

$14 \times 3 =$ 







Дети в столовой за завтраком выпили 81 стакан молока, а киселя в 3 раза меньше. Сколько всего стаканов молока и киселя выпили дети?

Выберите правильное решение

$$(81 - 3) + 81 =$$

$$(81 : 3) + 81 =$$

$$81 : 3 =$$

Спряди нить
длиною 960
сантиметров



А сколько это
будет метров и
дециметров?

Физминутка

Вышла мышка как-то раз
За Машу пряжу прясть.
Куделька уменьшается,
Нитка прибавляется.
Вот раздался в двери
стук,
Убежала мышка вдруг.









В двухлитровой банке помещается 10 стаканов киселя. Сколько стаканов поместится в пятилитровой банке?

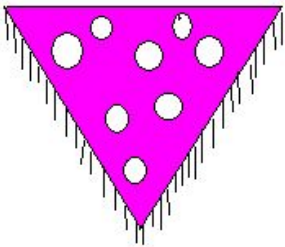
$$X : 12 = 7$$





Если на один
противень входит
17 пирожков, то
сколько пирожков
войдет на 5 таких
противней?

«Машеньке купили платочек за 13 рублей,
Ванюшке рубашку – в 4 раза дороже платка и
сладостей на 34 рубля. Сколько денег заплатили
родители за всю покупку?»



Дружба и добро побеждают зло

