
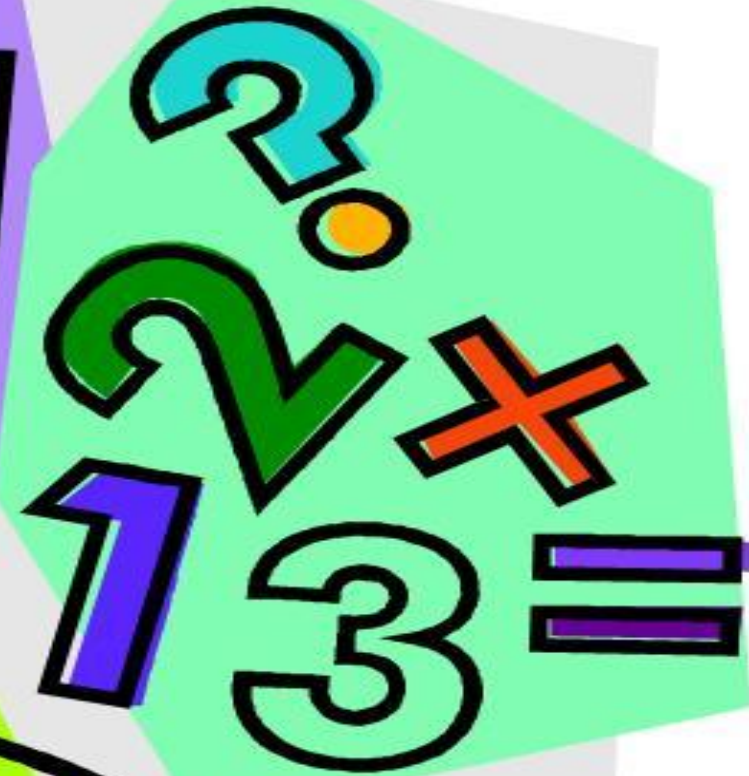


Веселая математика



Подготовила: воспитатель
подготовительной группы
Попова Лилия Александровна

Найди значение выражений

$2+3=$


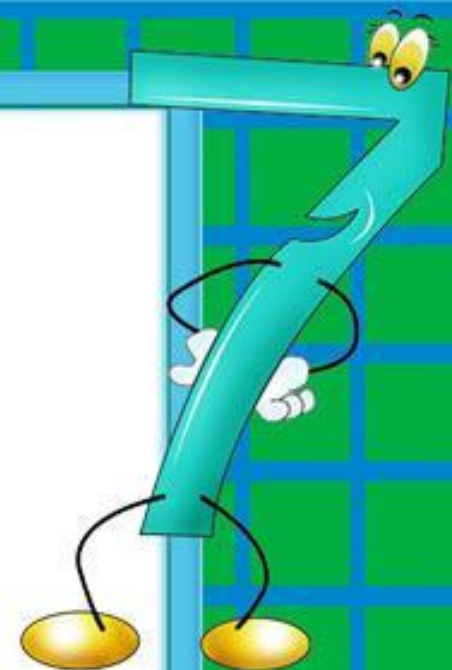
$7+3=$

$7+2=$




$2+8=$

$6+4=$

$4+5=$






Соедини правильно линиями и посмотри,
что получится



Продолжи счет.
Впиши пропущенные числа.

1		3		5	6		8		10
10		8	7			4	3		

Сколько надо добавить помидор, чтобы получилось 6?



Сколько всего? Обведи правильный ответ



5

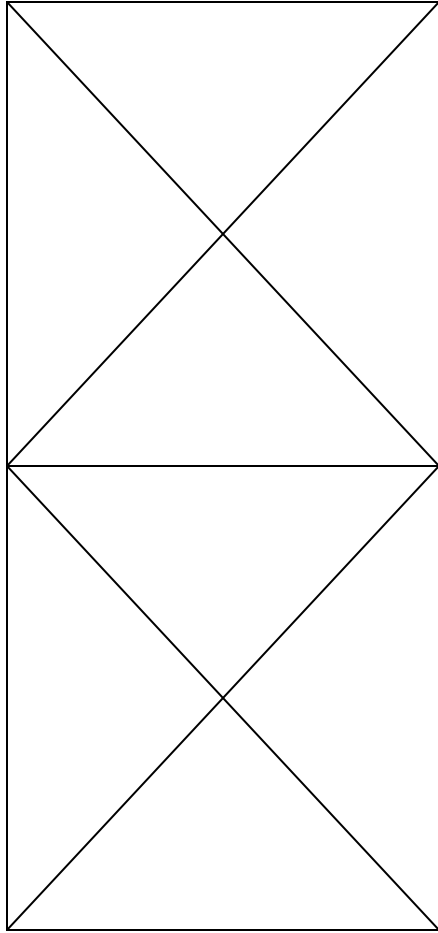
6

8

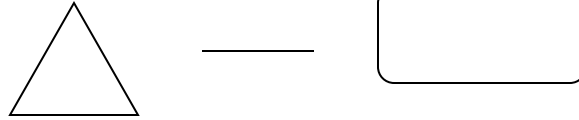
7

9

Сосчитай и запиши ответ



Сосчитай и запиши сколько всего:



Реши логические задачи:

1. Коля вылепил 4 солдат, а Слава — 1. Сколько всего солдат вылепили ребята?

2. В корзине было 6 белых грибов и 3 подберезовика. Сколько всего было грибов?

3. В корзине лежало 6 грибов, 1 гриб оказался несъедобным и его выбросили. Сколько грибов осталось?

4. На кусте распустилось 5 роз. Мама срезала 3 штуки, сколько осталось?

5. В вазе стояло 3 розы. Мама срезала еще 2. Сколько роз стало в вазе?

6. На полке стояло 5 красных чашек и 1 синяя. Сколько чашек стояло?

7. На кусте созрело 8 помидоров. Четыре помидора сорвали. Сколько осталось?

Конец

