


Числовые и буквенные выражения



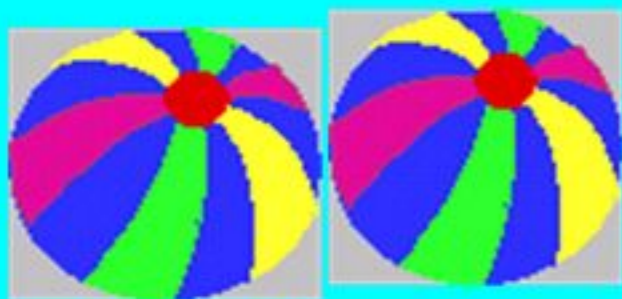
5 класс

*Путилина Г.И.
учитель математики КГУ
"Парыгинская средняя школа"*

Устный счет



416 руб



x руб



a руб

$$416 \cdot 5$$

$$2 \cdot a$$

$$416 + x$$

$$3 \cdot x$$

$$a - x$$


$$3x + 5 \cdot 416$$

$$2a + 3x + 416 \cdot 5$$

Составить выражение для решения задачи по краткому условию




в 2 раза меньше




на 15 больше

?



x

?



}

?



+



+





Из пункта А одновременно в противоположных направлениях выехали две машины. Первая ехала со скоростью x км/ч, а вторая на 6 км/ч больше. Какое расстояние будет между машинами через 4 часа?

| | v км/ч | t ч | S км |
|----------|-------------|-------|--------|
| 1 машина | | | ? |
| 2 машина | на 6 км/ч > | ? | ? |

x

6

()

км/ч

км

ч

+ 4

$(x + 6)$


В



С

Собственная скорость теплохода равна 48 км/ч , а скорость течения реки равна $u \text{ км/ч}$, сколько км проплывет теплоход за 2 ч по течению реки и за 3 ч против течения?

| | v | t | s |
|------------|-----|-----|-----|
| по течению | ? | | ? |
| против | ? | | ? |





Из пункта А одновременно в противоположных направлениях выехали две машины. Первая ехала со скоростью 60 км/ч, а вторая на a км/ч больше. Какое расстояние будет между машинами через 2 часа?

60
()
км/ч
км
ч 2

| | v км/ч | t ч | S км |
|----------|---------------|-------|--------|
| 1 машина | ← | | } |
| 2 машина | на a км/ч > | | |

?

В



С

задание на дом
стр 11
№17, №13(3)

задание на дом
стр 11
№17, №13(3)