

24

СЕНТЯБРЯ  
ПОНЕДЕЛЬН  
ИК  
МАТЕМАТИК  
А



Две



Одна



:

Один

Два

Три

Четыр

е:



$$3-1=2$$

$$4-1=3$$

$$3+1=4$$

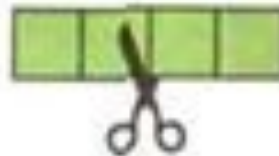


**Схем**


**ы:**



$$\square + \square = \square$$



$$\square - \square = \square$$



$$\square - \square = \square$$

Какое число  
пропущено:

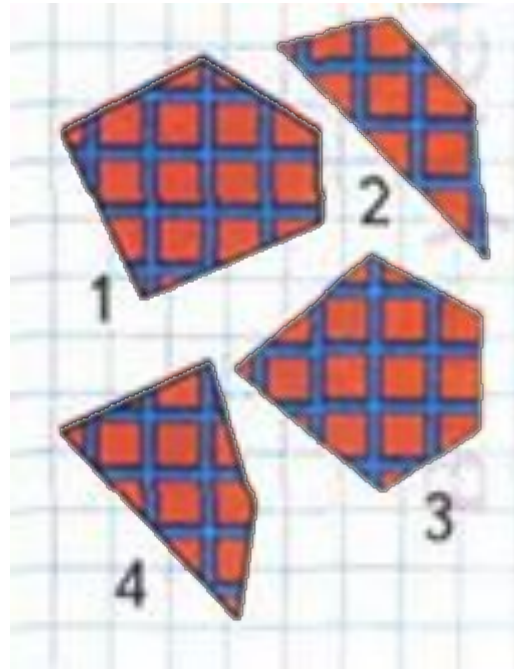


Из 4 вычтешь 1, получишь 3, 2, 1?

$$4 - 1 = 3$$


Какое число

< ольш  >


2 или 4? 3 или 1?



# Длиннее,



Какой поводок длиннее, а какой короче?  
Чей хвост длиннее? Чьи уши короче?



Какой ремень короче? Какой ремень длиннее?  
Какой ремень шире? Какой ремень уже?

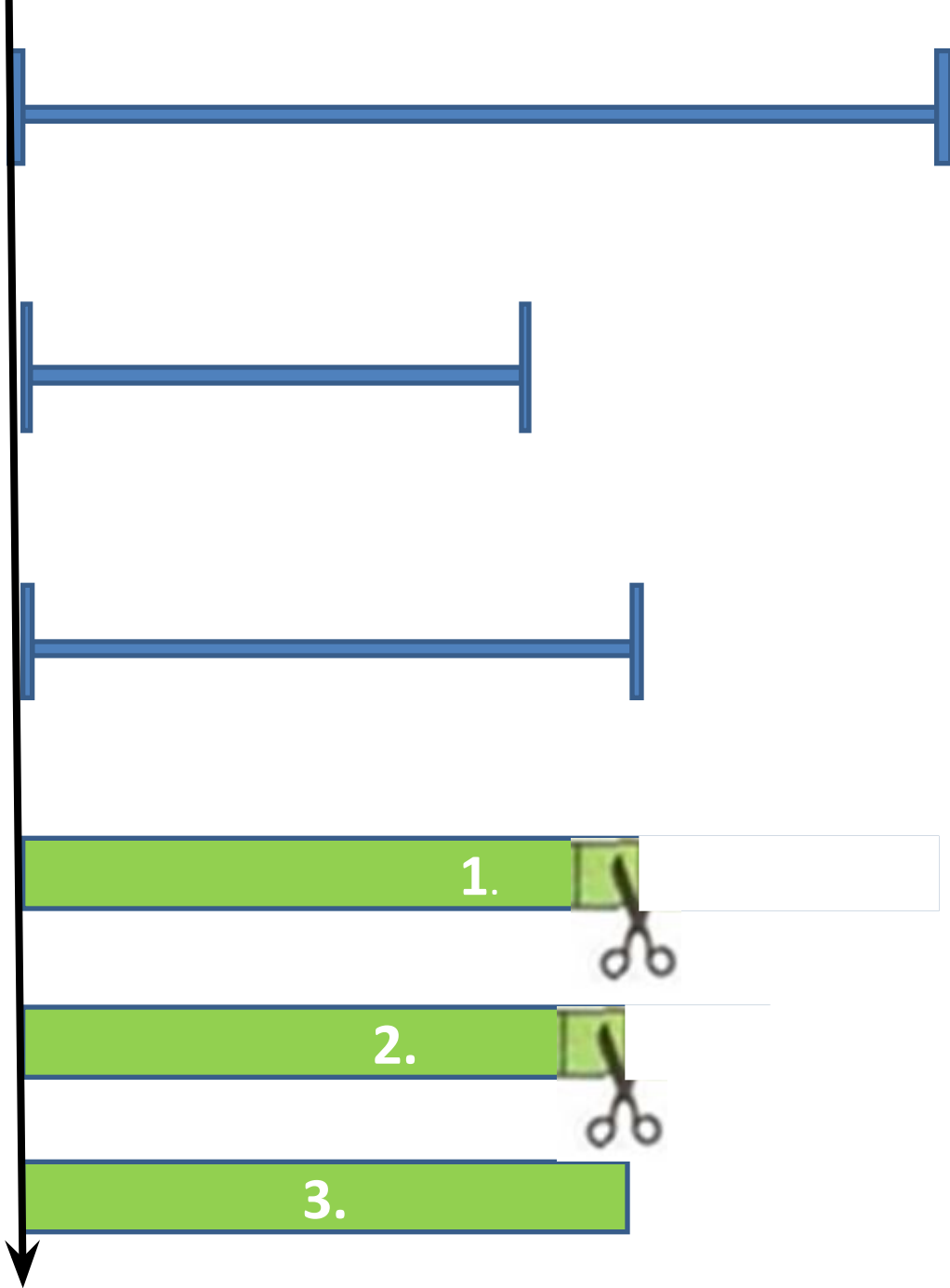
Как можно получить число 3? число 4?

	$1 + 1 = \square$		$4 - 1 = \square$
	$2 + 1 = \square$		$3 - 1 = \square$
	$3 + 1 = \square$		$2 - 1 = \square$


Расскажи по

1)на  
глаз

2)  
наложением



# Длиннее. Короче



Какая полоска короче? Раскрась её.



Заполни таблицу и сравни, кого на рисунке меньше, кого больше.



Кошки	●				
Мышки	▲				

Закрась рамку с правильным ответом.

Кошек МЕНЬШЕ,  
чем мышек.

Мышек МЕНЬШЕ,  
чем кошек.





# Длиннее. Короче



1

2

3

4

**Спасибо  
за работу!**