


**Обозначение
натуральных чисел.
Чтение и запись
натуральных чисел.**



**МОУ СОШ №256
г. Фокино**

**Добро пожаловать
в счётное королевство.**



**Его величество
Король Число.**

**Её величество
Королева Цифра.**

● Сколько карандашей на рисунке?

● Сколько книг на полке?

4

● Сколько парт

14

в классе?

8

● Сколько кляпичей на рисунке?

● Сколько стульев в

14

280

Натуральные числа.

Какие цифры вы знаете?



1

6

7

Однозначные числа.

2

8

4

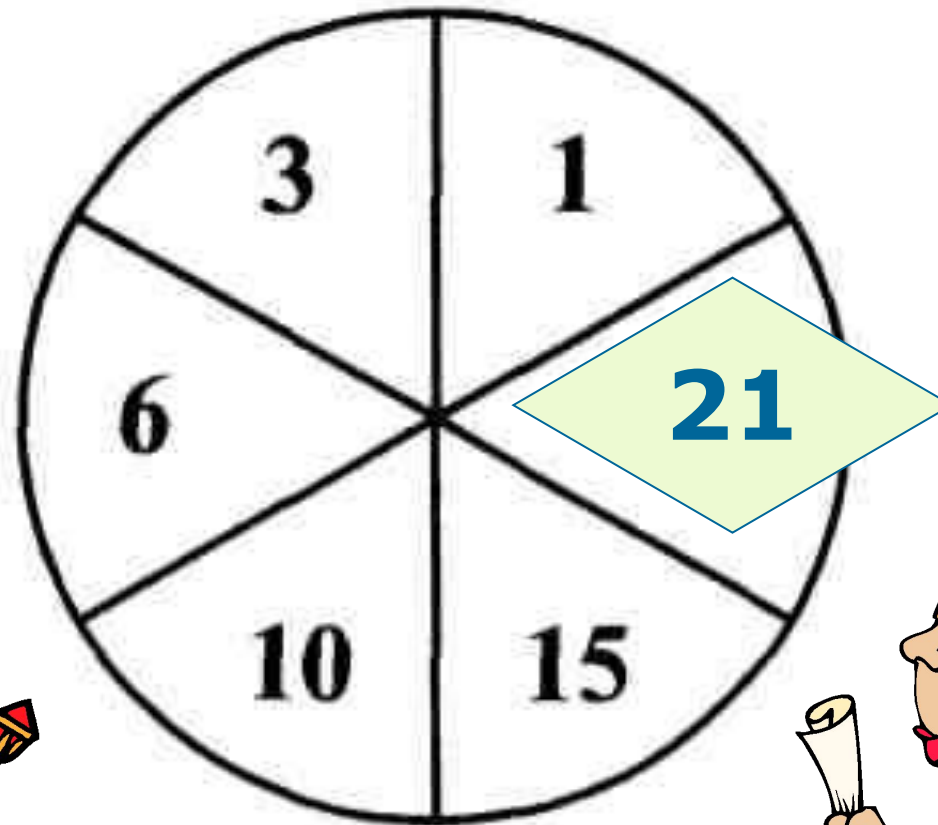
3

5

9

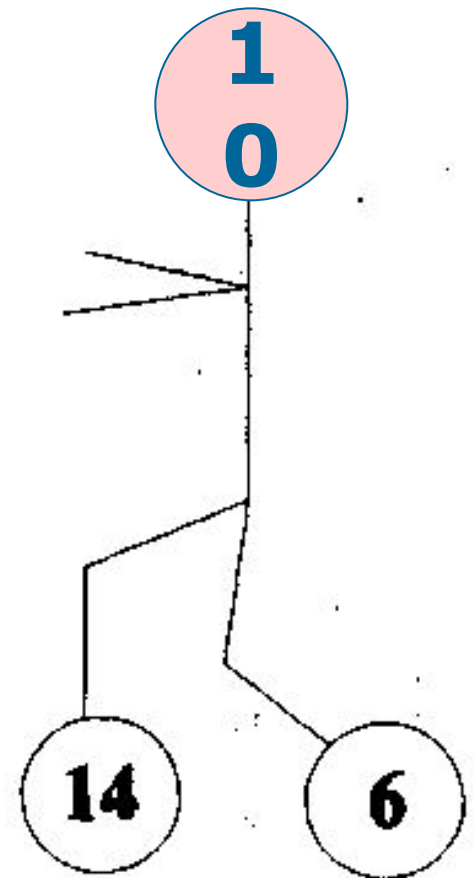
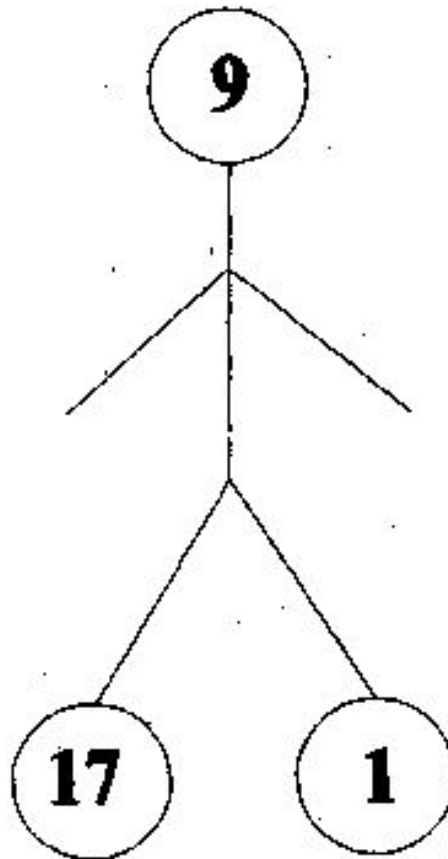
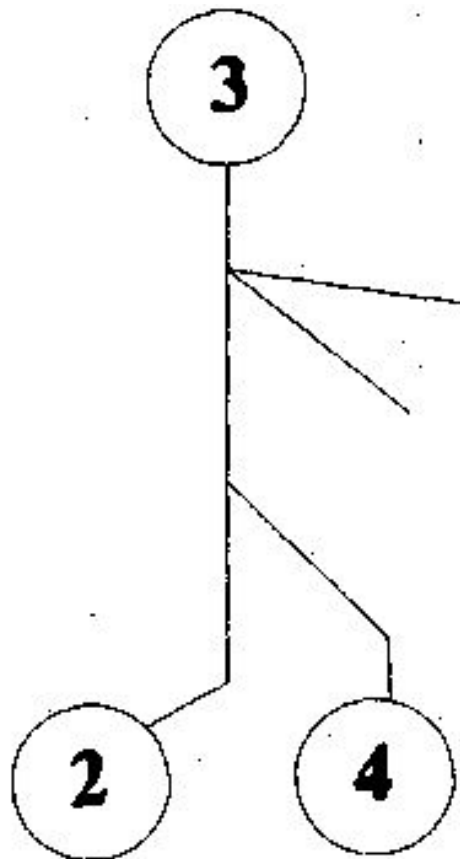
Все ли цифры относятся к натуральному ряду?

Определи неизвестное число.



Определи неизвестное число.

Найди закономерность!





27

39

75

Двузначные числа.

14

8

49

1

Трехзначные числа.

1234

5392

8613

**Четырехзначные
числа.**

Многочисленные числа.

900.584.243

27.335.090.481

Классы	миллиарды			миллионы			тысячи			единицы		
Разряды	сотни	десятки	единицы	сотни	десятки	единицы	сотни	десятки	единицы	сотни	десятки	единицы
Число	1	5	3	8	9	0	0	0	2	8	6	

Запись числа в виде суммы разрядных слагаемых.

- Запишите число в виде суммы разрядных слагаемых:

а) $2070003810 = 2000000000 + 70000000 + 3000 + 800 + 10$

б) $94003061004 =$

в) $145000807 =$

г) $20607021405 =$

№2, №3, №6



Домашнее задание:

**П.1, №4; №18(б,в);
№20.**



Попробуй сам нарисовать

чьих-либо портреты из цифр.

