

# Архитектура Древней Греции Акрополь

4. Назовите части колонны



1 капитель

2 ствол (фуст)

3 база

**Утонченная**

**Монолитная**

**Стройная**

**Изысканная**


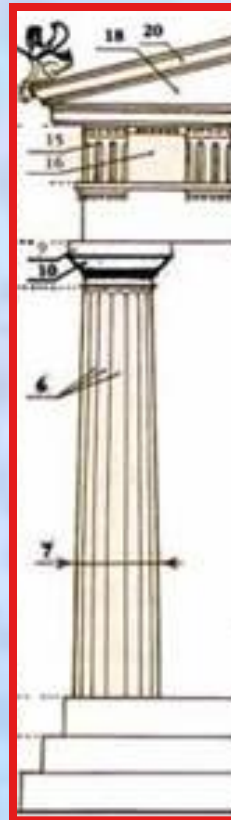

**Мощная**

**Женственная**

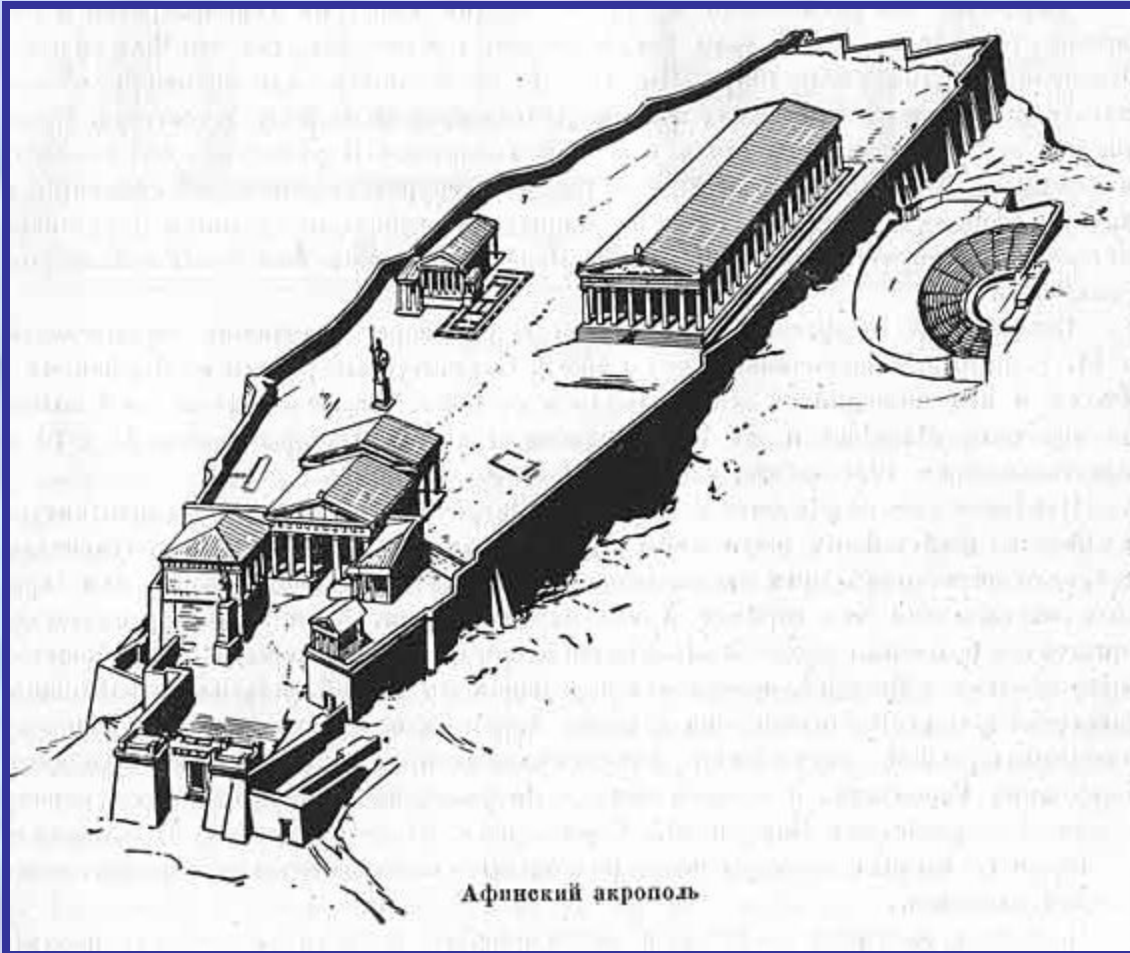
**Изящная**

**Кряжистая**

**Приподнятая**




# Чем красив Афинский акрополь?



*Основные особенности:*

- 1. Простота и ясность*
- 2. Нет математически точной симметрии, но весь ансамбль смотрится гармонично в природном окружении.*



# Акрополь Афин

1 Парфенон

2 Эрехтейон

3 Скульптура Афины

4 Пинакотека

6 Пропилеи

5 Храм Ники Аптерос

7 Театр Диониса



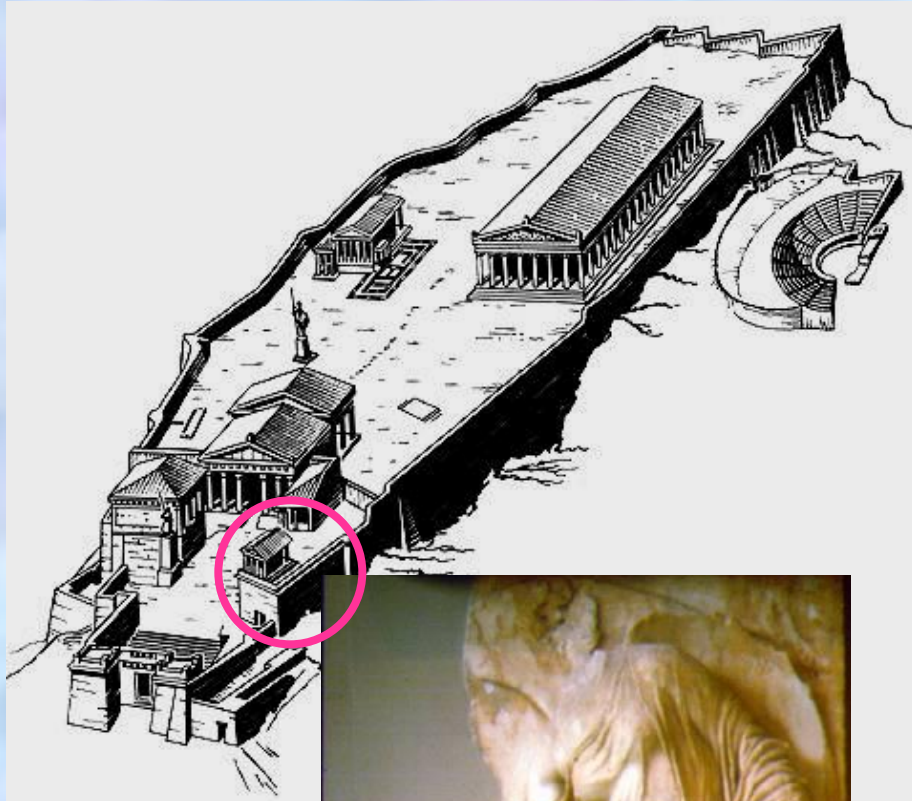
Шествие на Великие Панафинеи можно увидеть на мраморном фризе Парфенона.



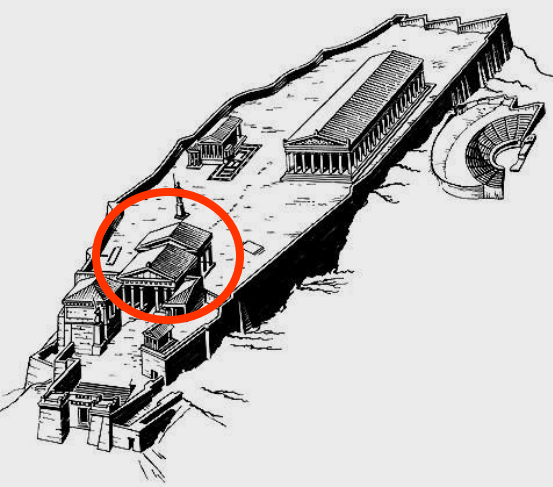
Несение пеплоса



# Акрополь Афин



*Храм Ники Аптерос*



Мимо храма Ники процессия поднималась по ступеням к Пропилеям




**Пропилеи** (от греч. *propylaion* – преддверие, вход) – парадный проход, проезд, образованный симметричными портиками и колоннадами, расположенными по оси движения



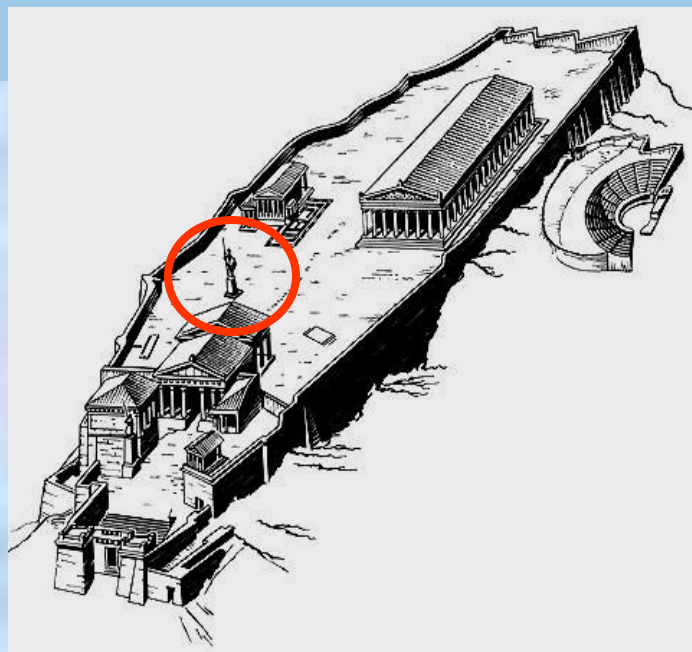
Мюнхен, Пропилеи, XIX век



Санкт-Петербург,  
Смольный, Пропилеи,  
XX век

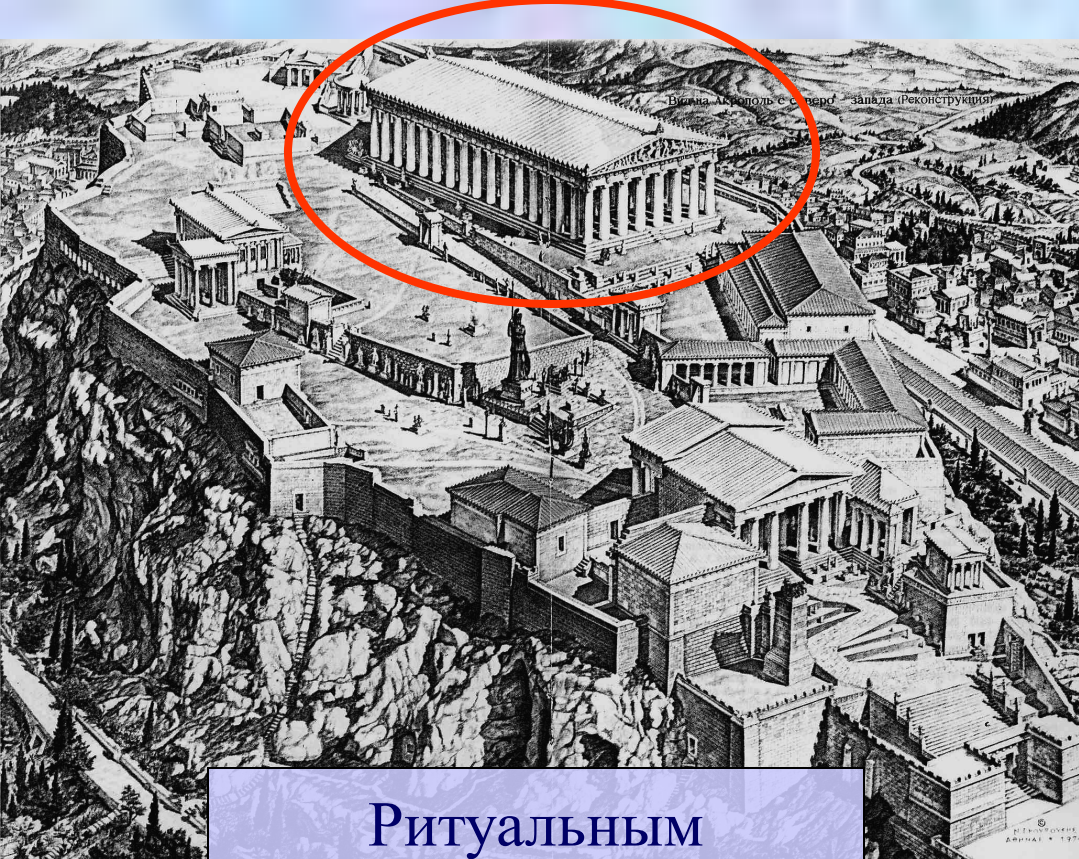


Берлин, Бранденбургские ворота, XVIII век



За Пропилеями взорам  
открывалась  
гигантская  
бронзовая статуя  
Афины Промахос (Воительницы),  
созданной Фидием.  
Ее копьё было самой высокой  
точкой Афин.

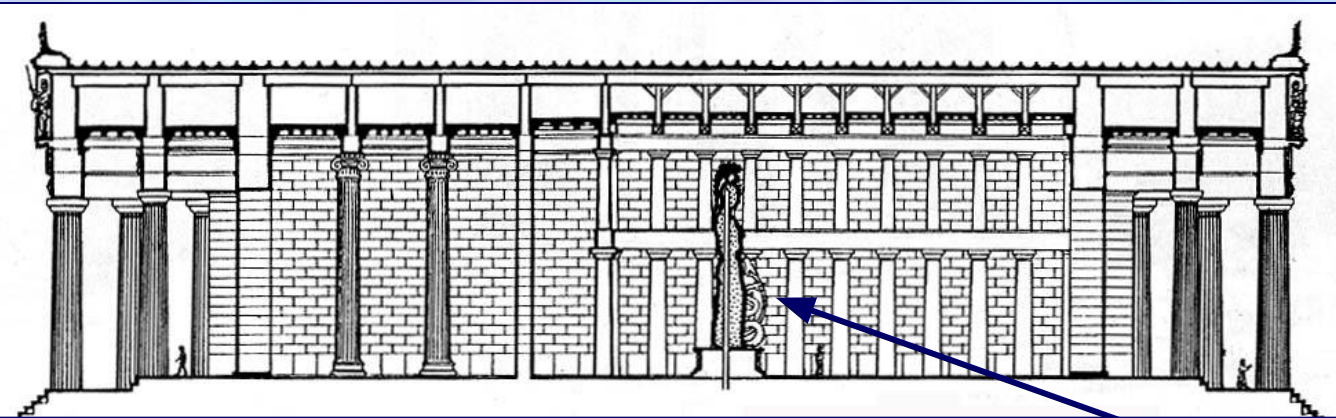




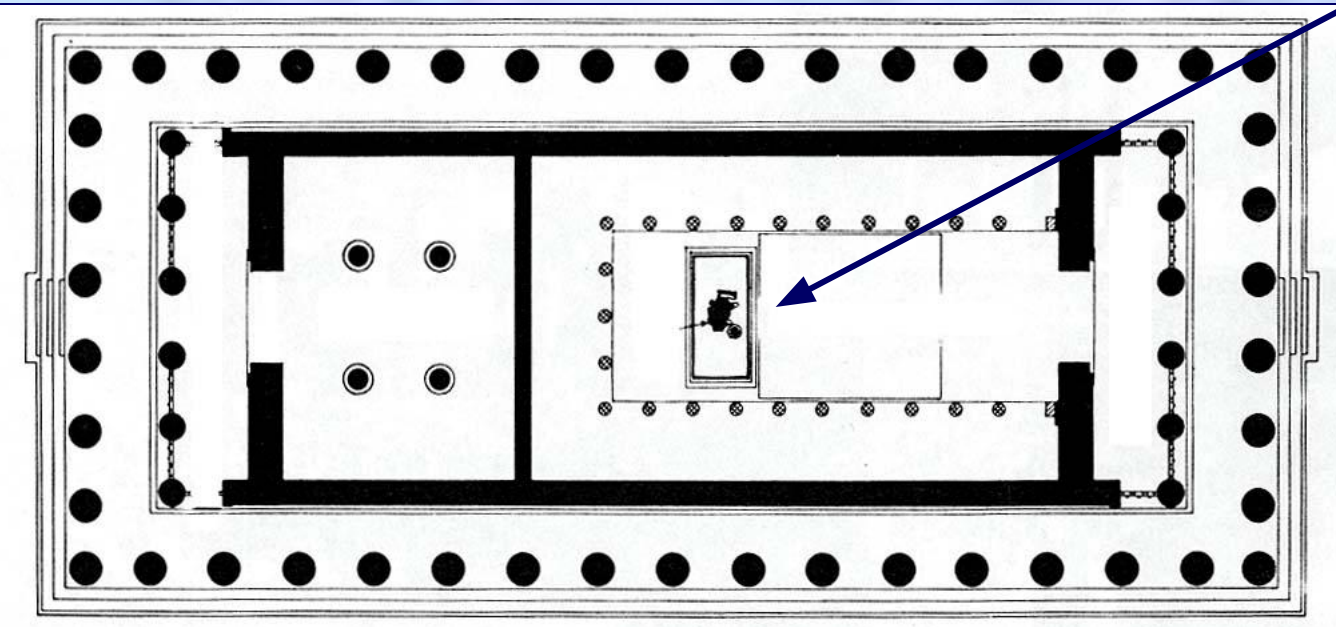
Ритуальным  
и композиционным  
центром  
Афинского акрополя  
является  
храм  
Афины Парфенос  
(Парфенон).

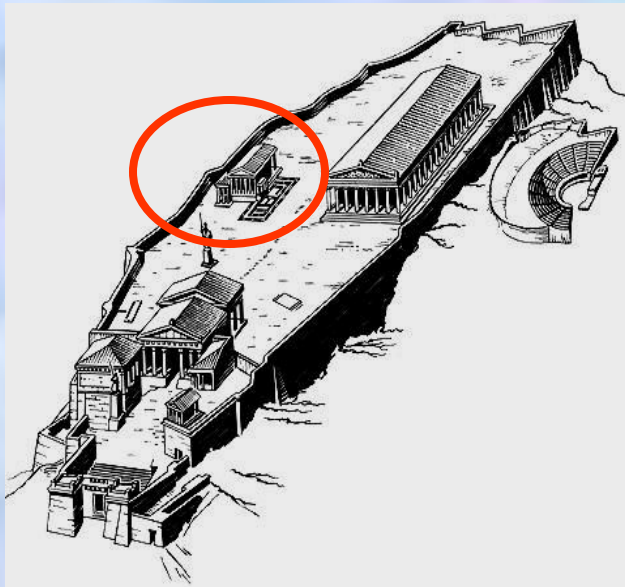


*Авторы:  
Иктин и  
Калликрат*



В центре Парфенона, в святилище, помещалась огромная статуя Афины Парфенос (Девы)

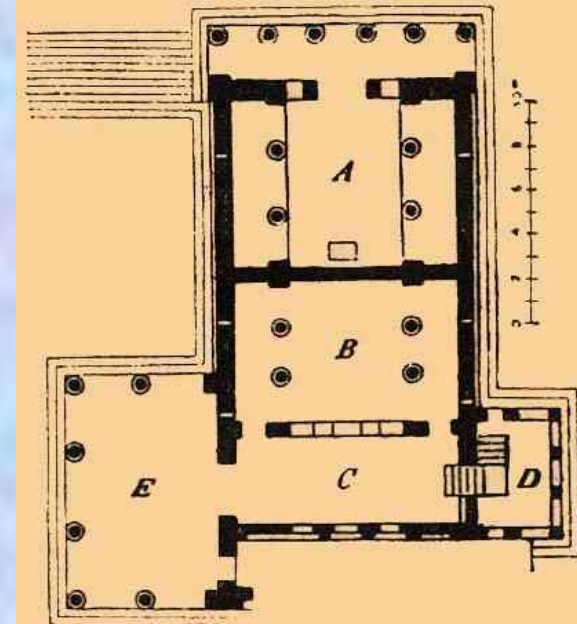




«Жемчужиной акрополя» называют небольшой храм  
**Эрехтейон.**


Он посвящен Афине и Посейдону, которые  
мифические времена спорили за главенство над городом.





2. Планъ Эрехейона.

Удивительно асимметричный храм с разных сторон производит разное впечатление.



# Постарайтесь правильно назвать цифры

Акрополь строили .....лет      8 лет

Расстояние от горы, где добывали мрамор до места  
постройки составляло ....км.      16 км

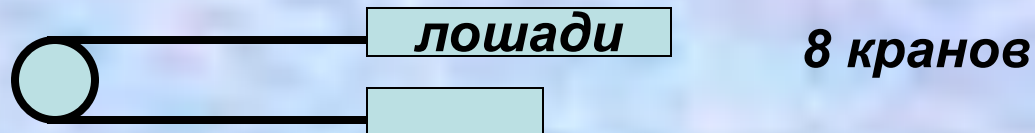
Перевозили мраморные блоки, отделяемые от породы вручную,  
на .....

бычьих повозках

Общий вес мраморных блоков составляет ...  
25 000 тонн.

Высота холма, на которую надо было поднять мрамор,  
составляет...м.      92 м.

Для поднятия мрамора использовали .... деревянных кранов



Колонны состояли из отдельных блоков, подогнанных так плотно,  
что между ними нельзя было....      просунуть лист бумаги



# Акрополь Афин



**Назовите все сооружения Акрополя**

# Подпиши названия

